

الجغرافيا المنهجية الجديدة

السنة الثانوية الثانية

فرع العلوم

الهيئة التربوية في دار الفكر اللبناني الأساتذة:

الأخت دانيال عون
د. أنطوان جبور
كريستيان خوري
أحلام أبو دياب
د. فادي تـوا
د. سليم ديب
فاديا بيطار
شربل طايح

الجغرافيا المنهجية الجديدة

السنة الثانوية الثانية
فرع العلوم

تأليف

د. طوني ساسين
د. جورج فرّن
د. إلهام بدران
وليد الطويل

تصميم: DFL

دار
المكر اللبناني

المركز الرئيسي: كورنيش بشارة الخوري-بناية تمارا- الطابق الأول-بيروت-لبنان
هاتف: +961 3 780974 (+961 1 630906 - 655500 - 644416) +961 1
فاكس: +961 1 630757
ص.ب.: 11-4699 بيروت لبنان رياض الصلح 11072170 بيروت لبنان
البريد الإلكتروني: daralfikrallubnani@hotmail.com

طبعة 2012

لا يسمح بأي طريقة بتصوير هذا الكتاب كله أو أي جزء منه، ولا يُسمح بنسخ كل الوسائل المرفقة به أو تصويرها.
يطلب الكتاب والوسائل المرفقة من الناشر والمكتبات.

جميع الحقوق محفوظة للناشر

دار
المكر اللبناني

جغرافيا العالم العربي



دروس المحور

الدرس الأول: موقع العالم العربي: وحدة جغرافية ومميزات استراتيجية.

الدرس الثاني: الخصائص الطبيعية للمجال العربي: أشكال جيومرفولوجية متنوعة ومميزات مناخية متطرفة.

الدرس الثالث: وحدات سياسية متعددة وأوضاع سكانية متبدلة.

الدرس الرابع: تربة ضعيفة وغطاء نباتي محدد.

الدرس الخامس: النفط والغاز في العالم العربي: أهمية استراتيجية عالمية.

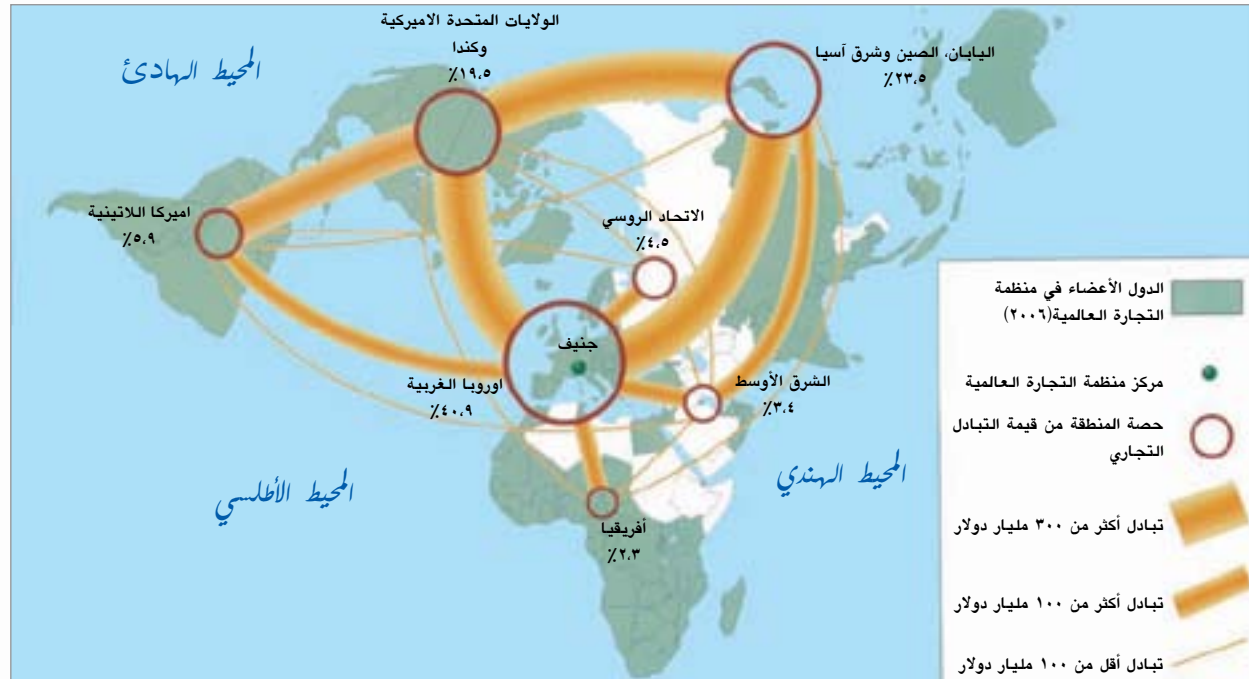
الدرس السادس: المياه في العالم العربي: موارد غير كافية.

الدرس السابع: التكامل الاقتصادي العربي: ضرورة لا بد منها.

استطاع الإنسان بفضل تكنولوجياته المتطورة مضاعفة الإنتاج وتوزيعه في مختلف أقطار العالم بسرعة فائقة. وقد أدى هذا التطور إلى تفعيل العلاقات الدولية وتخفيف الحدود السياسية، وبذلك تحول العالم إلى قرية كبرى يتم فيها التبادل التجاري والتفاعل الحضاري والثقافي والتكنولوجي.

ويمتاز هذا العالم الجديد بالتخصص والمنافسة. ولكي لا تطغى مجتمعات قوية ودول غنية على دول أخرى ضعيفة وفقيرة، تكتلت الدول التي تجمعها خصائص طبيعية وحضارية وثقافية واجتماعية واقتصادية مشتركة، ضمن بوتقة واحدة يتم من خلالها التكامل الاقتصادي والحضاري وتنظم ضمن المجال العالمي الجديد.

■ هل تتوفر للمجال العربي هذه الأطر المشتركة وتجعل منه مركزاً فاعلاً في العلاقات الدولية المستقبلية؟



مستند ٢: التبادل التجاري العالمي في العام 2006.

■ هل يلعب العالم العربي دوراً مهماً في التجارة العالمية؟ ولماذا؟



مستند ١: العالم العربي.

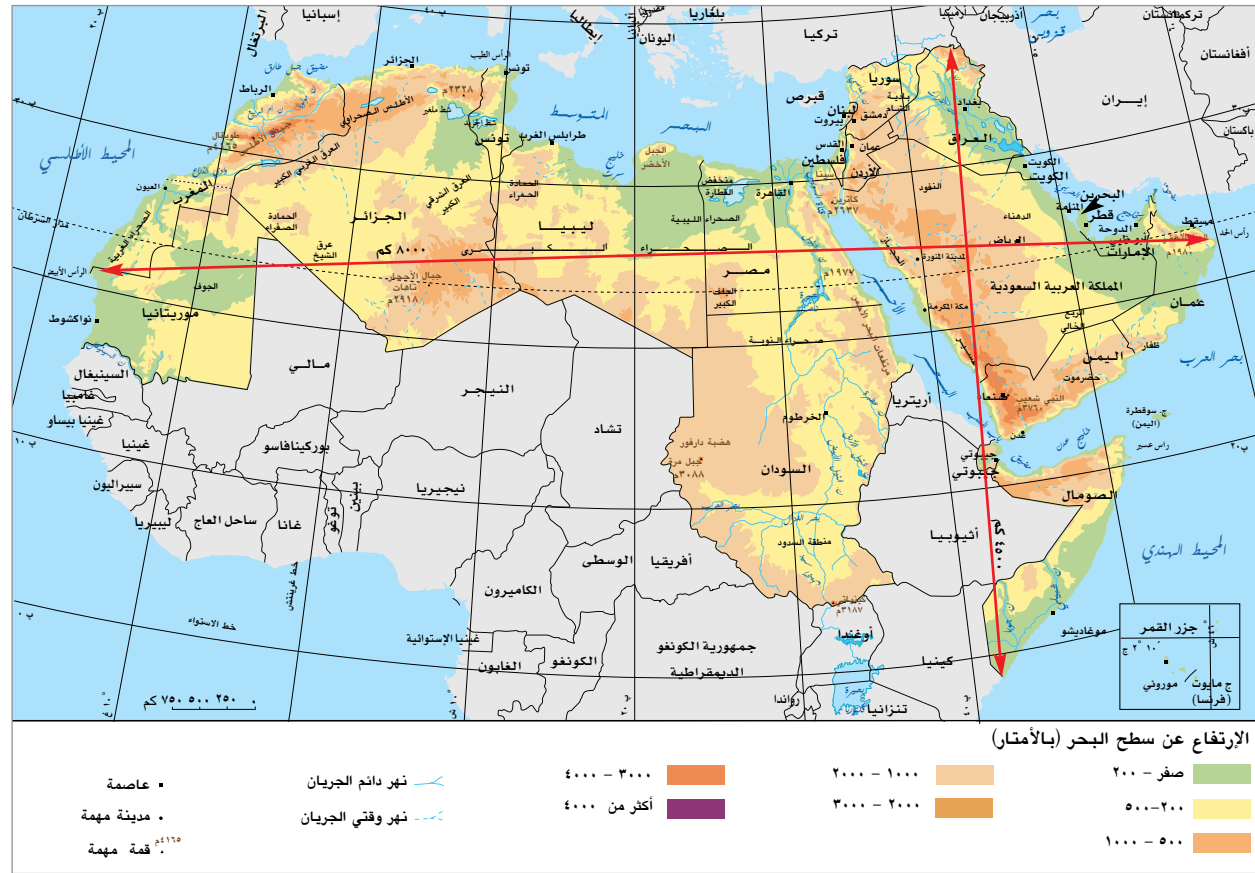
■ حدّد موقع العالم العربي وامتداده بالنسبة للقارات.



مستند ٣: المناطق الزمنية في العالم العربي.

- كم وحدة زمنية يشملها العالم العربي؟
- احتسب فرق التوقيت بين عُمان وموريتانيا.

- يمتدُّ العالم العربيُّ على مسافة ٨٠٠٠ كلم تقريباً بين خليج عمان شرقاً وسواحل المحيط الأطلسي غرباً، وعلى مسافة ٤٥٠٠ كلم تقريباً بين حدود العراق الشمالية وحدود الصومال الجنوبية (مستند ٢).
- الأراضي العربية متصلة الأجزاء، ولا يُشكّل البحر الأحمرُ فاصلاً طبيعياً مهمّاً فيها وذلك بسبب عرضه الضيق. إنه عبارة عن قناة ملاحية بحرية، عربية ودولية.



- مستند ٢: الامتداد الجغرافي للعالم العربي.
- سمِّ الدول التي تمر فيها خطوط الطول ودوائر العرض الرئيسية.
 - حدّد مواقع المسطحات البحرية التي يشرف عليها العالم العربي.

الدرس ١

موقع العالم العربي

وحدة جغرافية ومميزات استراتيجية

إشكالية الدرس

يحتلُّ العالم العربيُّ موقعاً جغرافياً وسطياً على خريطة توزع القارّات المأهولة. ولهذا الموقع المميّز أهميةً استراتيجيةً كبرى تجلّت مظاهرها في الأحداث التاريخية التي كان العالم العربيُّ مسرحاً لها. فعلى أرض هذه المنطقة تمحورت صراعات دولية كبيرة واندلعت حروبٌ طاحنة متعدّدة لا يزال بعضها مستعراً حتى يومنا هذا.

- ما مميزات الموقع الذي يحتله العالم العربيُّ؟
- أين تكمن الأهمية الاستراتيجية لهذا الموقع؟



مستند ١: العالم العربي وتوزع القارات.

- هل يشغل العالم العربي بالفعل موقعاً وسط القارات؟ أوضّح ذلك.
- هل هناك وحدات جغرافية أخرى في العالم تتوفر لها الخصائص عينها؟
- حدّد موقع العالم العربي بالنسبة لقارّات العالم القديم.



مستند ٦: مضيق جبل طارق.

■ بين أهمية المضائق والممرات البحرية من خلال الصورة.



مستند ٧: قناة السويس (مصر).

■ حدّد الموقع الجغرافي لهذه القناة وشرح أهميتها الاستراتيجية على صعيد التجارة والملاحة الدولية.

- يشرف العالم العربي على ٥ مسطحات مائية مهمة هي: المحيط الأطلسي والمحيط الهندي والبحر المتوسط والبحر الأحمر والخليج العربي. ولهذه المسطحات دورٌ فاعل في التجارة والاتصالات الدولية (مستند ٤).

- يتحكّم العالم العربي بأربعة ممرات بحرية بالغة الأهمية هي مضيق جبل طارق، مضيق باب المندب، مضيق هرمز وقناة السويس (مستند ٤ و ٦).

٢ - الموقع: أهمية استراتيجية

يمكن تأكيد الأهمية الاستراتيجية للعالم العربي من خلال الحقائق التالية:

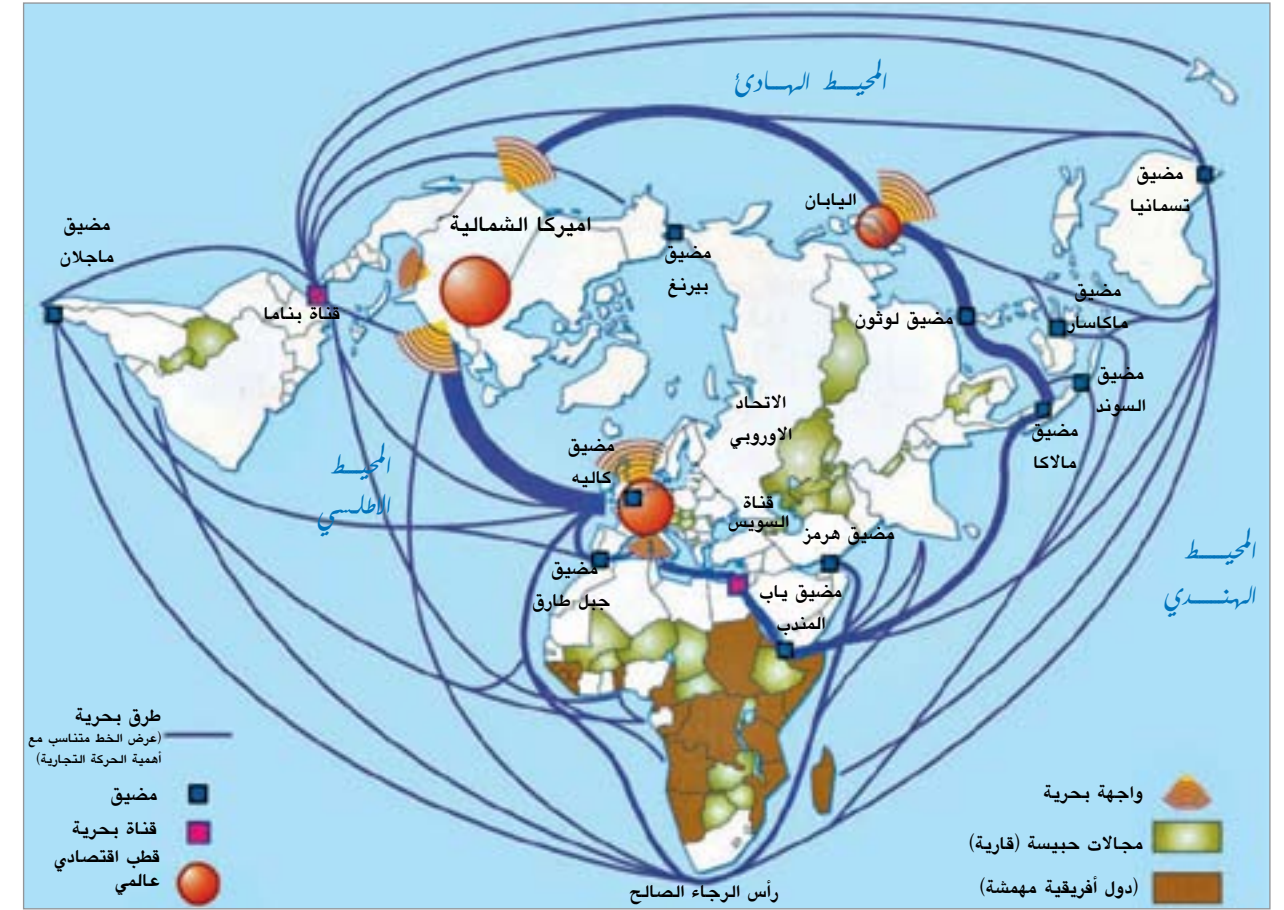
- أدى الامتداد الواسع للعالم العربي على طرفي مدار السرطان إلى خضوع معظم الأراضي العربية لهيمنة الصحراء. وهذا الواقع دفع بالمجموعات السكانية إلى التمرکز حول المصادر المائية التي شكّل إستخدامها ولا يزال خلافات ونزاعات بين دول المنطقة.

- أعطى إمتداد الدول العربية على الشواطئ الجنوبية والشرقية للبحر المتوسط بعداً حضارياً بارزاً. فحول هذا البحر ظهرت معظم الحضارات القديمة وكلّ الديانات السماوية، وبالقرب منه نشأت الحضارات الفارسية والبيزنطية... (مستند ٥).

- شكّلت الأراضي العربية عبر التاريخ الطريق الأقصر بين دول حوض المتوسط والشرق الأقصى. وبعد شقّ قناة السويس (مستند ٧) التي قصّرت الطريق التجاري بنسبة ٤٠٪ بين أوروبا الصناعية والشرق الأقصى الغني بالمواد الأولية، تضاعفت الأهمية التجارية للعالم العربي وتساقت الدول الكبرى لوضع الممرات البحرية العربية تحت نفوذها.

- حرّك ظهور النفط في بعض الدول العربية مطامع الدول الكبرى ففرضت هيمنتها الاستثمارية على مناطق واسعة من العالم العربي، وأحكمت قبضتها على الممرات المائية. أضف إلى ذلك أنّ التجاذبات السياسية التي تشهدها المنطقة العربية حالياً هي دليل واضح على مدى الأهمية الاستراتيجية لهذه المنطقة.

- يحتلّ العالم العربي موقعاً مميزاً ومتقدماً بين دول الجنوب التي تحظى بثقل ديمغرافي ظاهر، وبثروة طبيعية ضخمة، وبين دول الشمال التي تتميز بنمو سكاني بطيء، وتتقدم صناعي نوعي مميز.



مستند ٤: طرق المواصلات البحرية العالمية.

■ ناقش أهمية موقع العالم العربي بالنسبة للطرق الرئيسية في التجارة الدولية.



مستند ٥: قلعة تدمر (سوريا).

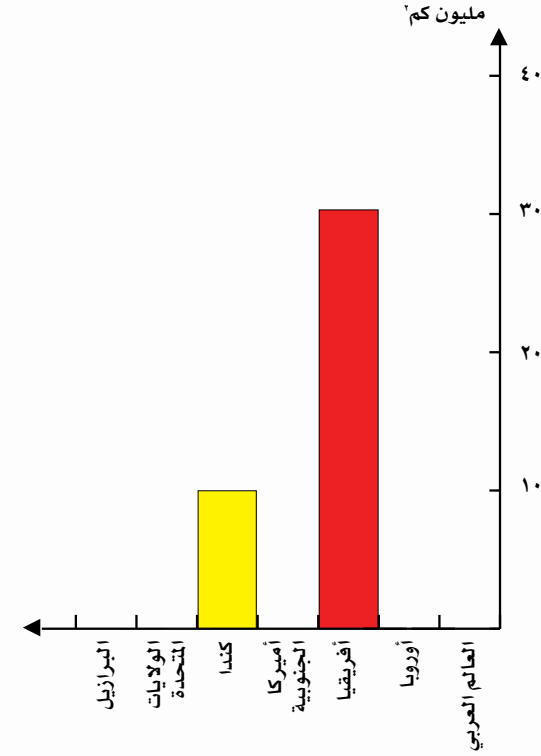
■ هل تبين هذه القلعة الأهمية التاريخية للعالم العربي؟ فسّر ذلك.

■ أين تقع هذه القلعة؟

أنشطة ومهارات

١ - توزيع القارات وبعض الدول الكبرى بحسب المساحة.

القارة	المساحة كم ^٢	العالم العربي ودول كبرى	المساحة كم ^٢
آسيا		كندا	
أوروبا		الولايات المتحدة	
أميركا الشمالية		الاتحاد الروسي	
أميركا الجنوبية		الصين الشعبية	
أفريقيا		البرازيل	
أوقيانوسيا		العالم العربي	



- املاء هذا الجدول بالاستناد إلى أحد المراجع الموثوقة.
- اكمل الرسم البياني المرفق بالاستناد إلى المعطيات الإحصائية التي حصلت عليها.
- قارن بين مساحة العالم العربي ومساحة كل قارة من القارات. ماذا تلاحظ؟
- هل يستطيع العالم العربي أن يلعب دوراً عالمياً بالنظر إلى المساحة التي يشغلها؟ فسّر ذلك.

٢ - أهمية الموقع التجاري للعالم العربي.



- أرسم على الخريطة المرفقة الخط التجاري البحري الذي يبدأ من مضيق جبل طارق ويدور حول أفريقيا حتى الهند.
- ارسم خطاً تجارياً بحرياً ثانياً يعبر بعض مناطق العالم العربي ويصل حتى الهند.
- حدّد المضائق التي يمر فيها الخط الثاني.
- ناقش من خلال ما تقدّم الأهمية التجارية لموقع العالم العربي.
- هل تجد فرقاً بين أهمية قناة السويس وأهمية مضيق جبل طارق؟ أوضح ذلك.

٣ - نشرت مجلة الصياد في عددها الصادر في ٢ أيار ١٩٨٤ وثيقة التطمين الأميركية لدول الخليج العربي. وقد جاء فيها ما يلي:

يجب على دول الخليج أن لا تخطئ في تصميم الولايات المتحدة على الدفاع عن مصالحها الحيوية في منطقة الخليج.

إنّ الرئيس رونالد ريغان ما زال على موقف ثابت من استعداد الولايات المتحدة على استخدام القوة، إن دعت الحاجة، لإبقاء الممرات المائية سالكة أمام الملاحة الدولية (يقصد هنا مضيق هرمز).

إنّ التطورات الأخيرة للحرب بين العراق وإيران زادت الحاجة إلى السرعة في اتخاذ القرار من أجل التخطيط المسبق بيننا وبينكم من أجل حماية مصالحنا المشتركة.

توافق حكومة الولايات المتحدة على رأي دول الخليج الخاص باستمرار العمل لإيجاد حل سياسي للحؤول دون توسع رقعة هذه الحرب. وستبقى حكومتنا تضغط على أصحاب القدرة على التأثير على إيران لإقناع القيادة الإيرانية بأنّ إيران ليس في مقدورها الانتصار في هذه الحرب ميدانياً أو في الاستنزاف الاقتصادي. وفي نفس الوقت نحن نقنع العراق بعدم اللجوء إلى أخذ قرار عسكري يمكن من جزائه قطع تصدير النفط حتى لا تلجأ إيران إلى إغلاق مضيق هرمز أو ضرب أراضي الدول الخليجية أو قطع الملاحة أمام صادراتها و وارداتها.

أسئلة

- ١ - حدّد موقع العالم العربي بالنسبة للاحداثيات الجغرافية.
- ٢ - حدّد المناطق الزمنية التي يشغلها العالم العربي.
- ٣ - اشرح العلاقة الجغرافية بين العالم العربي والقارات المأهولة.
- ٤ - حدّد أهمية الممرات والمضائق البحرية بالنسبة للعالم العربي.
- ٥ - اشرح العوامل التي تجعل من العالم العربي محوراً للصراعات الإقليمية والدولية.



- احسب عرض مضيق هرمز من خلال الخريطة المرفقة.
- حدّد الدول المحاذية لهذا المضيق.
- بيّن النصّ أنّ للولايات المتحدة مصالح حيوية في الخليج العربي. ما هذه المصالح؟ هل يمكن إقفاله؟ المضيق؟ ما هي الدول التي يمكن أن تتضرر من إقفاله؟
- يشير النصّ إلى اهتمام دولي للمحافظة على سلامة الملاحة في مضيق هرمز. علّل أسباب ذلك.
- هل يُظهر النصّ الأهمية الاستراتيجية للعالم العربي؟ أوضح ذلك.
- كان للحرب العراقية الإيرانية، آثار سلبية على اقتصاديات الدول العربية. أعد ملفاً حول أسباب هذه الحرب ونتائجها.