

الجغرافيا المنهجية الجديدة

السنة الثانوية الثالثة

فرع العلوم العامة - علوم الحياة - اجتماع واقتصاد

يكمله: - دليل معلم

- تمارين تفاعلية على الألواح الذكية

الهيئة التربوية في دار الفكر اللبناني الأساتذة

الأخت دانيال عون
د. فادي تـوا
د. خالد فاضل
كريستيان خوري
د. جوزيف شهدا
فاديا بيطار وزنه
أحلام أبو دياب

الجغرافيا المنهجية الجديدة

السنة الثانويّة الثالثة

فرع العلوم العامة - علوم الحياة - اجتماع واقتصاد

تصميم: DFL

طباعة: BYBLOS PRINTING

دار
المكر اللبناني

المركز الرئيسي: كورنيش بشارة الخوري-بناية تمارا- الطابق الأول-بيروت-لبنان

هاتف: +961 3 780974 (630906 - 655500 - 644416) 1 961 +

فاكس: +961 1 630757

ص.ب.: 11-4699 بيروت لبنان رياض الصلح 11072170 بيروت لبنان

البريد الإلكتروني: info@dfi.com.lb

الموقع الإلكتروني: www.dfi.com.lb

طبعة 2019

لا يسمح بأيّة طريقة بتصوير هذا الكتاب كلّهُ أو أيّ جزء منه، ولا يُسمح بنسخ أيّ من الوسائل المرفقة به أو تصويرها. يُطلب الكتاب والوسائل المرفقة من الناشر والمكتبات.

جميع الحقوق محفوظة للناشر

تأليف وإعداد

ماتيلد أبوراشد

د. سليم ديب

وليد الطويل

جوزيف مكروس

دار
المكر اللبناني

إنّ هذا الصّفّ له أهميّة كبرى لأنّه ينهي مرحلة ويمهّد للمرحلة الجامعيّة، لذا يتمّ في نهايته الخضوع لامتحانات رسميّة، لها أسسها وللأسئلة فيها قواعد وللإجابات أصول. من هذا المنطلق عملنا على أن نقدّم لك المعارف والمفاهيم الجغرافيّة بشكل مبسّط ومتلائم مع الأهداف التعلّميّة التعليميّة التي أقرّتها المناهج الجديدة والتي توضع الأسئلة على أساسها، فاعتمدنا النصوص الملائمة وبلغه واضحة، كما اعتمدنا التبويب الذي يوضح الموضوع ويسهّل الاستيعاب.

بما أنّ الامتحانات الرسميّة تعتمد بشكل أساسيّ على المستندات فقد اخترنا من أجل ذلك مستندات هادفة ومتنوّعة من خرائط ورسوم بيانيّة وجداول إحصائيّة ونصوص وصور وأرفقناها بأسئلة مناسبة بعضها يعتمد على المستند والبعض الآخر ينطلق منه. وأتت الأنشطة والمهارات لتكرّس المفاهيم والأهداف المرجو تحقيقها وفق أسس التقييم التي فرضتها المناهج الجديدة والتي تتماشى مع المفاهيم الحديثة للتربية في العالم.

عزيزنا الطالب،

لقد اعتمدنا نمط الأسئلة المطروحة في الامتحانات الرسميّة وذلك للتدريب على معالجتها بطريقة صحيحة توصلك للنجاح.

تمّ إنجاز هذا الكتاب وفق ما جاء في المناهج الجديدة فأتى متضمّنًا لتسعة عشر درسًا، وحرصنا على أن تكون بنية الدروس واحدة في كل الكتاب. فبعد صفحتين تمهّدان لكل محور، يبدأ كل درس بالإشكاليّة التي تطرح تساؤلات تشكّل الأهداف التعلّميّة - التعليميّة للحصّة الدراسيّة والتي على التلميذ الإطّلاع عليها والعمل على ضوئها خلال العمل على المستندات. لقد أرفقنا كل مستند بعدد من الأسئلة الهادفة، كما ميّزنا المصطلحات الجغرافيّة مقابل الفقرات المرتبطة بها لتسهيل فهم المعلومات.

وأخيرًا تمّ إرفاق الكتاب بخريطة سياسية للعالم يجب البدء بها في الحصّة الأولى ومتابعة التدريب عليها، بالإضافة إلى خرائط صامته للقارّات يتمّ استخدامها في مختلف الدروس؛ لتأكيد اكتسابك مهارة تحديد المواقع الضروريّة في منهج هذا الصّفّ.

المؤلّفون

المقدمة

عزيزنا الطالب،

«الجغرافيا المنهجية الجديدة»، سلسلة كتب مدرسيّة نقدّمها لطلّاب مرحلة التعليم الثانويّ في لبنان وفقًا للمناهج الجديدة للتعليم الرسميّ الصادرة بموجب المرسوم رقم ١٠٢٢٧ تاريخ ١٩٩٧/٥/٨.

في هذا الجزء الثالث والأخير من هذه السلسلة، اعتمدنا المبادئ والمنطلقات التي ارتكزت عليها المناهج الجديدة لمادّة الجغرافيا. تهدف المبادئ والمنطلقات في السنة الثالثة من مرحلة التعليم الثانويّ إلى:

– تعميق معرفتك بالعالم المعاصر وإغناء شخصيتك العلميّة والثقافيّة.

– لفتك إلى ما يدور في العالم من أحداث مصيريّة وإنماء القدرة لديك على فهم المتغيّرات الحاصلة وتحليل واقعها واتّجاهاتها بمنظور علميّ جغرافيّ.

– تنمية النظرة العالميّة لديك كي تدرك أنّ أجزاء العالم مترابطة على بعد المسافات وأنّ هذه الأجزاء يتأثّر بعضها ببعض الآخر بفضل التطوّر العلميّ المتسارع وحاجات التبادل المتزايدة والعلاقات الدوليّة المتشابكة.

– إطلاعك على القضايا العالميّة ذات الاهتمام المشترك وتزويدك بالمعطيات الإحصائيّة لتمكينك من إجراء البحث والمقارنة والاستنتاج وتحديد المواقف.

– إكسابك معطيات أساسيّة عن مستجدات العصر والإنجازات العلميّة من خلال ثورة المواصلات والاتّصالات.

– تنمية الروح النقدي لديك وتعزيز السلوك الإيجابي في تحليل القضايا السياسيّة والاقتصاديّة والاجتماعيّة بمنهجية علميّة.

محتويات الكتاب

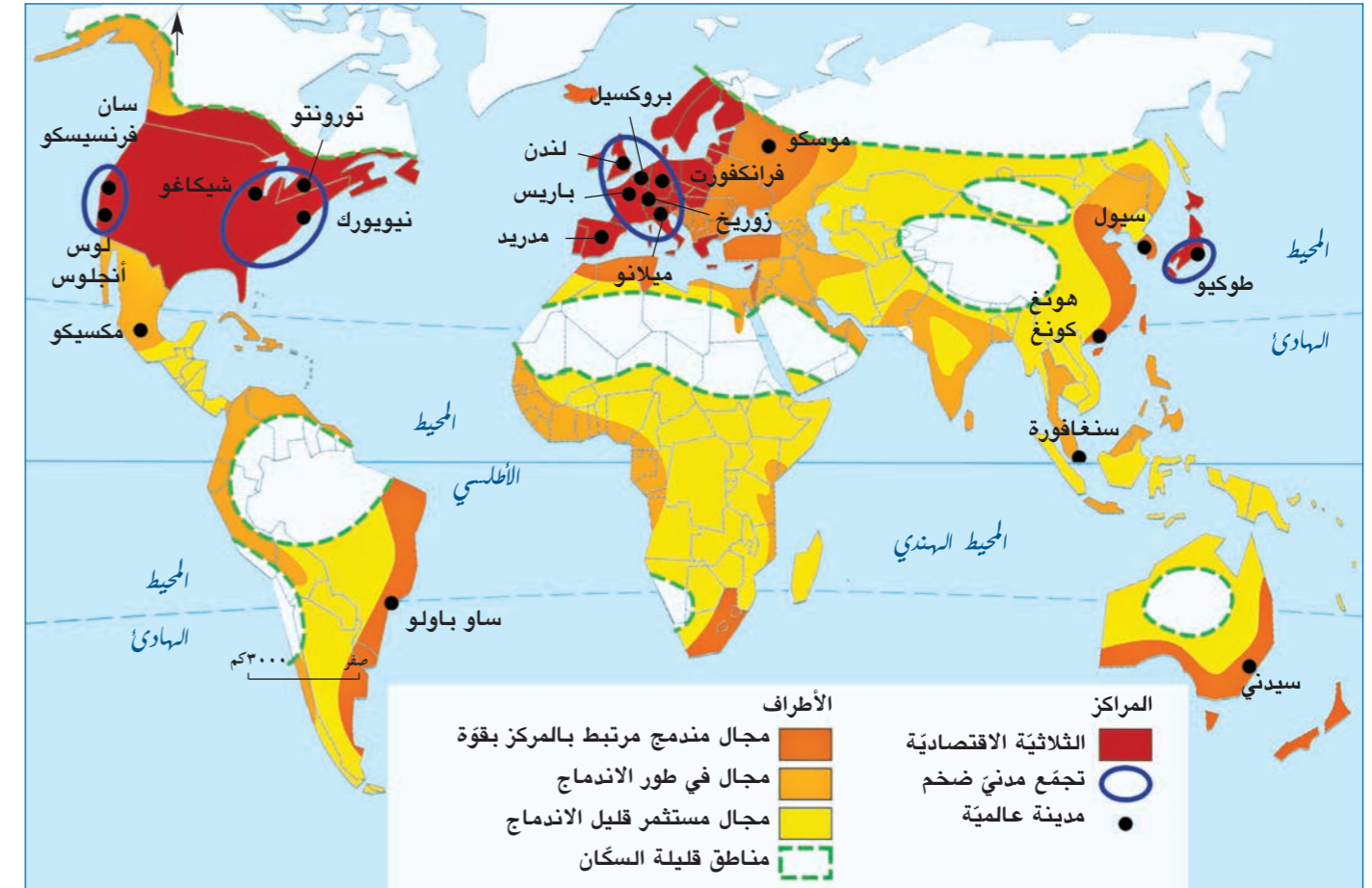
الصفحة	
١٠	المحور الأول: المجال العالمي الجديد: انفتاح اقتصادي وتناقضات بارزة
١٢	الدرس الأول: خريطة المجال العالمي الجديد: تحولات ومراكز قوى
٢٠	الدرس الثاني: مظاهر الوحدة في النظام العالمي الجديد ونتائجها
٢٨	الدرس الثالث: عالم الشمال: دول متميزة اقتصادياً
٣٦	الدرس الرابع: عالم الجنوب: اضطراب اقتصادي ومصاعب اجتماعية
٤٤	الدرس الخامس: العلاقة بين الشمال والجنوب: تفاعل ثقافي وهيمنة اقتصادية
٥٢	الدرس السادس: الحوار بين الشمال والجنوب: محاولة للتقارب
٦٠	المحور الثاني: ثورة المواصلات والاتصالات: مواكبة للتكنولوجيا ودفع للاقتصاد
٦٢	الدرس السابع: شبكة المواصلات: مواكبة للتقنية وإنماء للاقتصاد
٧٠	الدرس الثامن: شبكة المواصلات: النقل البري والجوي: قدرات متباينة
٧٨	الدرس التاسع: شبكة الاتصالات الدولية: تطوّر متسارع
٨٤	المحور الثالث: التبادل التجاري: شمولية عالمية وأهمية استراتيجية
٨٦	الدرس العاشر: حركية التبادل التجاري: عولمة شاملة
٩٤	الدرس الحادي عشر: التنافس الدولي في مجال التجارة العالمية
١٠٢	الدرس الثاني عشر: التجارة الدولية بين التقييد والتحرير
١١٠	الدرس الثالث عشر: القمح: سلعة استراتيجية عالمية
١١٨	الدرس الرابع عشر: النفط (١): محرك الاقتصاد العالمي
١٢٦	الدرس الخامس عشر: النفط (٢): تنمية شاملة وصراع استراتيجي
١٣٢	الدرس السادس عشر: الغاز الطبيعي منافس للنفط
١٤٠	المحور الرابع: القضايا العالمية: أخطار ومشاكل مصيرية
١٤٢	الدرس السابع عشر: البطالة: مشكلة حادة
١٤٨	الدرس الثامن عشر: أزمة الطاقة: أزمة اقتصادية وسياسية
١٥٤	الدرس التاسع عشر: التلوث البيئي: مشكلة عالمية بحاجة إلى حلول
١٦٣	نماذج لامتحانات الرسمية مع معيار تصحيح كل منها (من دورة ٢٠١٧ حتى دورة ٢٠١٩)

المجال العالمي الجديد: انفتاح اقتصادي وتناقضات بارزة

أحدثت الثورة الصناعية والتكنولوجيا المتطورة مجموعة من التناقضات الاقتصادية والاجتماعية والمعيشية بين الشعوب، وبالمقابل انهارت حدود الدول، وتقلصت المسافات، ودخلت التجمعات البشرية، رغم اختلاف ثقافات ولغاتها وألوانها، في مجال عالمي جديد. يتألف هذا المجال حاليًا من حوالي ٢٠٠ دولة، وتسوده مظاهر الوحدة والتناقض بين عالم الشمال وعالم الجنوب وفي داخل كل منهما.

- ما هي خصائص هذا المجال العالمي وخصائص عالم الشمال وعالم الجنوب، وكيف هي العلاقات بينهما؟

دروس المحور:
الدرس الأول: خريطة المجال العالمي الجديد: تحولات ومراكز قوى
الدرس الثاني: مظاهر الوحدة في النظام العالمي الجديد ونتائجها
الدرس الثالث: عالم الشمال: دول متميزة اقتصاديًا
الدرس الرابع: عالم الجنوب: اضطراب اقتصادي ومصاعب اجتماعية
الدرس الخامس: العلاقة بين الشمال والجنوب: تفاعل ثقافي وهيمنة اقتصادية
الدرس السادس: الحوار بين الشمال والجنوب: محاولة للتقارب



مستند ١: خريطة تنظيم المجال الاقتصادي العالمي.



مستند ٣: متشرد في أحد أحياء نيويورك (الولايات المتحدة).



مستند ٢: مدينة نيويورك (الولايات المتحدة).



مستند ٥: أكواخ في مدينة بومباي (الهند).

٢. قارن المستنديين ٣ و ٥ واستنتج.



مستند ٤: مدينة دبي (الإمارات العربية المتحدة).

١. قارن المستنديين ٢ و ٤ واستنتج.

خريطة المجال العالمي الجديد: تحوّلات ومراكز قوى

الأهداف: أصبح قادرًا على أن:

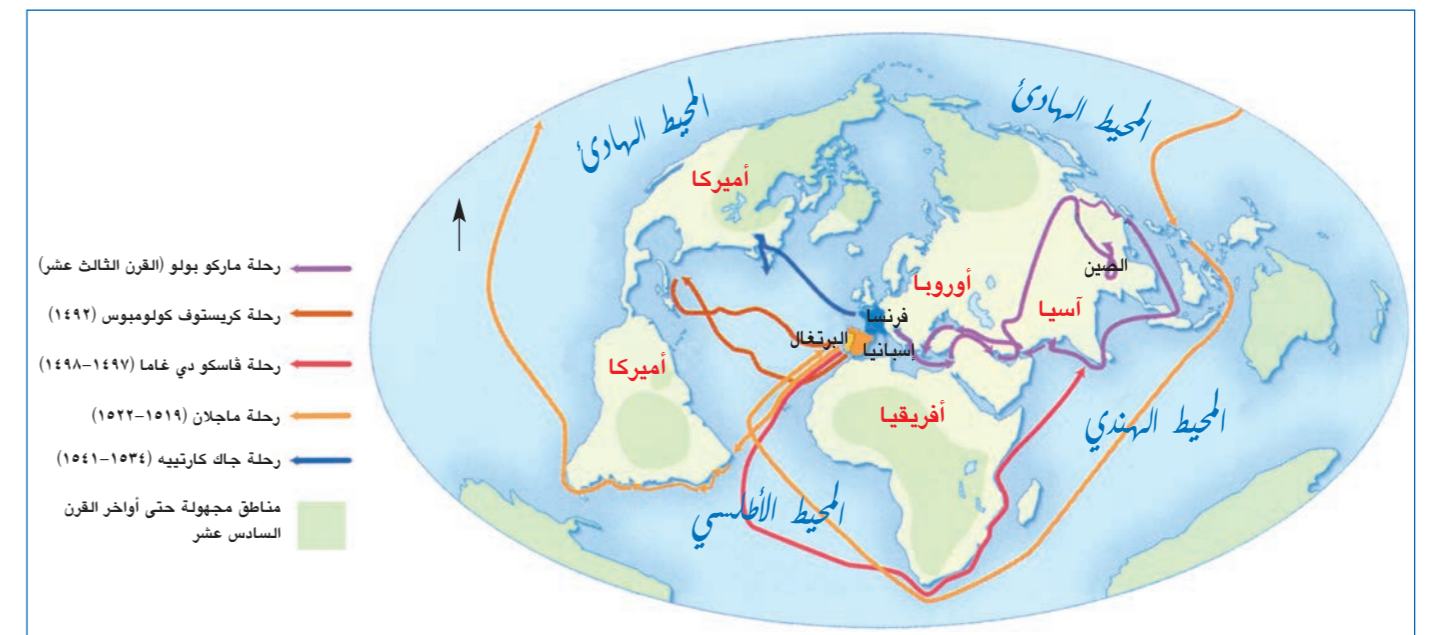
- أعرف مفهوم المجال العالمي الجديد والنظام العالمي الجديد.
- أوضح تطوّر المجال العالمي عبر التاريخ.
- أحدّد مظاهر الأحادية في النظام العالمي الجديد.
- أوضح أوجه التناقض في النظام العالمي الجديد وخطورته.
- أحدّد توزّع القوى السياسية والاقتصادية في النظام العالمي الجديد.

تطوّرت بعض دول العالم صناعيًا وعملت على نشر العولمة التجارية لكسب أسواق لإنتاجها ولتأمين المواد الأولية لمصانعها؛ وتخلّفت دول أخرى عن اللحاق بالدول الصناعية، فراحت تجابه العولمة التجارية التي طبعت المجال العالمي الجديد. تسود هذا المجال مظاهر متنوّعة من الوحدة والتناقض ضمن هيمنة سياسية أحادية: فما هو مفهوم المجال العالمي الجديد، ما المراحل التي مرّت بها خريطة العالم السياسية، ما مدى خطورة التناقض وما أهم مراكز القوى الاقتصادية والسياسية؟

العصور القديمة	القرن الخامس عشر	الثورة الصناعية في أوروبا	الحرب العالمية الثانية ١٩٤٥	سقوط الشيوعية ١٩٩٠	النظام العالمي الجديد
اعتماد النشاط الزراعي ضمن نطاق جغرافي محدود.	اتساع الرحلات الاستكشافية الكبرى من أوروبا إلى العالم.	فائض في إنتاج أوروبا والتفتيش عن أسواق خارجية للتصريف، ونشوء المستعمرات.	اعتماد الولايات المتحدة النظام الرأسمالي وتحرير التجارة واتباع للنظام الاشتراكي وحرب باردة بينهما.	اعتماد الولايات المتحدة النظام الرأسمالي وتحرير التجارة واتباع للنظام الاشتراكي وحرب باردة بينهما.	سقوط الاتحاد السوفياتي (١٩٩١) وهيمنة الولايات المتحدة وظهور دول صناعية حديثة وانتشار العولمة.

مستند ١: المسار التاريخي للمجال العالمي.

١. حدّد طبيعة المستند وموضوعه.
٢. أوضح أسباب هيمنة أوروبا على العالم منذ القرن الخامس عشر حتى الحرب العالمية الثانية.
٣. بيّن سبب تحوّل الهيمنة من أوروبا إلى القطبين: الولايات المتحدة والاتحاد السوفياتي.
٤. أذكر العامل السياسي الذي أدّى إلى انتشار العولمة بعد سنة ١٩٩١.



مستند ٢: الرحلات الاستكشافية الكبرى في العالم.

١. حدّد موضوع المستند.
٢. أذكر المنطقة التي انطلقت منها الرحلات الاستكشافية.
٣. استنتج أسماء الدول التي ستشكّل إمبراطوريات كبرى في العالم.
٤. حدّد المناطق والقارات غير المأهولة حتى أواخر القرن السادس عشر.

أولاً - مفهوم المجال العالمي الجديد والنظام العالمي الجديد

أ - مفهوم المجال العالمي الجديد

هو مساحة العالم الشاسعة التي نظمتها المجتمعات البشرية لتأمين حاجاتها من خلال نشاطات متنوّعة، عمرانية، اقتصادية، سياسية، فكرية...

تفاعل الدول وتتنظم حاليًا ضمن هذا «المجال العالمي الجديد» في علاقات متشابكة ومتنوّعة تضبطها مجموعة من مراكز القوى.

ب - مفهوم النظام العالمي الجديد

تبذلت مراكز القوى السياسية والعسكرية عبر التاريخ «النظام العالمي القديم»، وبعد سنة ١٩٩١، بدأت مرحلة جديدة في العالم تزعمتها الولايات المتحدة الأميركية، واتخذت نمط العلاقات السياسية والعسكرية بينها وبين مراكز القوى الأخرى في العالم شكلاً جديداً وهو الأحادية القطبية أو «النظام العالمي الجديد» (مستند ٤).

ثانياً - تبدّل المجال العالمي عبر التاريخ: تباعد وتجاذب

عرف المجال العالمي عدّة مراحل قبل اتّخاذ الوضع الحالي وهي:

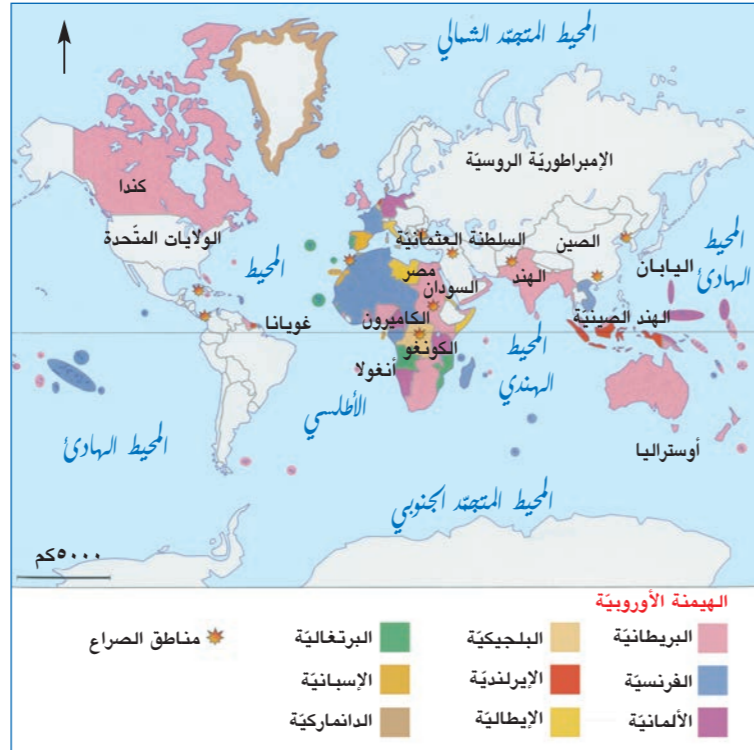
أ - من العصور القديمة حتى عصر الثورة الصناعية: نشاط زراعي وإمبراطوريات مهيمنة

منذ القديم، مارست البشرية النشاط الزراعي، وكانت الإمبراطوريات تتصارع لتوسّع نفوذها وسيطرتها. ومن ناحية أخرى اصطدمت المبادلات التجارية بالعوائق الطبيعية من جبال وبحار وصحاري... لذلك بقيت النشاطات البشرية محصورة ضمن نطاق جغرافي محدود. وفي القرن الخامس عشر حققت الدول الأوروبية اكتشافات جغرافية عديدة (مستند ٢)، فتضاعف التبادل التجاري والبشري وبرز اتّساع نفوذ الإمبراطوريات الأوروبية* في العالم.

ب - من الثورة الصناعية حتى أواخر الحرب العالمية الثانية

أدت الثورة الصناعية في أوروبا إلى تضخّم الإنتاج في دولها التي اندفعت للتفتيش عن أسواق لتصريف إنتاجها وتوفير المواد الأولية لصناعتها، لذلك خاضت الدول الأوروبية تنافساً للسيطرة على أراضٍ دعت بالمستعمرات. عند ذلك انقسم المجال العالمي إلى دول أوروبية صناعية غنية ومتحكّمة بالقرار السياسي والعسكري والاقتصادي العالمي، وقسم آخر تمثّل بمعظم شعوب الكرة الأرضية الخاضعة لنفوذ هذه الدول المستعمرة.

في أواخر القرن التاسع عشر، خاضت القوى العسكرية والصناعية الجديدة، (ألمانيا، إيطاليا واليابان)، تنافساً مع الدول المستعمرة لكسب أراضٍ جديدة، أدّى هذا التنافس إلى اندلاع الحربين العالميتين الأولى والثانية، رغم وجود عصبة الأمم* نتج عنهما انحسار نفوذ الدول الأوروبية، واستقلال المستعمرات، وظهور قوتين عظيمتين في العالم هما الولايات المتحدة الأميركية والاتحاد السوفياتي اللتين عملتا على ملء الفراغ وتقاسم النفوذ في المجال العالمي.



مستند ٣: المجال العالمي سنة ١٩١٤.

النظام العالمي الجديد

أثناء حرب الخليج الثانية، أعلن الرئيس جورج بوش عام ١٩٩٠ عن «نظام عالمي جديد» تتوحّد فيه مختلف الأمم على مبدأ مشترك... هذا النظام جاء لينهي نظاماً قديماً كان قائماً على تعدّد الأقطاب الكبرى في العالم «النظام العالمي القديم» مع وجود تنافس شديد بين الاتحاد السوفياتي، كان الأميركيون يسيرون بنظام آخر تكون السيطرة في العالم لهم وحدهم وهو «النظام العالمي الجديد».

المصدر: عبد الرحمن ناصر، آب ٢٠١٤

مستند ٤: النظام العالمي الجديد.

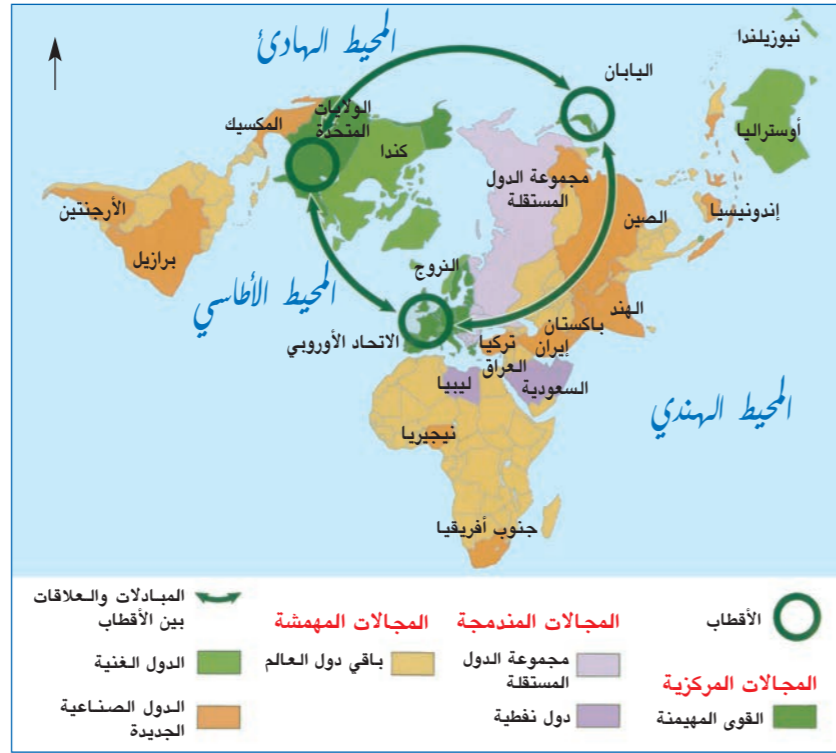
١. أذكر اسم النظام العالمي الذي كان قائماً قبل سنة ١٩٩٠.
٢. حدّد سبب ظهور «النظام العالمي الجديد».
٣. أذكر اسم الدولة التي تسيطر على النظام العالمي الجديد.

الثورة الصناعية: تعبير يدلّ على التحوّلات التي طرأت على وسائل الإنتاج الصناعية بحيث انتشرت المكننة بدل العمل اليدوي. بدأت في بريطانيا (القرن ١٨) ثم انتشرت في باقي أوروبا.

الإمبراطوريات الأوروبية: هي مناطق امتداد نفوذ بعض الدول الأوروبية إلى خارج حدود بلدانها وأهمها: الإمبراطورية البريطانية، (لا تغيب عنها الشمس) الإمبراطورية الفرنسية، الإسبانية...

عصبة الأمم: منظمة دولية تم تأسيسها بعد الحرب العالمية الأولى هدفها حلّ النزاعات بالطرق السلمية.

١. عدد أسماء الدول أو مجموعات الدول التي تشكل الأقطاب الاقتصادية العالمية.
٢. عدد أسماء الدول الغنية وغير التابعة للأقطاب الاقتصادية.
٣. سمِّ مجموعات الدول المندمجة اقتصاديًا في النظام العالمي الجديد وحدد أسباب هذا الاندماج.
٤. عدد أسماء بعض الدول المهمشة وحدد القارات التي تنتشر فيها.
٥. أوضح سبب تصنيف العراق ضمن الدول المهمشة رغم غناه بالنفط.



مستند ٦: توزع المجالات الاقتصادية العالمية.

ثالثًا - مظاهر النظام العالمي الجديد

- تفرد الولايات المتحدة بقيادة العالم نظرًا لقوتها الاقتصادية والعسكرية.
- تعزيز مكانة حلف شمالي الأطلسي* وتوسعه.
- تطوّر المواصلات والاتصالات.
- تفكك الأحزاب الشيوعية (وارسو*) وانتشار الرأسمالية.
- تواجد عسكري أميركي في العديد من الدول (قواعد، أساطيل) (مستند ٧).
- تراجع دور الأمم المتحدة في حل القضايا الدولية.
- ظهور مشكلات (حقوق الإنسان، الحروب، البيئة...).
- إنقسام العالم إلى قسمين: عالم الشمال وعالم الجنوب.

رابعًا - توزع القوى السياسية والاقتصادية في

النظام العالمي الجديد (مستند ٦)

تتحكم بالنظام العالمي الجديد قوى عديدة يتمتع كل منها بخصائص مميزة. وتمتّع هذه القوى بـ:

- ١- هيمنة سياسية وأحادية عسكرية: على أثر انهيار النظام الإشتراكي، انفصلت عن الاتحاد السوفياتي دول عدّة، وأتبعت النظام الرأسمالي بعد زوال حلف وارسو. وتوحّدت الألمانيتان الغربية والشرقية، وبقي الحلف الأطلسي القوة العسكرية الضابطة للشؤون الأمنية في العالم، وهيمنت الولايات المتحدة سياسيًا على المجال العالمي وعسكريًا عبر العديد من القواعد العسكرية (مستند ٧)، وحاليًا تفرض روسيا وجودها العسكري والسياسي في النظام العالمي.

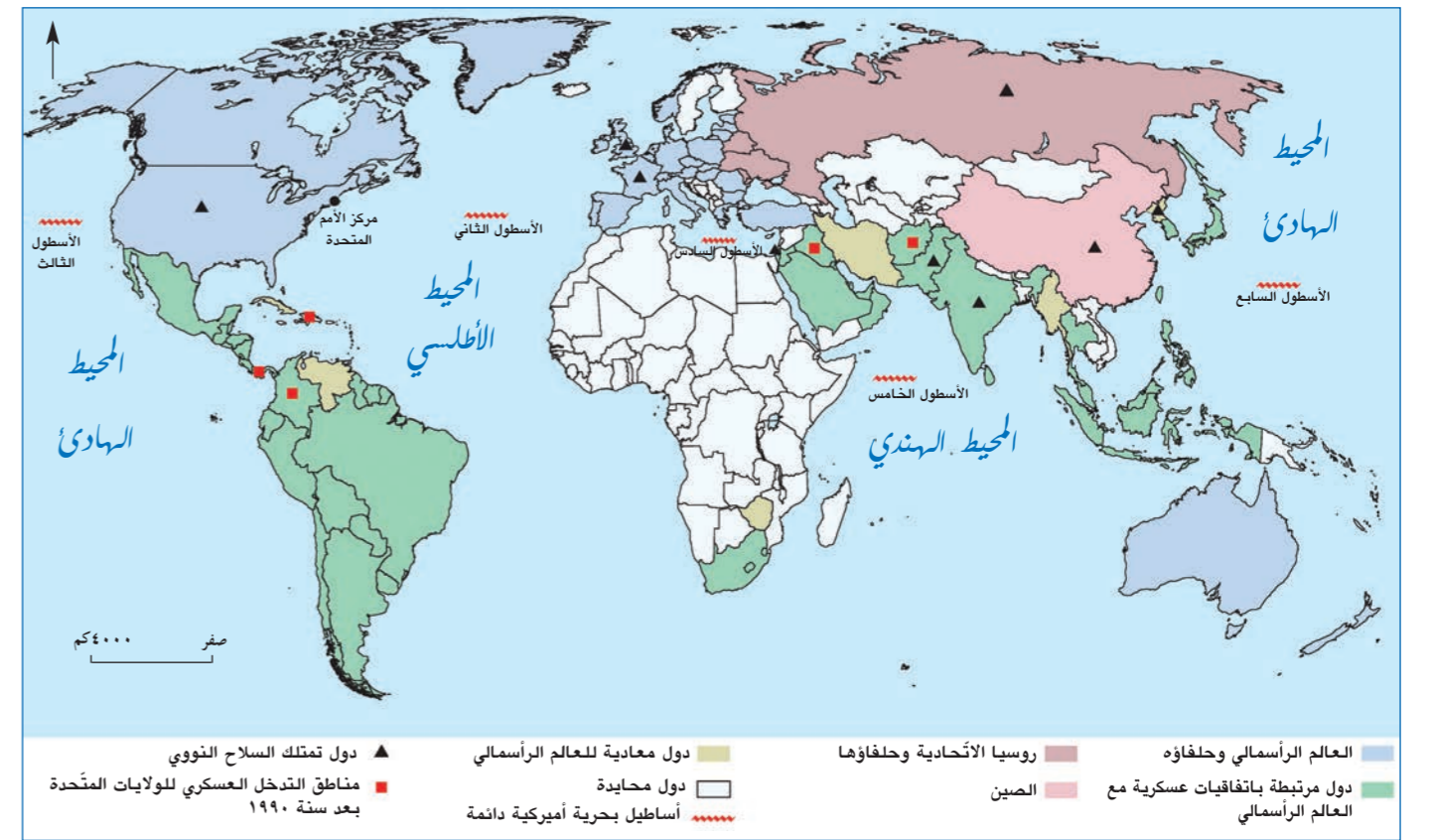


مستند ٧: قاعدة عسكرية أميركية في الفيليبين.

١. حدّد موقع الفيليبين على خريطة المستند ٥.
٢. استنتج الهدف من إنشاء هذه القاعدة العسكرية الأميركية في الفيليبين.

حلف شمالي الأطلسي (الناتو NATO/OTAN): هو القوة العسكرية التابعة للولايات المتحدة الأميركية وحلفائها، أنشئ سنة ١٩٤٩ بهدف الوقوف في وجه تمدد الاتحاد السوفياتي باتجاه دول أوروبا الغربية. يضم حاليًا ٢٨ دولة، ويشكل القوة العسكرية المهيمنة على المجال العالمي حاليًا.

حلف وارسو: هو القوة العسكرية التي شكلها الاتحاد السوفياتي وحلفاؤه سنة ١٩٥٥ لمواجهة الحلف الأطلسي. انتهى هذا الحلف بعد انهيار الاتحاد السوفياتي سنة ١٩٩١.



ج- من الحرب العالمية الثانية (١٩٤٥) حتى سنة ١٩٩٠: مجال عالمي تحكمه

ثنائية قطبية

بعد الحرب العالمية الثانية، اعتمدت الولايات المتحدة الأميركية النظام الرأسمالي وارتكزت على التكنولوجيا وعلى توسع نفوذ الشركات الكبرى وتحرير التجارة، وتبنت الاتحاد السوفياتي النظام الإشتراكي القائم على الإكتفاء الذاتي وضبط الحرية التجارية. تمثل الصراع بين القطبين باندلاع نزاعات سياسية وعسكرية في أماكن عديدة، عرفت بالحرب الباردة* (مستند ٥). وقد برزت كتلة ثالثة من دول كثيرة اعتمدت سياسة الحياد الإيجابي* ومن بينها لبنان.

د- انجال العالمي الجديد بعد سنة ١٩٩٠ (مستند ٦)

بعد سقوط جدار برلين (١٩٨٩) وتفكك الاتحاد السوفياتي (١٩٩١) بدأت مرحلة جديدة تميّز فيها المجال العالمي بخصائص محدّدة أهمّها:

- ١- هيمنة سياسية أحادية للولايات المتحدة الأميركية على العالم وعلى قرارات الأمم المتحدة.
- ٢- هيمنة اقتصادية ثلاثية أقطابها الولايات المتحدة، الاتحاد الأوروبي، واليابان، وتشكّل المجالات المركزية.
- ٣- ظهور دول صناعية حديثة اندمجت في الاقتصاد العالمي وأصبحت تنافس دول المجالات المركزية، مقابل دول فقيرة بقيت على الهامش خارج آليات هذا الاقتصاد العالمي.
- ٤- امتداد النظام الرأسمالي الحرّ وشموله معظم دول العالم (عدا كوريا، كوريا الشمالية).
- ٥- انتشار العولمة عبر وسائل متعدّدة إلى العديد من الدول واختلاف ردّات الفعل تجاهها. لذا برزت مظاهر وحدة وتناقض ضمن هذا المجال الجديد.

مستند ٥: انجال العالمي بين ١٩٤٨ - ١٩٩١.

١. سمّ العالمين الرئيسيين في انجال العالمي بين ١٩٤٨ و ١٩٩١.
٢. حدّد القارات التي ينتشر فيها كلّ من الاتحاد السوفياتي وحلفاؤه، والولايات المتحدة الأميركية وحلفاؤها.
٣. سمّ القارات التي يهيمن عليها العالم الرأسمالي من خلال اتّفاقاته العسكرية. واذكر أسماء الدول التي تملك السلاح النووي.
٤. سمّ بعض الدول المحايدة وفي عدّة قارات.
٥. بيّن امتداد الصراع بين العالمين بعيدًا عن خطّ الصراع.

الحرب الباردة: هي الحروب والنزاعات السياسية التي كانت تندلع بين دول تدعمها الولايات المتحدة الأميركية وحلفاؤها من جهة، وبين دول يدعمها الاتحاد السوفياتي وحلفاؤه من جهة ثانية، ولكن هذا النزاع لم يصل إلى حدّ التصادم المباشر بين القطبين، لذلك سمّيت بالحرب الباردة.

الحياد الإيجابي: هي سياسة تقوم على عدم تأييد طرف ضدّ آخر من أطراف الصراع (الولايات المتحدة والاتحاد السوفياتي) وعلى مناصرة قضايا الشعوب (الحرية، الإستقلال، ضدّ الأحلاف...).

خامساً - أوجه التناقض في النظام العالمي الجديد وخطورته

أ- أوجه التناقض

أدى تقسيم العالم، إلى مجالات متباينة في واقعها الاقتصادي والسياسي، إلى بروز تناقضات حادة بين أطرافها، وأهم مظاهر هذه التناقضات هي:

١- التنافس حول جذب الأسواق العالمية: دخلت المجالات المركزية في سباق حاد في ما بينها بهدف تصريف إنتاجها، وتأمين المواد الأولية لصناعتها بأسعار متدنية.

٢- العمل للتخلص من الهيمنة السياسية:

- تسعى روسيا حالياً لاستعادة نفوذها السياسي العالمي وذلك عن طريق الوقوف بوجه الولايات المتحدة في مجلس الأمن وفي المواقف الدولية (الحرب في سوريا، مقاطعة إيران...).

- تعمل الصين ودول أخرى لإظهار نفوذها السياسي والاقتصادي على الساحة الدولية (الحرب الاقتصادية الأميركية الصينية).

- تحاول مجموعة BRICS (أي البرازيل - روسيا - الهند - الصين - اتحاد جنوب أفريقيا) مناهضة الدول الرأسمالية اقتصادياً.

٣- دول متباينة في الثراء: انقسم العالم إلى دول غنية تسيطر على معظم المبادلات التجارية، وتحظى بأكثر من ٧٠٪ من ثروات العالم (مستند ٨)، ودول أخرى تمثل ٨٢٪ من سكان العالم وهي شعوب فقيرة تحصل على نسبة ضئيلة من الخيرات العالمية.

ب- خطورة التناقض

سمح التناقض السائد بين مجالات النظام العالمي الجديد إلى قيام عالم غير مستقر من عدة أوجه:

١- الاضطراب الأمني والسياسي: تحدث في مختلف أنحاء العالم أزمات سياسية واضطرابات أمنية تعود بمعظمها إلى تصارع الدول النافذة سياسياً في العالم بواسطة الدول الخاضعة (سوريا، ليبيا، مصر، أوكرانيا...).

٢- الأزمات المالية والاقتصادية: تعصف الأزمات المالية والاقتصادية في معظم دول العالم، حتى في الدول الغنية ذاتها، وهذا الأمر يعود إلى التنافس الحاد بين المجالات الاقتصادية الكبرى (مستند ١٠).

٣- المظاهرات الشعبية والنزاعات الحربية: تنشأ في بعض الدول مظاهرات شعبية تطالب حكومتها والدول الغنية بإصافها وحصولها على حقوقها الاقتصادية وحرّيتها السيادية ورفع الظلم عن المضطهدين وقد تؤدي إلى صدامات ونزاعات حادة (القمصان الصفرة في فرنسا) (المستند ١١).

٤- ظهور منظمات غير حكومية: أدى الظلم الذي يعانيه الضعفاء في العالم، إلى بروز منظمات عالمية ومحلية ترعى شؤون الفقراء والمضطهدين، مثلاً: منظمة العفو الدولية، أطباء بلا حدود... (مستند ١٢).



مستند ١٠: مظاهرات في اليونان ضد إجراءات البنك الأوروبي.



مستند ١١: مظاهرات القمصان الصفرة في فرنسا.



مستند ١٢: مساعدات من منظمة أطباء بلا حدود إلى دارفور (السودان).

١. أذكر نوع المنظمة مصدر المساعدات.

٢. استخلص حالة السكان المعيشية في دارفور.

ب- مجالات إقتصادية متباينة: بفضل التكنولوجيا المتطورة تضخم الإنتاج في بعض الدول، ونشطت وسائل النقل المتطورة لتصريفه في أنحاء العالم، هذا الأمر أوجد مجالات إقتصادية متباينة ضمن المجال العالمي الجديد وهي:

١- مجالات مركزية (مستند ٨): تتقاسم النفوذ في هذه المجالات أقطاب ثلاثة هي: الاتحاد الأوروبي، الولايات المتحدة الأميركية واليابان. وتتميز بالخصائص التالية:

- تمتلك التكنولوجيا الحديثة وتتحكم بالإنتاج الصناعي العالمي.

- تضم المصارف الكبرى والبورصات العالمية والمؤسسات النقدية العالمية كصندوق النقد الدولي * والبنك الدولي *.

- توجد فيها مراكز الشركات المتعددة الجنسيات المتحكّمة بقرار الدول.

- تنشر ثقافتها في كافة أرجاء العالم.

- تؤثر، وإن بدرجات متفاوتة، في القرار الاقتصادي في دول العالم.

٢- مجالات مندمجة (مستند ٦): هي مجالات إقتصادية ثانوية اندمجت في المجال العالمي بطرق مختلفة من خلال:

- امتلاكها للتكنولوجيا الحديثة وانخراطها في مجال التصنيع ودخولها في منافسة مع المجالات المركزية (الدول الصناعية الجديدة).

- تحكمها بمصادر الطاقة أو بالمواد الأولية المؤثرة في الأسواق العالمية. (الدول النفطية، البرازيل...).

- استيعابها أيادي عاملة وافرة ورخيصة (الصين، دول جنوب آسيا).

- ضخها كميات ضخمة من الإنتاج الصناعي في الأسواق العالمية. (الصين، كوريا الجنوبية).

٣- مجالات مهمشة غير مؤثرة في الأسواق الاقتصادية العالمية: مجالات غير مؤثرة بالأسواق الاقتصادية العالمية لأنها:

- لم تستوعب التكنولوجيا الجديدة، وإنتاجها لا يكفي حاجتها.

- تشكل سوقاً استهلاكية واسعة لإنتاج المجالات المركزية والمندمجة.

- تعتمد على بيع المواد الأولية لتلبية حاجاتها الاقتصادية.

الدولة أو مجموعة الدول	نسبة المساهمة في الناتج المحلي %
الولايات المتحدة	٢٤,٦٩
الاتحاد الأوروبي	٢٢,٦٩
اليابان	٦,٥٦
العالم	١٠٠

المصدر: L'année stratégique 2019

مستند ٨: هيمنة الأقطاب الثلاثة على الاقتصاد العالمي.

١. حدّد طبيعة المستند وموضوعه.

٢. احتسب نسبة مساهمة الأقطاب الثلاثة في الدخل العالمي.

٣. أوضح دور هذه الأقطاب في الاقتصاد العالمي.



مستند ٩: الجيش الأميركي في العراق.

١. استنتج دلالة هذا الوجود.

٢. أوضح أثر هذا التدخل على اقتصاد العراق وأمنه.

صندوق النقد الدولي: تم إنشاء هذا الصندوق في مؤتمر «برتون وودز» والتحق بهيئة الأمم المتحدة سنة ١٩٤٥، ومن أهدافه تعزيز استقرار العملات، إيجاد الحلول لل صعوبات الاقتصادية للدول، تقديم المشورات للحكومات في الشؤون المالية، وتقديم القروض للدول بنسبة توازي ٤ أو ٥ أضعاف مساهمتها في الصندوق.

البنك الدولي: أنشئ سنة ١٩٤٥، وأهم أهدافه هي مساعدة الدول على تنمية اقتصادها، وتشجيع القطاع الخاص على الاستثمار، وجدولة الديون للدول وتوجيه الأموال نحو الأولويات، زراعة، صناعة، خدمات، والإشراف على إنفاقها.

تحليل مستندات: الأسئلة

أولاً: أ. حدّد طبيعة كلّ من المستنديين رقم (١) ورقم (٣) وموضوع كلّ منهما.
ب. اقترح عنواناً للمستند رقم (٢).

ثانياً: من خلال المستنديين رقم (١) ورقم (٢)، اختر الإجابة الصحيحة.

١- ثلاث دول من ثلاث قارات هي دول صناعية جديدة، هي: أ- الولايات المتحدة - كندا - تركيا. ب- أستراليا - بريطانيا - البرازيل. ج- الأرجنتين - الصين - اتحاد جنوب أفريقيا.	٢- ثلاث دول، ومن قارات مختلفة، مهمشة، هي: أ- الصين - مصر - باراغواي. ب- الجزائر - أفغانستان - بوليفيا. ج- مدغشقر - مصر - الفلبين.
٣- تتكوّن الثنائية القطبية من: أ- الصين - الولايات المتحدة. ب- الصين - روسيا. ج- روسيا - الولايات المتحدة.	٤- ثلاث دول، ومن قارات ثلاث، تنتمي الى عالم الشمال، هي: أ- الصين - كندا - فرنسا. ب- سنغافورة - نيوزيلندا - بلغاريا. ج- رومانيا - النمسا - الولايات المتحدة.

ثالثاً: من خلال المستنديين رقم (١) ورقم (٣)، أجب بـ «صح» (✓) أو «خطأ» (X)، ثمّ صحّح الخطأ في الجمل التالية:

- المجالات المركزية هي الدول الصناعية الجديدة.
- تستقطب المجالات المركزية مجمل المبادلات التجارية.
- تحتلّ الولايات المتحدة عالمياً المركز الثالث.
- الدول المندمجة هي الدول التي تنافس المجالات المركزية في الأسواق التجارية.

رابعاً: من خلال المستندات الثلاثة، أربط كل من أرقام المصطلحات الواردة في العمود الأول، بما يناسبها من أحرف العبارات الواردة في العمود الثاني.

١- الثنائية القطبية	أ- تقع تحت هيمنة المجالات الأخرى.
٢- المجالات المندمجة	ب- تتنافس للسيطرة على الأسواق المالية.
٣- الدول المهمشة	ج- تمتلك التكنولوجيا والمعلوماتية التي سمحت لها بالمنافسة.
	د- ظهرت بعد التدخل العسكري الروسي في مناطق عدّة.

خامساً: من خلال المستند رقم (٢)، بين أنّ الولايات المتحدة الأميركية تمثل القوّة المهيمنة على العالم.

سادساً: من خلال المستند رقم (٣)، استنتج مؤشراً يدلّ على هيمنة الولايات المتحدة على الدّول الأخرى.

سابعاً: يشير المستند رقم (١) إلى المجالات العالمية: أذكرها وأعط مؤشراً يظهر الفروقات بينها.

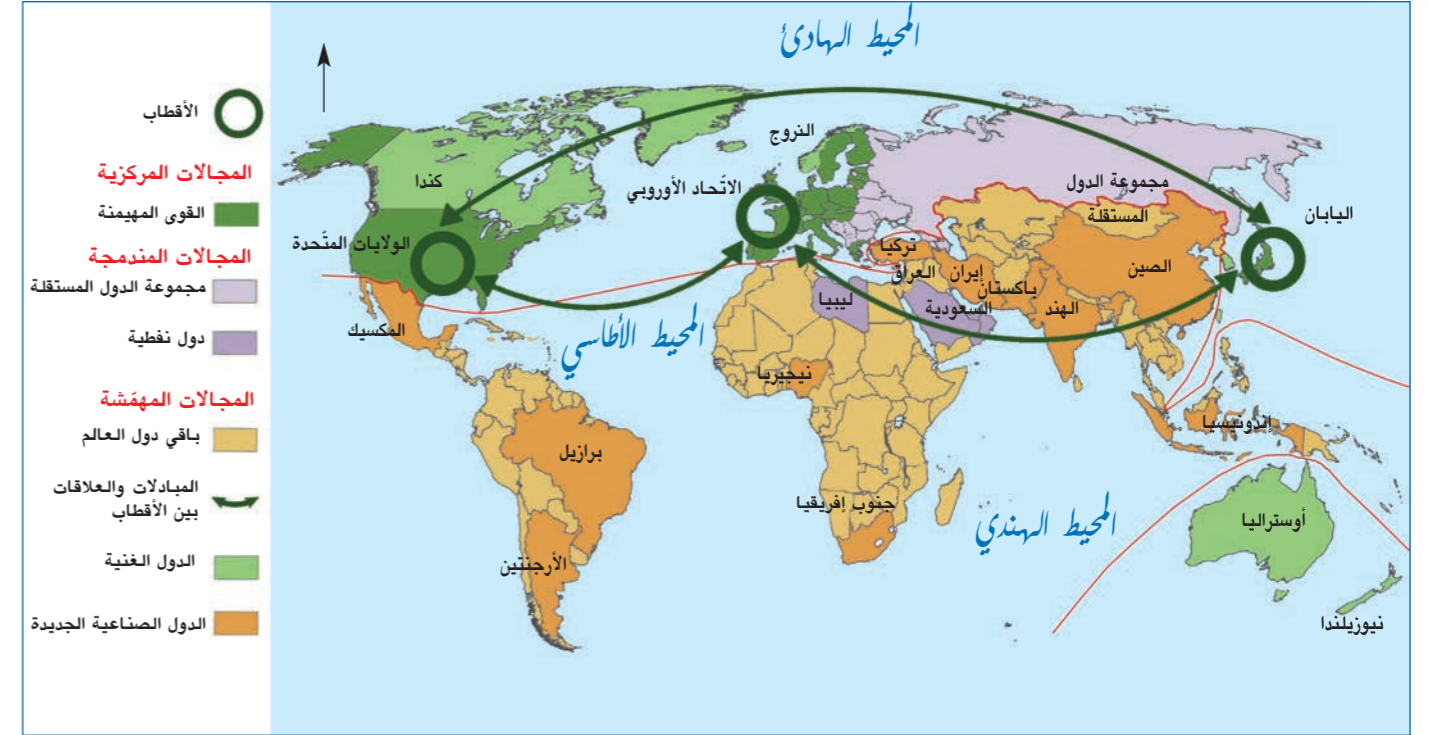
ثامناً: شهد العالم على تطوّر مستمّر للنظام العالمي لاسيّما منذ الثورة الصناعية، مروراً بالحربين العالميتين وصولاً إلى عصرنا الحالي. إنطلاقاً من

المستنديين رقم (٢) ورقم (٣) والمصطلحات التالية: «الولايات المتحدة - ظهور دول صناعية جديدة - مجموعة البريكس»، ومعلوماتك المكتسبة، عالج المسألة الواردة أعلاه موضحاً:

- علاقة سقوط الاتحاد السوفياتي بظهور الأحادية القطبية.

- مميزات النظام العالمي الجديد الأحادي القطبية.

- أوجه التناقض في النظام العالمي الجديد.



مستند ١



مستند ٣

وقد ظلّ هيكل النظام العالمي الأحادي القطبية مستقرّاً لفترة طويلة، لكن العقد الأخير شهد تحولات ضخمة في هيكل توزيع القدرات الاقتصادية والعسكرية في اتجاه صعود قوتين مهمتين، على حساب الهيمنة الأميركية، هما روسيا والصين، فضلاً عن التغيّر الحاصل في هيكل المؤسسة الدولية، في اتجاه ظهور مؤسسات ومجموعات دولية جديدة باتت تلعب دوراً كبيراً في إدارة التفاعلات الدولية (مجموعة العشرين، بريكس)، تلعب فيها الصين وروسيا واقتصادات ناشئة دوراً مهماً. كان لهذه التحولات تأثيرها في اتجاهات تطوّر عدد من الأزمات الإقليمية وإدارتها، التي يمكن الاعتماد عليها في استنتاج ملامح بنية النظام العالمي الجديد...

وخلاصة القول إنّ أزمة الحرب الروسية الجورجية، ثمّ أزمة القرم ٢٠١٤، ثمّ الأزمة السورية الجارية، هي أزمات كاشفة الى حدّ كبير عن صعود الدور الروسي، وتحول النظام العالمي بعيداً عن نمط النظام أحادي القطبية. هكذا، وكما تشير إليه تطوّرات هذه الأزمات الإقليمية، فإننا نصبح أمام استنتاجات عدّة... إنّنا إزاء «نظامين عالميين»، نظام يقوم على الثنائية القطبية في بعض الأقاليم، بينما لا يزال القطب الواحد هو النمط الغالب في أقاليم أخرى. الحديث عن «نظامين عالميين»، قد يبدو مفهوماً غير منضبط لكنه ربّما يفتر لنا الكثير من أوجه التناقض وعدم وضوح السياسات العالمية في الكثير من الأقاليم.

نص المصدر: محمد فايز فرحات، جريدة الحياة، ٢١/١٠/٢٠١٨

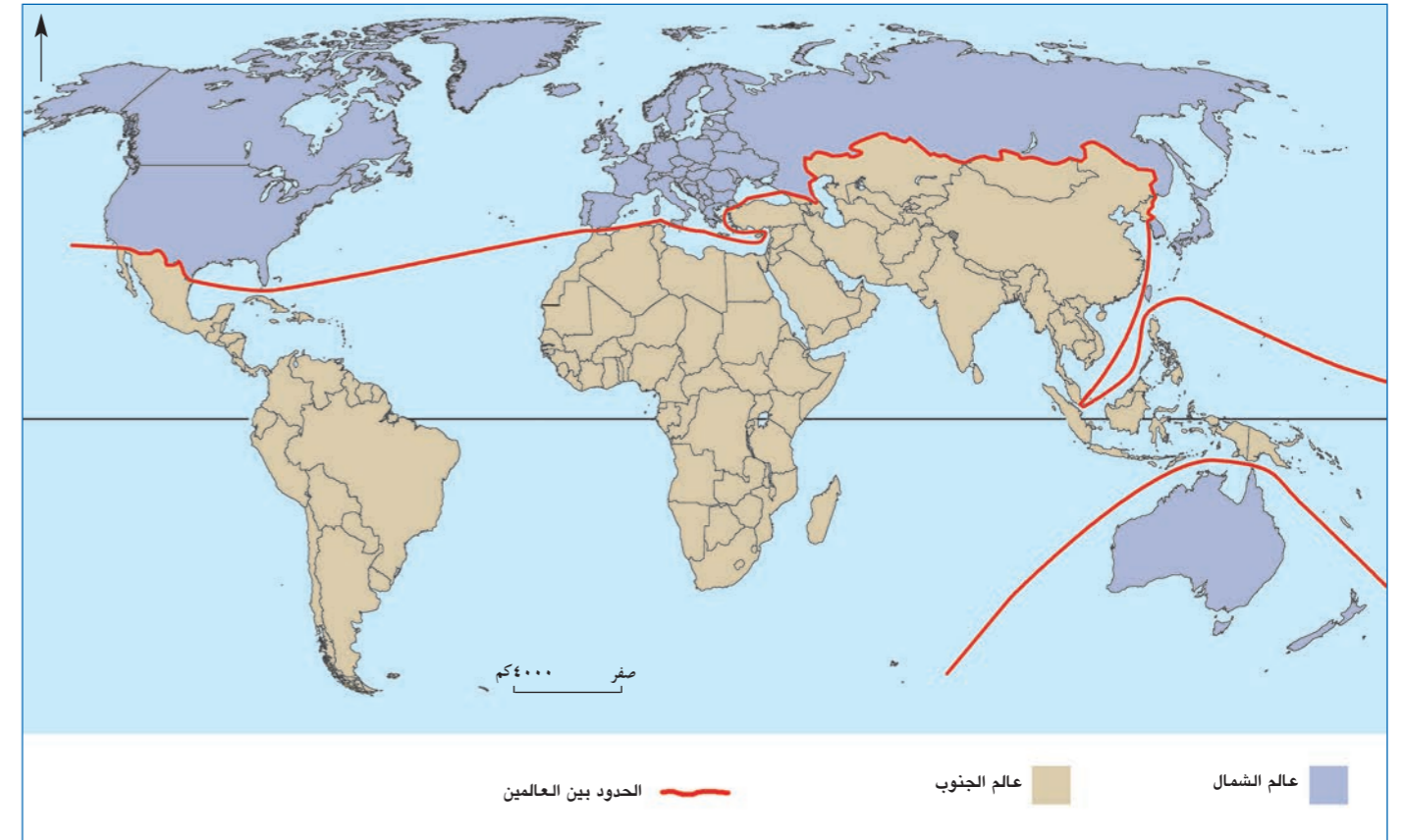
مستند ٢

مظاهر الوحدة في النظام العالمي الجديد ونتائجها

الأهداف: أصبح قادرًا على أن:

- أحدّد مظاهر النظام العالمي الجديد.
- أوضح مظاهر الوحدة في النظام العالمي الجديد (العولمة).
- أستخلص نتائج الوحدة وسيّئاتها.
- أحدّد معايير انشطار العالم إلى شمال وجنوب.
- أبين أن الانشطار غير ثابت وغير حتمي.

يتقاسم النفوذ في النظام العالمي الجديد مجموعة قوى سياسية واقتصادية، ورغم ذلك يسود المجال العالمي الجديد نوعًا من الوحدة أطلق عليها «العولمة»، وأدى تطبيقها، لسنوات عدّة، إلى انشطار العالم إلى قسمين متناقضين دعيا بعالم الشمال وعالم الجنوب. فما هي مظاهر هذه الوحدة؟ وما هو مفهوم العولمة؟ وما هي نتائج تطبيقها؟ وما هي المعايير التي تمّ على أساسها تقسيم العالم؟ وهل يعتبر هذا التقسيم ثابتًا وحتميًا؟



مستند ١: توزّع المجال العالمي بين ١٩٩١-٢٠١٩.

١. سمّ العالمين اللّذين قسّمت دول العالم بموجبهما.
٢. عدّد ثلاث دول، ومن قارّات مختلفة، تنتمي إلى عالم الشمال.
٣. سمّ ثلاث دول، ومن قارّات مختلفة، تنتمي إلى عالم الجنوب.
٤. إستنتج الفرق بين خط الإستواء وخط الحدود بين عالم الشمال وعالم الجنوب.
٥. سمّ دولتين جنوبي الإستواء وينتميان إلى عالم الشمال.

يستخدم مفهوم العولمة لوصف كل العمليات التي تكتسب بها العلاقات الاجتماعية نوعًا من عدم الفصل وتلاشي المسافات، حيث تجري الحياة في العالم كمكان واحد - قرية واحدة صغيرة... ويمكن تعريفها بأنها سهولة حركة الناس والمعلومات والسلع بين الدول. وهناك من يخلط بين العولمة والعالمية، فالعولمة تركز التواصل بين البشر لتحقيق أهداف مادية ومعرفية لكافة البشر وتحترم الخصوصيات والهويّات المختلفة وتثريها (تغنيها) وتخصّص بحقوق الإنسان والحريات الثقافية... والعولمة لا تعترف بالدولة أو الوطنية أو القومية وهي تخصّص السوق والسياحة والتكنولوجيا والمعلوماتية. تشكل العولمة سلاحًا ذا حدّين، فهي خير حين تربط بين الحضارات والشعوب والبلدان متخطية العامل الجغرافي... محرّرة الإنسان من القيود بفضل انتشار الإعلام وجعل المعلومات في متناول كل فرد... وأصبحت ثقافات الشعوب مكشوفة ومنتشرة بسبب العولمة الاقتصادية والثقافية والإعلامية بشكل خاص، وهي شرّ لأنها أدت إلى هيمنة الأقوياء على الضعفاء والأغنياء على الفقراء، فباتت الشركات المتعددة الجنسيات هي المسيطرة على العالم وازداد التفاوت بين البلدان.

المصدر: هاده سمر

مستند ٢: العولمة: خير وشرّ.

١. عرّف العولمة وقارن بينها وبين العالمية.
٢. أذكر حسنات العولمة وسيّئاتها.

دول عالم الشمال: تتمركز في شمالي قارّات أميركا وأوروبا وآسيا، وتضمّ الدول التالية:
* قارّة أميركا: الولايات المتّحدة الأمريكية وكندا.
* قارّة أوروبا: جميع دول أوروبا.
* قارّة آسيا: اليابان، كوريا الجنوبية، تايوان، سنغافورة، وروسيا.
* قارّة أوقيانيا: أستراليا ونيوزيلندا.

دول عالم الجنوب: تمتدّ جنوب دول عالم الشمال وتشمل باقي دول العالم.

مستند ٣: توزّع دول الشمال والجنوب على القارّات.

١. سمّ القارّة التي تعتبر جميع دولها في عالم الشمال.
٢. سمّ القارّة التي تعتبر جميع دولها في عالم الجنوب.

أولًا - مظاهر الوحدة في النظام العالمي الجديد (العولمة)

رغم هيمنة القوى السياسية والاقتصادية على المجال العالمي وبروز التناقضات، وضعت الإنجازات التكنولوجية الحديثة العالم في بوتقة واحدة، وهذا ما عرف بالعولمة. والعولمة تعني انسياب السلع والمعلومات، وسهولة حركة الناس، عبر حدود الدول دون عوائق تذكر، وهذه الأمور أدت إلى تلاشي المسافات بين الدول وإضفاء الإنسجام على العلاقات الاجتماعية حتّى أصبح العالم يشبه قرية كونية صغيرة (مستند ٢).

أ- عوامل أدت إلى اتّساع الوحدة في العالم (العولمة)

١- انتشار النظام الرأسمالي الحرّ: على أثر الهيمنة الأحادية للولايات المتّحدة وانهيار الاتحاد السوفياتي، انتشر النظام الرأسمالي الحرّ الذي يركز على الحرية الاقتصادية والتجارية، وسمح بالتنافس، وقلّص دور الدولة التي تعمل جاهدة لإزالة العوائق من أمام الاقتصاد.

٢- توسّع الشركات المتعدّدة الجنسيات: تسعى الشركات المتعدّدة الجنسيات إلى زرع فروع لها في مختلف أنحاء العالم. وهذا التوسّع ساعد على ترابط دول العالم التي عملت على جذب الشركات وتسهيل الحركة التجارية أمام سلعها.

٣- تسارع وتيرة المواصلات والاتّصالات: هذا الأمر عمل على ترابط المجال العالمي، وقلّص المسافات، وخفّض التكاليف وحوّل العالم إلى قرية كونية.

٤- تسارع حرية التبادل التجاري: عملت المجالات المهيمنة اقتصاديًا على إزالة القيود من أمام حركة تدفّق السلع وانتقال الأموال عبر حدود الدول وذلك بهدف اتّساع شركاتها المتعدّدة الجنسيات ومضاعفة أرباحها.

٥- تحكّم المؤسسات المالية والنقدية: تتركّز المصارف الكبرى في المجالات العالمية المركزية، وهذه الأخيرة تتحكّم بقرارات البنك الدولي وبصندوق النقد اللّذين يديران السياسات المالية والنقدية في العالم ويسهّلان انتقال الأموال عبر الحدود.

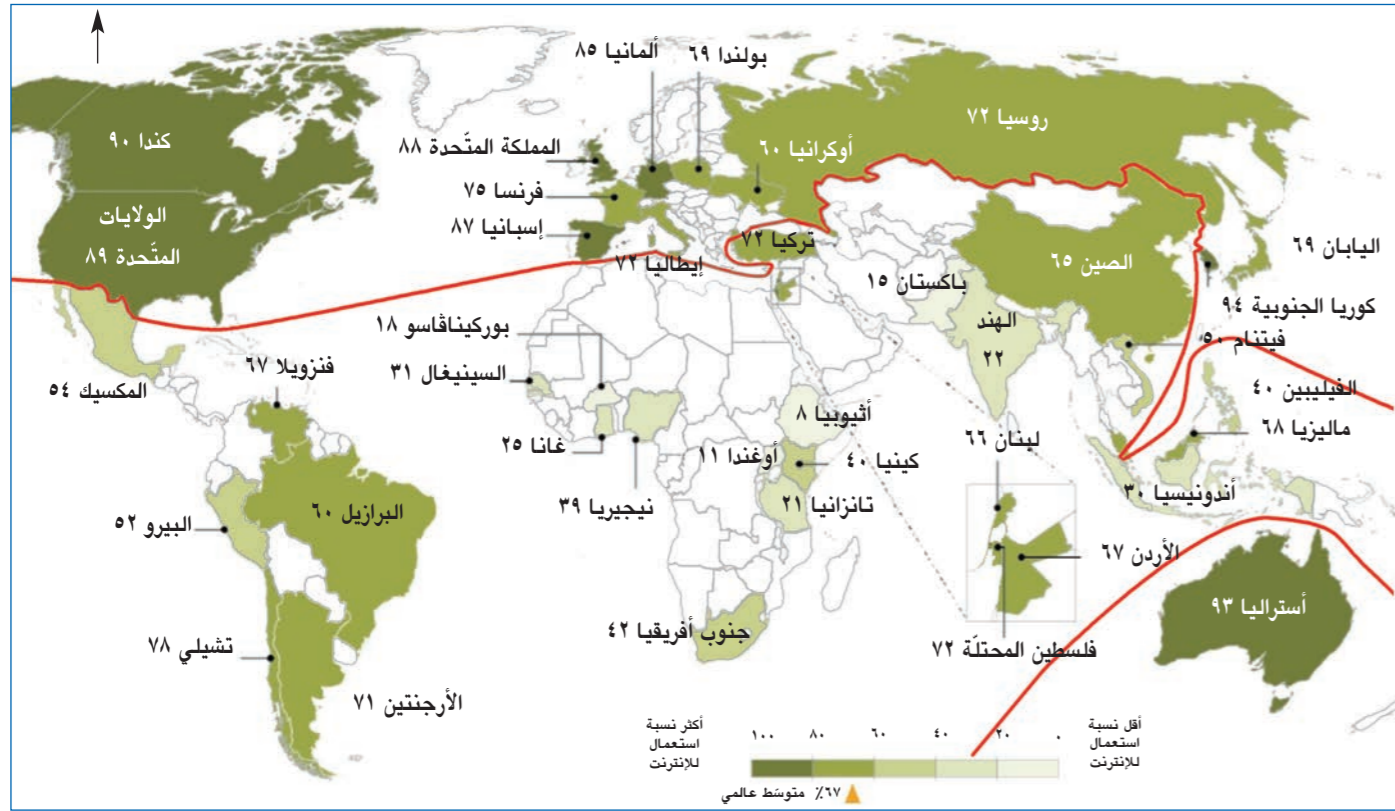
٦- اتّساع التكتلات الإقليمية: تجاه اتّساع نفوذ المجالات المركزية، تسارعت الدول إلى إنشاء تكتلات اقتصادية بهدف حماية مصالحها، ومجابهة تدخّل المجالات المركزية في شؤونها. وهذه التكتلات تشكّل خطوة أولى باتجاه العولمة.

ثانيًا - نتائج العولمة: تناقضات بارزة

أ- إيجابية العولمة

نستخلص من العوامل التي عملت على انتشار العولمة أنّ الهدف كان الوصول إلى الإيجابيات التالية:

- ١- انتقال التكنولوجيا إلى معظم دول العالم.
- ٢- ازدياد حجم المبادلات التجارية بين دول العالم.
- ٣- شمول النظام الرأسمالي معظم دول العالم بهدف تحقيق الحرية والديمقراطية واحترام المثل العليا للإنسان.



المصدر: Spring 2015 Global Attitudes Survey. Q70 & Q72.

مستند ٦: توزع نسبة استخدام الإنترنت على بعض دول العالم.

- أذكر أسماء الدول التي تفوق نسبة استخدامها للإنترنت الـ ٨٠٪.
- أذكر اسم القارة الأقل استخدامًا للإنترنت.

٢- معيار تطوّر الناتج الفردي: يتعلّق بنصيب الفرد من الناتج المحلي وبمعدل النمو الاقتصادي الذي يحققه الاقتصاد العام.

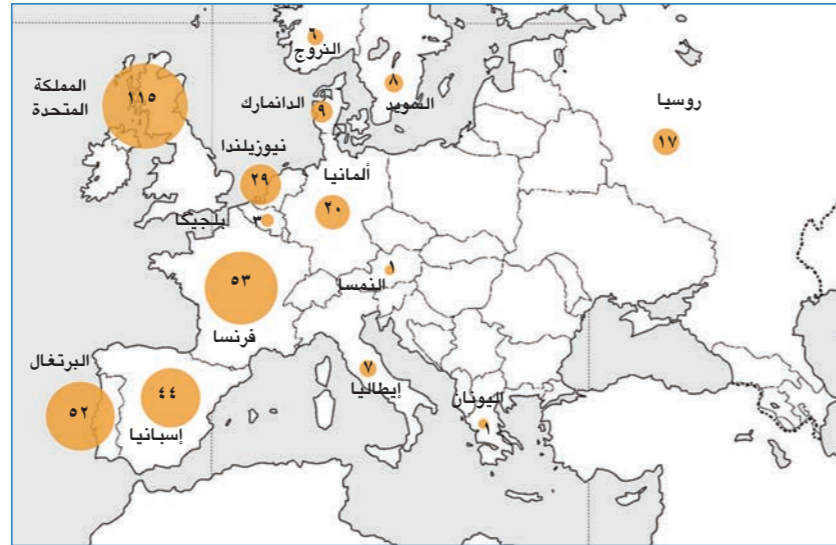
ب- معايير اجتماعية

- تطوّر مستوى المعيشة الذي يتناول: نصيب الفرد من السرعات الحرارية ومن الموارد المائية والطاقة.
- تطوّر مستوى التعليم ويتعلّق بمؤشرات عديدة هي: معدّل الذين يعرفون الكتابة والقراءة، نسبة الملتحقين بالمدارس والجامعات، نسبة الإنفاق على التعليم، ومعدّل الأمية.

٣- تطوّر الرعاية الصحية ويشمل: معرفة نسبة الإنفاق على الصحة، عدد الأطباء لكل ألف نسمة، ومعدّل وفيات الأطفال.

ج- معايير ديموغرافية

وتتضمّن: معدّل النمو الطبيعي للسكان، معدّلَي المواليد والوفيات ومعدّل الخصوبة عند المرأة.



المصدر: L'atlas du monde diplomatique

مستند ٧: توزع عدد المستعمرات التي كانت تسيطر عليها كل دولة أوروبية.

- إستنتج أسماء الدول التي شكّلت إمبراطوريات كبرى.
- إستنتج أثر الإستعمار في الدول المستعمرة.

ب- سلبات العولمة

إنّ المبادئ التي هدفت العولمة إلى ترسيخها لم تحقّق النتائج المرجوة لها، وأدت إلى انشطار العالم إلى عالم فقير دُعي بعالم الجنوب، وإلى عالم غني دُعي بعالم الشمال (مستند ١ و ٢).

وكل عالم ناهض العولمة لأسباب تتعلق بكل واحد منهما.

١- أسباب مناهضة عالم الشمال للعولمة:

يمكن إيجاز أسباب مناهضة دول عالم الشمال لظاهرة العولمة من خلال النتائج السلبية التالية:

- ارتفاع حدّة البطالة نتيجة انتقال العديد من فروع الشركات المتعدّدة الجنسيات إلى دول عالم الجنوب.
- زيادة التناقض بين الأغنياء والفقراء.
- تراجع مفهوم دولة الرعاية التي تحفظ حقوق العمّال وذلك نتيجة تعميم فكرة تحقيق الأرباح وليس حقوق العمّال.
- إفلاس المؤسسات الصناعية الصغيرة نتيجة المنافسة غير المتكافئة مع الشركات العالمية.

٢- أسباب مناهضة عالم الجنوب للعولمة:

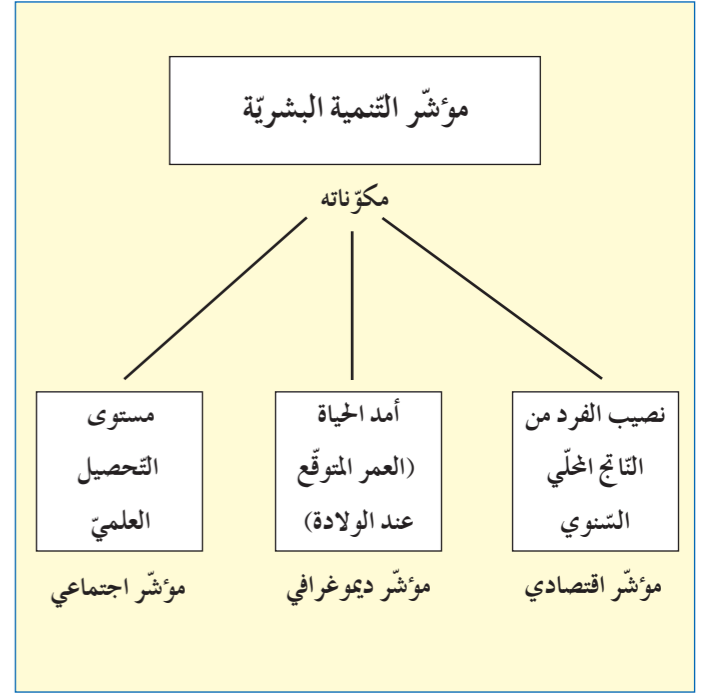
- تعميق الهوة الاقتصادية والاجتماعية بين الشمال والجنوب وداخل كلّ دولة بزيادة الفروقات الطبقيّة.
- تهديد الخصوبة الثقافية واللغوية للمجتمعات.
- تضخّم القطاع الثالثي وتراجع القطاعات الإنتاجية.
- خضوع الدول الفقيرة لقرارات الدول الكبرى وزيادة التبعية الاقتصادية وبالتالي السياسية.

ثالثاً - معايير تقسيم العالم ضمن نظام العولمة

انقسم العالم في نهاية القرن العشرين إلى عالمين متباينين: عالم الشمال، الذي تمثله الدول الصناعيّة، المتمركز معظمه في شمال الكرة الأرضيّة، وعالم الجنوب المستهلك للسلع الصناعيّة ويقع معظمه في جنوب عالم الشمال (مستند ٣). أما معايير هذا التقسيم فعدة:

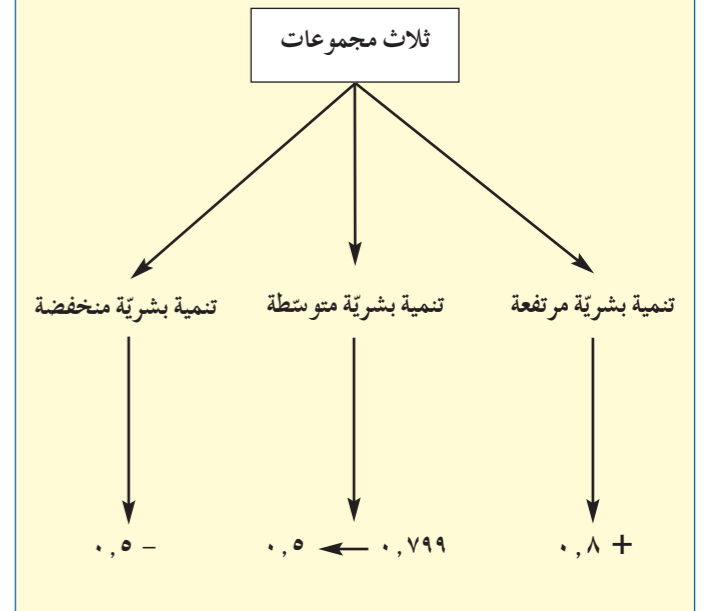
أ- معايير اقتصادية

- معايير تطوّر القطاعات الإنتاجية: زراعة، صناعة وتجارة. تتعلّق بالقيمة الإنتاجية لكلّ قطاع ومساهمته في الناتج العام، بنسبة اليد العاملة التي يشغلها كلّ قطاع، بقيمة الصادرات الزراعية والصناعية ونسبة مساهمة كلّ منهما في الصادرات العامة، بدرجة استثمار الموارد الطبيعية مع المحافظة على التنمية المستدامة، بكثافة استخدام شبكة المواصلات والاتصالات، وبالقدرة على تحقيق الفائض في الميزان التجاري.



مستند ٤:

تقسيمات الدّول بحسب مؤشر التنمية البشرية



مستند ٥:

- أذكر مؤشرات التنمية البشرية.
- إستنتج التقسيمات، بحسب مؤشر التنمية البشرية، التي على أساسها تُصنّف الدول بين دول عالم شمال ودول عالم جنوب.
- أوضح العلاقة الجدلية بين مكوّنات مؤشر التنمية البشرية.



مستند ٨

١. حدّد طبيعة المستند وموضوعه.
٢. إستنتج القوتين المتنافستين.
٣. أذكر أسماء الدّول المتنافس عليها.



مستند ٩ - أ: منطقة فيها ناطحات سحاب (سنغافورة).



مستند ٩ - ب: منطقة شديدة الفقر (الصومال).

١. قارن بين الصورتين أعلاه واستنتج بأنهما ينتميان إلى عالمين مختلفين.

د- معيار مؤشّر التنمية البشرية (مستند ٤ و ٥)

١- تعريف مؤشّر التنمية البشرية:

هو مقياس مقارن لمؤشّرات اقتصادية واجتماعية وديموغرافية لمعرفة مستوى الرّفاه والرعاية الاجتماعية عند الشّعوب.

٢- مكوّنات مؤشّر التنمية البشرية (مستند ٤ و ٥):

- نصيب الفرد من الناتج المحلي السنوي والذي يعبر عن المستوى الاقتصادي للفرد.

- أمد الحياة أو العمر المتوقع عند الولادة الذي يدلّ على المستوى الغذائي والصّحي لكلّ فرد.

- مستوى التّحصيل العلمي وهو يحدّد مستوى التعليم في الدّولة وبالتالي إمكانية التطوّر.

٣- تُصدر الأمم المتّحدة كل سنة دليل مؤشر التنمية البشرية وتصنّف دول العالم حسب قيمة هذا المؤشّر إلى مجموعات ثلاث.

رابعًا - عوامل إنشطار العالم: عوامل تاريخية واستراتيجية

أ- العامل الإستعماري: وجّهت الدول الإستعمارية اقتصاد المستعمرات نحو الزراعة والصناعة الإستخراجية بهدف تأمين الموارد الأولية لصناعاتها، وإبقاء المستعمرات سوقًا لتصريف إنتاجها، فحافظت على ثرواتها وأبقت شعوب المستعمرات في مستوى الفقر (مستند ٧).

ب- عامل التفوّق التكنولوجي: اهتمت الدول الصناعية بدعم مراكز الأبحاث التي سمحت بتحقيق خطوات كبرى في المجال التكنولوجي، مما جعل عالم الشمال متفوّقًا في كافّة المجالات وبقي عالم الجنوب متأخرًا وتابعًا (مستند ٦).

ج- عامل توفّر الاستثمارات: يملك عالم الشمال جميع المؤسّسات المالية والنقدية العالمية، مما يسمح له باتّخاذ القرارات الاستثمارية لتطوير قطاعاته المختلفة، بينما يفتقر عالم الجنوب إلى الأموال التي تمكّنه من تحقيق نموّه.

الدولة	الإنفاق على التسلح من الناتج الوطني (%)
كولومبيا	٣,٣
أرمينيا	٤,٠
السعودية	٩,٨
الكونغو	٧,٢
باكستان	٣,٦
بوتان	٣,٥

المصدر: Images économiques du monde 2019

مستند ١٠: نسبة الإنفاق على التسلح من الناتج الوطني في بعض دول عالم الجنوب.

الدولة	المؤشّر	قيمة الإستثمارات (مليار دولار أمريكي)
الولايات المتحدة		٤١٥,١
الصين		١٤٩,٣
اليابان		١٤٨,٣
كوريا الجنوبية		٤٩
الهند		٣٢,٥
ألمانيا		٨٢,٩
فرنسا		٤٧,٤
بريطانيا		٣٩,٣
البرازيل		٢٣,٩
روسيا		٢٢,٩

المصدر: Images économiques du monde 2018

مستند ١١: قيمة الإستثمارات المخصّصة للأبحاث العلمية في بعض الدول.

١. أذكر اسم الدولة التي تخصّص أكبر قيمة من الإستثمارات للأبحاث العلمية.

٢. قارن قيمة الإستثمارات واستنتج سبب التفوّق الصناعي لدول الشمال وبعض دول الجنوب.

الدولة/ الفائزة	القيمة (مليار دولار أمريكي)
الولايات المتحدة الأمريكية	٢١٠,٧
ألمانيا	٣٢,٣
بريطانيا	٧٧,١
فرنسا	٤٠
أفريقيا	٥٤,٤
البرازيل	٦٥,٥
المكسيك	١٧,٩
الهند	٣٤
الصين	١٢٤
روسيا	٥٠,٨

المصدر: Images économiques du monde 2018

مستند ١٢: توزّع التمدّدات الإستثمارية الوافدة على بعض الدول أو القارّات.

١. أذكر أسماء أوّل ثلاث دول تندفق نحوها الإستثمارات المالية العالمية.

٢. سمّ من الجدول الدول المنتمة لعالم الجنوب.

٣. قارن بين الإستثمارات في الفائزة الأفريقية وفي الولايات المتحدة الأمريكية، ماذا تستنتج؟

د- عامل الاستقرار السياسي واتّخاذ القرارات: رغم

الاضطرابات السياسية الحالية في عدّة دول متطوّرة (إسبانيا، اليونان، أوكرانيا...) تحظى دول عالم الشمال بالاستقرار السياسي نسبيًا، وتنصرف حكوماتها إلى اتّخاذ القرارات السياسية المناسبة لتطوير اقتصادها، بينما تعيش معظم دول عالم الجنوب في النزاعات والحروب، مع تدخّل القوى العظمى من عالم الشمال. هذا الواقع منع حكومات دول عالم الجنوب من اتّخاذ القرارات الهادفة لتنمية قطاعاتها الاقتصادية بل اتّجهت للإنفاق على التسلّح (مستند ١٠).

خامسًا - إنشطار العالم بين شمال وجنوب ظاهرة غير ثابتة وغير حتمية

أ- حدود العالمين اصطلاحية ومتغيرة: إنّ دائرة الإستواء هو خطّ اصطلاحي وهمي و«ثابت» في منتصف الكرة الأرضية (مستند ١). أمّا الخطوط المبنية على معطيات اقتصادية واجتماعية فهي قابلة للتعديل تبعًا للتنمية الاقتصادية والبشرية التي تحقّقها الدول، لذا فإنّ خطّ الحدود بين عالمي الشمال والجنوب هو غير ثابت.

ب- إمكانية انتقال الدول من عالم لآخر: إنّ تصنيف الدول ضمن الشمال أو الجنوب ليس حتميًا، إذن، بل هناك إمكانية الانتقال بين العالمين. ولكي تنتقل إحدى دول عالم الجنوب إلى عالم الشمال يجب عليها أن تنفّذ خططًا تنموية بعيدة المدى وعلى جميع الأصعدة. مثلاً بعض دول الشرق الأقصى كتايبان، وكوريا الجنوبية وسنغافورة أتبعّت برامج إصلاحية أعطتها القدرة للانتقال إلى عالم الشمال. أمّا دول الصين، الهند والبرازيل فهي تنافس دول عالم الشمال اقتصاديًا إلاّ أنّه يلزمها جهود كبيرة لتحسين الأوضاع الاجتماعية لشعبها والانتقال إلى عالم الشمال.

تحليل مستندات: الأسئلة

أولاً: حدّد طبيعة كل من المستندين رقم (١) ورقم (٢) وموضوع كل منهما.

ثانياً: من خلال المستندين (١) و(٣)، اختر الإجابة الصحيحة.

١- ثلاث دول من ثلاث قارات يزيد فيها مؤشر التنمية عن ٠,٨ : أ- أستراليا - روسيا - كندا. ب- الصين - فرنسا - البرازيل. ج- نيوزلندا - النمسا - الولايات المتحدة.	٢- ثلاث دول تطلّ على المحيط الهادئ ويتراوح فيها مؤشر التنمية ما بين ٠,٥ - ٠,٧ : أ- جنوب أفريقيا - المغرب - الأرجنتين. ب- الصين - الفلبين - هندوراس. ج- الهند - نيجيريا - الجزائر.
٣- دول الشمال الثلاث الأعلى نصيباً للفرد من الناتج المحلي هي: أ- قطر - ألمانيا - كندا. ب- كندا - فنلندا - ألمانيا. ج- السعودية - قطر - ألمانيا.	٤- الدول التي لا تزال تعاني من معدل وفيات مرتفع للأطفال هي: أ- قطر - المغرب - البرازيل. ب- السعودية - هنغاريا - بنغلادش. ج- اليمن - تشاد - بنغلادش.

ثالثاً: من خلال المستندين رقم (١) ورقم (٣)، أكمل العبارات التالية:

- ١- تعاني قارة أفريقيا من قيمة مؤشر التنمية البشرية في العالم.
- ٢- تعرف دولة تشاد أدنى نسبة
- ٣- يرتفع مؤشر التنمية البشرية في دول عالم الشمال إلى أكثر من:

رابعاً: من خلال المستندين رقم (٢) ورقم (٣)، أجب بكلمة «صح» (V) أو «خطأ» (X)، ثم صحّح الخطأ في الجمل التالية:

- ١- يسجّل معدّل العمر المتوقّع عند الولادة أعلى نسبة في دول عالم الجنوب.
- ٢- تصل نسبة الأمية في دولة تشاد إلى ٤٠,٢٪.
- ٣- القرية الكونية أحد الأوصاف التي أطلقت على المجال العالمي الحالي.
- ٤- كانت المنظومة الشيوعية الدافع للانفتاح العالمي.

خامساً: من خلال المستند رقم (١)، استنتج خاصية اجتماعية يعاني منها معظم سكّان أفريقيا، مبرّراً استنتاجك بالدليل المناسب.

سادساً: من خلال المستند رقم (٣)، استنتج طبيعة العلاقة بين مؤشر التنمية البشرية وأمد الحياة، مبرّراً استنتاجك بالدليل المناسب.

سابعاً: من خلال المستند (٢) بين:

- أ- أنّ الدولة الروسية عاجزة على أن تشكّل إحدى القوى المناهضة للأحادية القطبية.
- ب- النتائج التي ظهرت بعد سقوط المنظومة الشيوعية.

ثامناً: أحدثت العولمة تغييرات جمة على مختلف الأصعدة الاجتماعية والديموغرافية والاقتصادية في دول العالم. انطلاقاً من المستند رقم (٢) والمصطلحات التالية: «النظام الاشتراكي - القطاع الثالث - تحقيق الأرباح - القطاع الإنتاجي»، ومن معلوماتك المكتسبة، عالج المسألة أعلاه، موضحاً:

- خاصيتين يميّز بهما النظام العالمي الجديد.
- نتيجتين سلبيتين للعولمة على كل من عالمي الشمال والجنوب.
- خطوتين يمكن لدول عالم الجنوب اعتمادهما لتصبح العولمة لمصلحتها.



المصدر: P.N.U.D

مستند ١

البلد	قيمة دليل التنمية البشرية	أمد الحياة (سنة)	نسبة الإلمام بالقراءة والكتابة (%)	نصيب الفرد من الناتج المحلي (بالدولار)	معدّل وفيات الأطفال (بالألف)
كندا	٠,٩٢	٨٢,٢	٩٩,٩	٤٢,٥٨٢	٤,٥
قبرص	٠,٨٥٦	٨٠,٣	٩٩,١	٢٩,٤٥٩	٢,٥
السعودية	٠,٨٤٧	٧٤,٤	٩٤,٧	٥١,٣٢٠	١٢,٥
بنغلادش	٠,٥٧٩	٧٢	٦١,٥	٣,٣٤١	٣٠,٧
هنغاريا	٠,٨٣٦	٧٥,٣	٩٩	٢٣,٣٩٤	٥,٣
قطر	٠,٨٥٦	٧٨,٣	٩٧,٨	١٢٩,٩١٦	٦,٨
البرازيل	٠,٧٥٤	٧٤,٧	٩٢,٦	١٤,١٤٥	١٤,٦
فنلندا	٠,٨٩٥	٨١	٩٩	٣٨,٨٦٨	١,٩
تشاد	٠,٣٩٦	٥١,٩	٤٠,٢	١,٩٩١	٨٥
اليابان	٠,٩٠٣	٨٣,٧	٩٩	٣٧,٢٦٨	٢
المغرب	٠,٦٤٧	٧٤,٣	٧٢,٤	٧,١٩٥	٢٣,٧
إيطاليا	٠,٨٨٧	٨٣,٣	٩٩,٢	٣٣,٥٧٣	٢,٩
ألمانيا	٠,٩٢٦	٨١,١	٩٨,٩	٤٥,٠٠٠	٣,١
اليمن	٠,٤٨٢	٦٤,١	٧٠,١	٢,٣٠٠	٣٣,٨

المصدر: تقرير التنمية البشرية ٢٠١٦.

مستند ٣

عزّزت عقود الحرب الباردة تصوّراً مفاده أنّ المنظومة الشيوعية هي العقبة الرئيسية أمام تقدّم حقوق الإنسان في العالم، وأيضاً أمام سيولة التبادل العالمي. الانتصار كان شاملاً، وقيماً أيضاً، على رغم كل ما يقال عن الرأسمالية «المتوحّشة» لذا كانت الآفاق مفعمة بروح التفاؤل، لا بالرأسمالية وإنما بكسر حالة الاستقطاب التي أعاققت الانفتاح العالمي.

أوصاف مثل «القرية الكونية» تبدو لنا اليوم مغرقة في القدم والتقدم، على رغم أننا نعيش في الزمن الذي كان يفترض تحقّقها فيه. بل المفارقة الكبرى أنّ القوى التي كان ينظر إليها كراس حربة للعولمة «المتوحّشة» هي تقريباً القوى ذاتها التي تقود اليوم تيار الانعزال، وهي التي تنادي بعودة سياسة الحماية السابقة على منظّمتي غات والتجارة العالمية.

قد تفسّر نكوص تلك القوى بأنّها أخطأت حساباتها، فلم تأت لها العولمة بالعائد المنتظر منها، وهذا أدى إلى نسف التحليلات القديمة المتخوّفة منها. وقد يفسّر البعض هذا النكوص بآثار الأزمة الاقتصادية العالمية المستمرة منذ نحو عقد، أو بتعاظم الخوف من الهجرة إلى دول الشمال، مع فشل تجارب الإندماج الذي ظهر مع الجيلين الثاني والثالث من المهاجرين واللّاجئين.

المصدر: عمر قدور، جريدة الحياة ٢٠١٨/١٠/٧

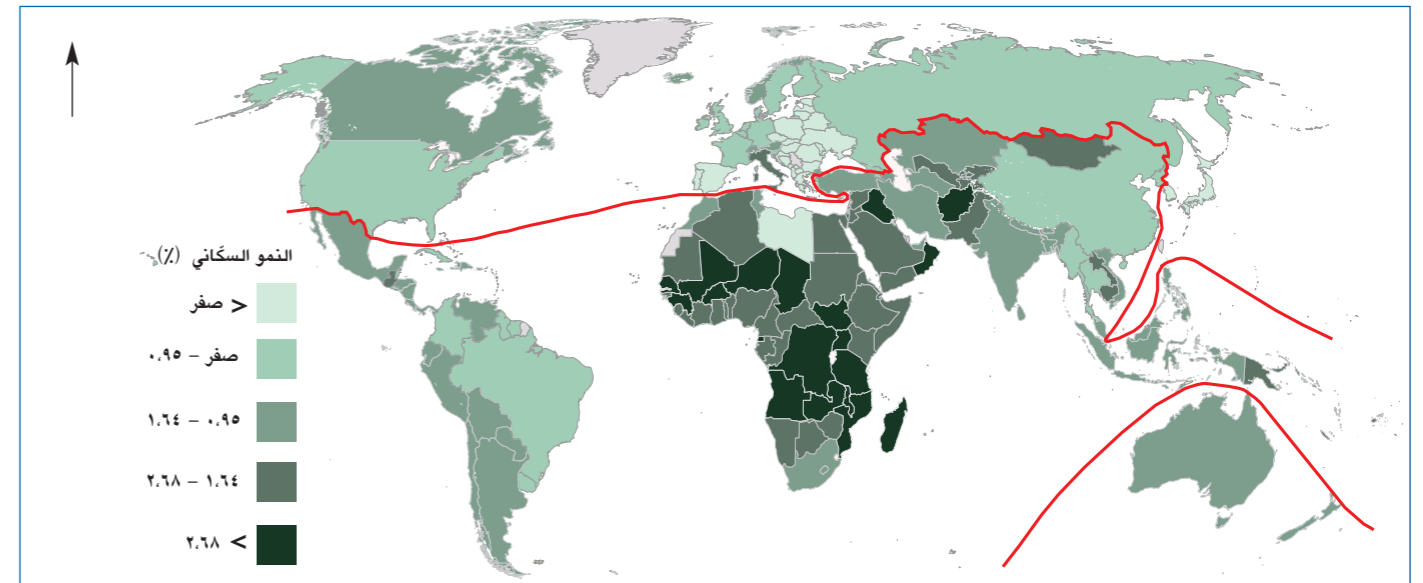
مستند ٢

عالم الشمال: دول متميزة اقتصاديًا

الأهداف: أصبح قادرًا على أن:

- أحدّد على خريطة دول عالم الشمال.
- أوضح خصائص عالم الشمال.
- أّبين عوامل تقدّم عالم الشمال.
- أستنتج اختلاف درجة تقدّم دول عالم الشمال.

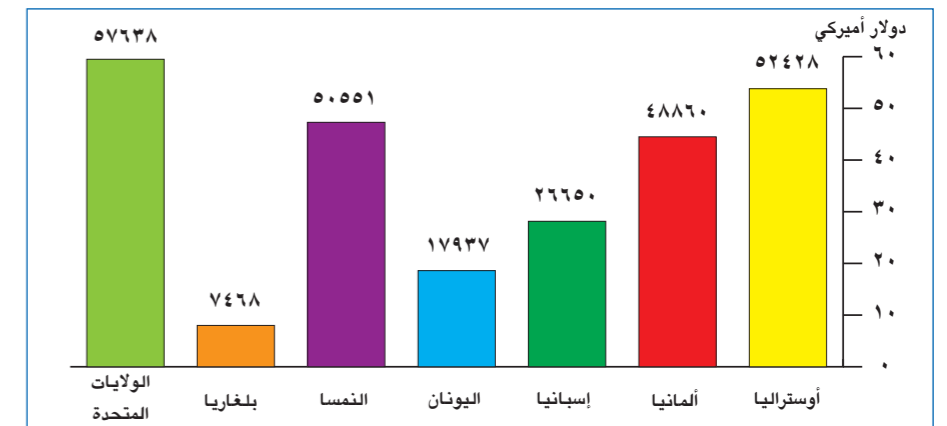
اتّخذت الدول المتمركزة في شمال الكرة الأرضية تسميات عدّة منها: الدول الغنية، الدول المتقدمة والدول الصناعية، ومؤخرًا دول عالم الشمال. فما هي خصائص دول عالم الشمال وما مدى تجانسها؟



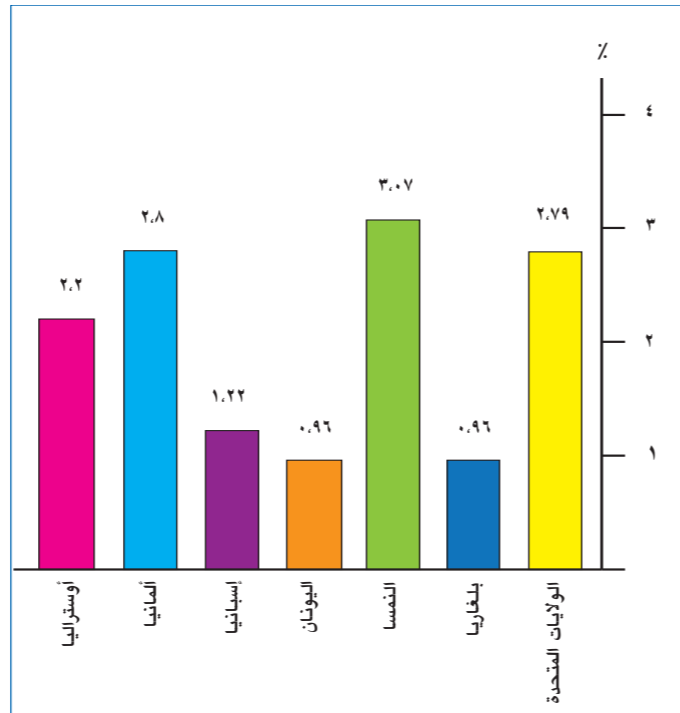
المصدر: البنك الدولي

مستند ١: النمو الطبيعي للسكان للعام ٢٠١٦.

١. حدّد المعيار أو المؤشر الذي ذكره المستند، وصنّفه ضمن الخصائص الاقتصادية أو الاجتماعية أو الديموغرافية.
٢. أذكر أسماء أربع دول، ومن قارات مختلفة، تصنّف من دول عالم الشمال.
٣. أذكر أسماء ثلاث دول تصنّف من عالم الشمال، وتعرف تناقصًا في عدد سكانها.



مستند ٢: نصيب الفرد من الناتج المحلي في بعض دول عالم الشمال.



المصدر: L'année stratégique 2019

مستند ٣: الإنفاق على الأبحاث والتطوير في بعض دول عالم الشمال (من إجمالي الناتج المحلي)

١. حدّد طبيعة المستند وموضوعه.
٢. أوضح علاقة الإنفاق على الأبحاث والتطوير في تقدّم عالم الشمال.
٣. بيّن العلاقة بين مستند (٢) ومستند (٣).

الدولة	نسبة العاملين في القطاعات الاقتصادية (%) من إجمالي العاملين		
	الخدمات %	الزراعة %	الصناعة %
هولندا	٨١	٢	١٧
كندا	٧٨	٢	٢٠
اليابان	٧١	٣	٢٦
فرنسا	٧٧	٣	٢٠
روسيا	٦٦	٧	٢٧
الولايات المتحدة	٨١	١,٥	١٨

المصدر: البنك الدولي ٢٠١٧

مستند ٤: نسبة العاملين في القطاعات الاقتصادية في بعض دول عالم الشمال.

١. سمّ القطاع الذي يستحوذ على أعلى نسبة يد عاملة، أو ضح السبب.
٢. سمّ القطاع الذي تعمل فيه أقل نسبة يد عاملة، مبرّرًا السبب.

أولاً - خصائص دول عالم الشمال: مؤشرات باهرة

تتنوّع خصائص دول عالم الشمال، وهي التالية:

أ - الخصائص الاقتصادية

تهيمن دول عالم الشمال على مجمل القطاعات الاقتصادية العالمية فيرتفع فيها الناتج الوطني نتيجة العوامل التالية:

١- دينامية النشاط الصناعي: يزدهر القطاع الصناعي بفضل عوامل عدّة أهمّها:

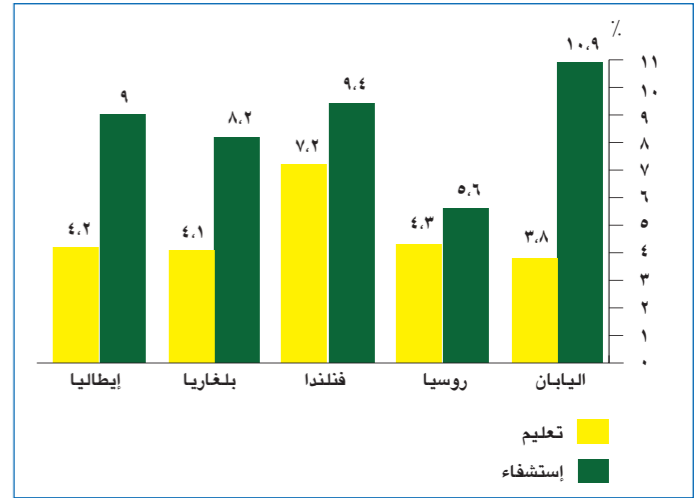
- توفر اليد العاملة الصناعية المتخصصة والمدربة (مستند ٤).
- تخصيص رؤوس أموال لاستثمارها في القطاع الصناعي.
- اعتماد التكنولوجيا المتطورة وزيادة الإنفاق على الأبحاث ممّا يؤدي إلى تطوير الإنتاج من حيث النوعية والكمية. (مستند ٣)
- ٢- توفر المواد الأولية ومصادر الطاقة في أراضي دول عالم الشمال للإنتاج الصناعي، وإمكانية استيرادها بأسعار متدنية من دول عالم الجنوب.

٣- ازدهار القطاع الزراعي: يزدهر القطاع الزراعي في عالم الشمال لأسباب عدّة أبرزها:

- تخصص اليد العاملة في المجال الزراعي ممّا يضمن إنتاجًا وفيرًا وب نوعية جيدة.
- مساهمة القطاع الصناعي في تأمين الآلات الحديثة والمبيدات والأسمدة للقطاع الزراعي، الأمر الذي يرفع من الإنتاجية ويخفّض من نسبة اليد العاملة في الزراعة. (مستند ٤)
- دعم الدولة للقطاع الزراعي، رغم مناقضة هذا الدعم لشروط منظّمة التجارة العالمية.

٤- التحكّم بالتجارة العالمية من خلال:

- ضخامة الإنتاج في هذه الدول وتصدير الفائض، وحاجة دول الجنوب لهذا الفائض.
- امتلاك دول عالم الشمال لوسائل النقل العالمية المتطورة.
- استثمار دول عالم الشمال بالاتّصالات المتطورة التي تستخدمها بشكل واسع فأمنت اتّساع عملياتها التجارية.
- وجود أكبر المصارف والبورصات العالمية في دول عالم الشمال التي تتحكّم بقرارات البنك الدولي وصندوق النقد الدولي.
- امتلاك عالم الشمال معظم الشركات المتعدّدة الجنسيات التي تحقّق عدة إيجابيات، منها: تحقيق الأرباح من استثماراتها في معظم دول العالم، تأمين السلع لمواطني دول الشمال بأسعار مناسبة نتيجة انخفاض كلفة الإنتاج خارج عالم الشمال، وتعزيز سلطة عالم الشمال في كافة المجالات الاقتصادية.



المصدر: Images économiques du monde 2019

مستند ٥: الإنفاق العام على التعليم والاستشفاء (% من إجمالي الناتج المحلي).

- أذكر أسماء الدول الثلاثة الأولى من حيث نسبة الإنفاق على التعليم والاستشفاء.
- أوضح نتائج هذا الإنفاق على الصعيدين الاجتماعي والاقتصادي.

الدولة	المؤشر	النمو الاقتصادي سنة ٢٠١٧ (%)	النمو الطبيعي للسكان ٢٠١٧ (%)	معدّل الولادات بالألف ٢٠١٧	معدّل الوفيات بالألف ٢٠١٧
كندا	٣	٠,٠٣٣	١٠,٨	٧,٥	٧,٥
إنكلترا	١٠,٩٧	٠,٠٢٧	١١,٨	٩,١	٩,١
رومانيا	٧	-٠,٠٣٤	٩,٦	١٣	١٣
سنغافورة	٣,٦٢	٠,٠٤٦	٩,٤	٤,٨	٤,٨
روسيا	١,٥٥	صفر	١٢,٩	١٢,٩	١٢,٩
ألبانيا	٣,٩٣	٠,٠٤٤	١١,٨٢	٧,٣٨	٧,٣٨
ألمانيا	٢,٥١	-٠,٠١٩	٩,٣	١١,٢	١١,٢
أستراليا	٢,٢٧	٠,٠٦	١٢,٥	٦,٥	٦,٥

المصدر: L'année stratégique 2019

- مستند ٦:** مؤشرات ديموغرافية واقتصادية لبعض دول عالم الشمال.
- قارن بين النمو الطبيعي للسكان والنمو الاقتصادي، ماذا تستنتج؟
 - سمّ الدول التي يتناقص فيها النمو الطبيعي للسكان.
 - حدّد أسباب تدني النمو الطبيعي للسكان.

٥- إرتفاع معدّل نصيب الفرد من إجمالي الناتج المحلي (مستند ٢): بفضل ضخامة الإنتاج وتدنيّ النمو السكاني وهذا الواقع انعكس كما يلي:
- إرتفاع القدرة الشرائية للسكان وزيادة طلبهم على شراء الحاجيات، وبالتالي تأمين تصريف السلع الصناعية والزراعية.
- تفوّق النمو الاقتصادي على النمو الطبيعي للسكان، مما سمح بحصول فائض في الثروة تم استثماره لتطوير القطاعات الإنتاجية في الداخل وتوسيع الشركات في الخارج (مستند ٦).

ب- الخصائص الاجتماعية

يتمتع سكان دول عالم الشمال بحياة اجتماعية مريحة، وهذا يظهر من خلال:

- ارتفاع المستوى المعيشي للفرد والذي مكّنه من الحصول على سرعات حرارية كافية لنموه بشكل سليم (مستند ٢).
- القضاء على الأمية نتيجة الدخل الفردي المرتفع الذي ضمن نفقات التعليم وأمن اليد العاملة ذات التقنية العالية للقطاعات الإنتاجية (مستند ٥).
- تأمين الضمانات والرعاية الصحية للسكان بسبب اتّباعهم لطرق الوقاية والإرشادات الطّبية وتحمل نفقات الاستشفاء (مستند ٥).
- سيطرة الحكومات على الأمراض المعدية ومنع انتشارها.
- توفّر عدد واف من الأطباء للسكان، وهذا الأمر خفّف من معدّل وفيات الأطفال إلى حدّه الأدنى وضمن صحّة الأفراد (مستند ٧).

ج- الخصائص الديموغرافية

- ينخفض معدّل النمو الطبيعي للسكان في دول عالم الشمال بسبب:
- دخول المرأة ميدان العمل ممّا دفعها إلى تخفيض معدّل المواليد وبالتالي انخفاض معدل الخصوبة عندها.
 - ارتفاع الوعي عند الأفراد، وهذا الأمر دفعهم لتحويل قسم من دخلهم لتأمين الحاجات التعليمية والصحية لأفراد العائلة.
 - انخفاض معدّل الوفيات بسبب تأمين الرعاية الصحية للأفراد، وهذا الأمر سمح بارتفاع معدّل العمر المتوقع عند الولادة.
 - انخفاض معدّل النمو الطبيعي للسكان بسبب تدني معدلي المواليد والوفيات (مستند ٦). وينتج عن هذا الانخفاض:

- تفوّق معدّل النمو الاقتصادي على النمو الطبيعي للسكان، مما ساهم بارتفاع نصيب الفرد من الناتج المحلي (مستند ٢).
- نقص اليد العاملة في دول عالم الشمال، وخاصة اليد غير المختصة؛ لذلك تعتمد دول عالم الشمال إلى جذبها من دول عالم الجنوب.

الدولة	عدد الأطباء لكل ١٠٠٠ نسمة
إستونيا	٣,٤٣
رومانيا	٢,٦٧
سنغافورة	٢,٢٨
روسيا	٣,٩٨
فنلندا	٣,٢
إندونيسيا	٠,٢٨
أوغندا	٠,٠٩

المصدر: L'année stratégique 2019

مستند ٧: عدد الأطباء لكل ١٠٠٠ شخص في بعض دول العالم.

- حدّد طبيعة المستند وموضوعه.
- صنّف الدول في المستند إلى عالم شمال وعالم جنوب.
- قارن بين عدد الأطباء لكل ١٠٠٠ شخص بين دول عالم الشمال ودول عالم الجنوب.
- أوضح أنّ الرعاية الصحية مؤمّنة في دول عالم الشمال.

الدولة	نسبة المشتركين في الإنترنت الفائق السرعة %
النرويج	٤٠,٤
كندا	٣٦,٩
إسبانيا	٣٠,٥
سنغافورة	٢٦
أستراليا	٣٦,٩
الجزائر	٧
مالي	٠,٠٥
ماليزيا	٨,٧
بنغلادش	٤

المصدر: Images économiques du monde 2019

مستند ٨: نسبة المشتركين في الإنترنت الفائق السرعة %.

- حدّد طبيعة المستند وموضوعه.
- أذكر النسبة الأدنى التي تسجّلها دول عالم الشمال.
- أذكر النسبة الأعلى التي تسجّلها دول عالم الجنوب.
- بيّن أنّ دول عالم الشمال متقدّمة تكنولوجياً عن دول عالم الجنوب.

د- الخصائص السياسية

ينعم معظم دول عالم الشمال بأوضاع أمنية مستقرّة نسبيًا وذلك بسبب:

- اعتماد الحكومات في دول عالم الشمال النظم الديمقراطية حيث تسود مبادئ حرية التفكير والتعبير واحترام حقوق الإنسان.
- انخفاض حدّة التناقضات بين الطبقات الشعبية، وتأمين الدولة الحاجات الضرورية للفقراء ممّا خفّف مظاهر الإضطرابات العنيفة والمسلّحة. إلّا أنّ العديد من دول عالم الشمال تعاني مشكلات اقتصادية كبيرة منذ ٢٠٠٨ (إفلاس، هجرة الشركات، صرف عمال، بطالة، ديون...) وخاصة دول منطقة اليورو.
- الاستقلال السياسي والاقتصادي لمعظم دول عالم الشمال، فمنها تتشكل الأقطاب الاقتصادية، وهي من الدول المؤثرة في السياسات العالمية والموجهة لها.

ثانياً - عوامل تقدّم دول عالم الشمال: تجمّع تاريخي للثروة وطموح متسارع

تسجّل دول عالم الشمال تقدّمًا في جميع القطاعات الاقتصادية وخاصة الصناعية، وأهمّ العوامل التي أدّت إلى هذا الواقع هي:

أ- العامل التاريخي: تبنّت دول عالم الشمال عملية التصنيع منذ القديم، وبسطت سيطرتها على أراضٍ واسعة خارج حدودها في المستعمرات التي شكّلت مناطق لتصريف إنتاج الدول الصناعية ولتأمين المواد الأولية ومصادر الطاقة لها بأسعار متدنية. هذا الأمر أدى إلى تقسيم العمل الدولي وأعطى الأفضلية لدول عالم الشمال التي تراكمت عندها الثروات، فاستثمرتها في الصناعة وحقّقت رأسمالًا ثابتًا.

ب - العامل التكنولوجي: سمح توفّر الرساميل في دول عالم الشمال باستثمارها في مجال البحث العلمي والتطوير التكنولوجي، ممّا أكسبها إستمرارية التفوّق الصناعي والزراعي (مستند ٣).

ج - عامل تدنيّ النمو الطبيعي للسكان وتفوّق النمو الاقتصادي: سمح هذا التفوق بالإدّخار واستثمار المدخرات في مجال القطاعات الإنتاجية وتحسين مستوى الرفاهية (مستند ٦).

د - عامل الإستقرار الأمني والسياسي: سمح الإستقرار الأمني والسياسي بتوسّع الاستثمارات في دول عالم الشمال، وجذبها من الخارج؛ وساهم في تمركز الشركات المتعدّدة الجنسيات في أراضيها (مستند ٩).

الدولة	قيمة دليل التنمية البشرية	نصيب الفرد من الناتج المحلي (دولار أميركي)	نسبة الذين يعيشون دون خط الفقر %	نسبة البطالة %
الدانمرك	٠,٩٢٥	٥٣٥٧٨,٨	١٣,٤	٦,١٨
النمسا	٠,٨٩٣	٤٤٧٥٧,٦	٤	٦,٠١
بلغاريا	٠,٧٩٤	٧٤٦٩	٢٢	٧,٥٧
كندا	٠,٩٢٠	٤٢٣٤٩	٩,٤	٧
ليتوانيا	٠,٨٤٨	١٤٩١٢,٧	٢٢,٢	٧,٦٨
أوكرانيا	٠,٧٤٣	٢١٨٦	٢٤,١	٩,٣٥
سويسرا	٠,٩٣٩	٧٩٨٨٧,٥	٦,٦	٤,٩٢
إيطاليا	٠,٨٨٧	٣٠٦٦٩	٢٩,٩	١١,٦٩
رومانيا	٠,٨٠٢	٩٥٢٢,٨	٢٢,٤	٥,٩
ألبانيا	٠,٧٦٤	٤١٢٥	١٤,٣	١٥,٢٢

المصدر: Images économiques du monde 2019

مستند ١١: مؤشرات اقتصادية واجتماعية وديموغرافية لبعض دول عالم الشمال.

ج - التباين في القوة السياسية والاقتصادية المؤثرة في المجال العالمي: بعض دول

عالم الشمال:

١- تملك حق النقض* في مجلس الأمن.

٢- تباين في مواقفها السياسية الدولية (تجاه الحرب على العراق ومؤخرًا على

سوريا).

٣- تستأثر مجموعة الثمانية* بمعظم إنتاج القطاعات الاقتصادية في العالم.

٤- تشغل دول عالم الشمال الأخرى دورًا ثانويًا على الصعيد السياسي

والاقتصادي العالمي.

د - التباين داخل دول عالم الشمال نفسها: يظهر التباين واضحًا داخل كل دولة من

دول عالم الشمال، إذ لم:

١- تستطع القضاء على حالات الفقر في بعض أحياء مدنها، وخاصة حيث

يسكن المهاجرون الوافدون إليها. (مستند ١٠ و ١١)

٢- تحلّ مشكلة البطالة في بعض الدول. (مستند ١١)

٣- تتأمن الضمانات الاجتماعية نتيجة تراجع مفهوم دولة الرعاية واعتماد

النظام الرأسمالي الذي يعطي الأولوية للأموال على حساب الإنسان.

حق النقض / الفيتو (Veto): كلمة لاتينية معناها أنا أعترض / أرفض، تستخدم للدلالة على حق مجموعة ما بإيقاف قرار مشترك. وتتمتع خمس دول بحق النقض في مجلس الأمن، هي الولايات المتحدة، روسيا، المملكة المتحدة، فرنسا والصين.

مجموعة الثمانية G8: تتألف من الدول المتقدمة التالية: الولايات المتحدة، المملكة المتحدة، كندا، فرنسا، ألمانيا، إيطاليا، اليابان وروسيا. نشأت سنة ١٩٧٠ وتجتمع مرة في السنة.

بعد أزمة أوكرانيا قُزت الدول الأعضاء عدم الحضور إلى القمة في سوتشي في عام ٢٠١٤، والتقت في بروكسل من دون روسيا التي أخرجت من المجموعة اليوم G7.

هـ - انتشار العولمة: وفر انتشار العولمة للشركات المتعددة الجنسيات فرصًا عديدة لنقل استثماراتها إلى كافة الدول دون قيود نظرًا لاعتماد الرأسمالية، وتصدير منتجاتها إلى مختلف دول العالم.

و- عامل إمتلاك وسائل الاتصالات والمواصلات: إن تراكم الثروة في دول عالم الشمال أعطى هذه الدول القدرة للهيمنة على وسائل النقل والاتصالات، وتوجيه التجارة الدولية لمصلحتها.

ثالثًا - عالم الشمال: مجالات متباينة النمو

بالرغم من توفّر المعايير التي توحد التوجهات الاقتصادية لدول عالم الشمال يبقى التباين واضحًا بين مجالاتها من عدة أوجه منها:

أ - التنافس في المجال الاقتصادي: اعتمدت معظم دول

عالم الشمال اقتصاد السوق وتراكت ثرواتها، فزاد التنافس في ما بينها:

١- في مجال الأبحاث العلمية والتكنولوجيا.

٢- من أجل السيطرة على الأسواق الخارجية.

٣- من خلال إنشاء التكتلات الاقتصادية الإقليمية (الاتحاد الأوروبي، الناقتا) واعتماد سياسات حمائية بينها.

٤- في السياسات الخارجية والمواقف الدولية.

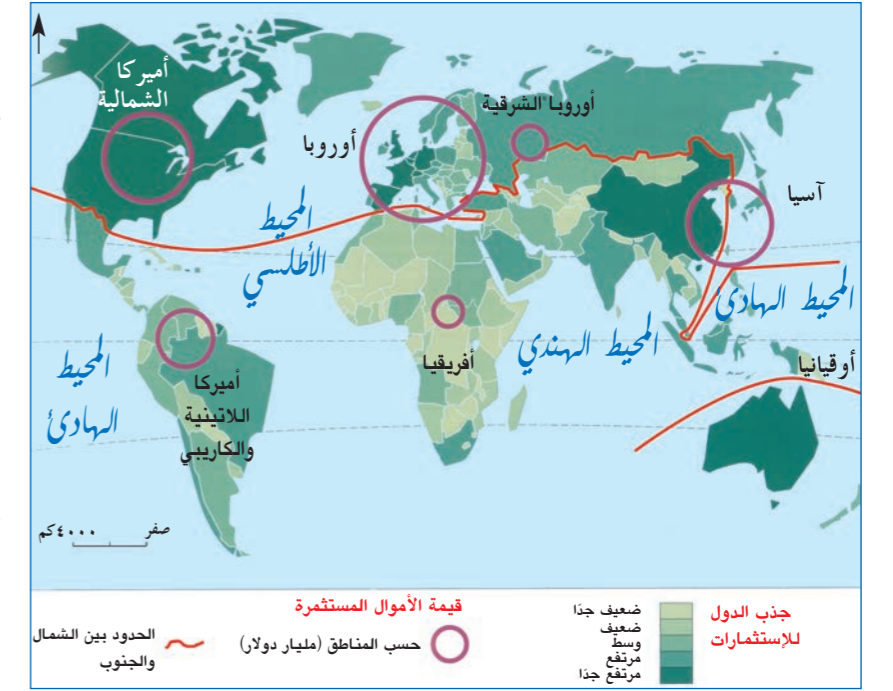
ب - التباين في التطور الاقتصادي: حاولت الدول التي تحوّلت من النظام الإشتراكي إلى النظام الرأسمالي الحرّ سنة ١٩٨٩، النهوض باقتصادها إلا أنه لا يزال يسجّل تدنيًا عن المستوى الذي حقّقه دول عالم الشمال الرأسمالية في:

١- نصيب الفرد من الناتج المحلي.

٢- القوة الشرائية عند السكان.

٣- قيمة الإنتاج الزراعي والصناعي.

٤- نسبة المساهمة في التجارة العالمية. (مستند ١١)



المصدر: Atlas du monde diplomatique

مستند ٩: توزع قيمة الاستثمارات على دول العالم.

١. أذكر أسماء أربع دول، من قارات مختلفة، تجذب الاستثمارات إلى أراضيها بشكل مرتفع جدًا.

٢. حدّد أهم المناطق التي تجذب الاستثمارات العالمية إلى أراضيها.

٣. أوضح من خلال المستند تفوّق دول عالم الشمال.



مستند ١٠: حي فقير في فرنسا «Les Bidonvilles».

١. حدّد حالة السكان الاجتماعية الذين يعيشون في هذه الأحياء.

٢. استنتج التناقض في عالم الشمال.

أولاً: أ. حدّد طبيعة المستندات رقم (١) ورقم (٢) ورقم (٣). ب. حدّد موضوع المستند رقم ٣.

ثانياً: من خلال المستندين رقم (١) ورقم (٣)، اختر الإجابة الصحيحة.

١- ثلاث دول من عالم الشمال معظم سكانها في الثلاثينات: أ- روسيا - أستراليا - كندا. ب- الصين - السويد - الولايات المتحدة. ج- فرنسا - نيوزيلندا - الولايات المتحدة.	٢- ثلاث دول في عالم الشمال من ثلاث قارات معظم سكانها في الأربعينات: أ- اليابان - كندا - فنلندا. ب- إسبانيا - ألمانيا - كندا. ج- بريطانيا - اليابان - إيطاليا.
٣- دولة من عالم الشمال لم تتمكن حتى سنة ٢٠١٧ من بلوغ نصيب الفرد من الناتج المحلي الذي بلغته الولايات المتحدة سنة ١٩٩٩: أ- ألمانيا. ب- اليابان. ج- روسيا.	٤- دولة أوروبية تخطى نصيب الفرد من ناتجها المحلي سنة ٢٠١٧ الـ ٤٨ ألف دولار: أ- ألمانيا. ب- فنلندا. ج- اليابان.

ثالثاً: اعتماداً على المستندين رقم (١) ورقم (٣)، أكمل الجمل التالية بما يناسبها:

- ١- تشكّل الفئات العمرية النشطة النسبة الأعلى من سكانه، هو عالم
- ٢- تشكّل الفئات العمرية غير النشطة النسبة الأعلى من سكانه، هو عالم
- ٣- الدولة التي يتفوق فيها نصيب الفرد من الناتج المحلي مجمل دول عالم الشمال هي:
- ٤- الدولة الأوروبية التي تعادل نصيب الفرد من الناتج المحلي فيها مع اليابان سنة ٢٠١٢ هي:

رابعاً: من خلال المستند رقم (١)، استنتج خاصية ديموغرافية تميّز دول عالم الشمال.

خامساً: من خلال المستند رقم (٢):

- أ- حدّد الاستراتيجية للتنمية الاقتصادية التي قام بها الجنرال باراك في كوريا عند تسلّمه الحكم.
- ب- حدّد ثلاثة شروط فرضتها الدولة الكورية على الشركات العملاقة.
- ج- حدّد الاستراتيجية التي وضعتها كوريا لمواجهة المنافسة الشرسة مع الدول الصاعدة، وبين المخططين المعتمدين لإنجاز هذه الاستراتيجية.

سادساً: يشير المستند رقم (١) إلى واقع سكاني محدّد في عالم الشمال:

- أ- حدّد واقع النمو الديموغرافي في عالم الشمال.
- ب- أوضح نتيجة سلبية تنتج عن هذا الواقع.

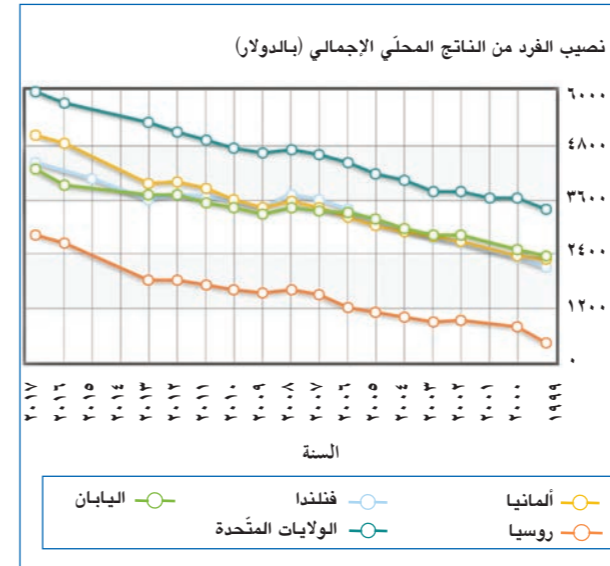
سابعاً: يشير المستند رقم (٢) إلى التطور الباهر في اقتصاد كوريا، لاسيّما في القطاع الصناعي، أوضح ثلاثة مقومات للقطاع الصناعي المتطور.

ثامناً: تميّز دول عالم الشمال باقتصادها المزدهر وقيمة مؤشرات اقتصادية واجتماعية وديموغرافية تدلّ على تقدّمها.

- ١- انطلاقاً من المستندين رقم (٢) ورقم (٣)، والمصطلحات التالية «الشركات متعدّدة الجنسيات - الخصوبة - المستوى المعيشي - المواد الأولية»، ومن معلوماتك المكتسبة، عالج المسألة أعلاه موضحاً:
 - أ- اثنين من الخصائص الاقتصادية التي تتمتع بها دول عالم الشمال.
 - ب- اثنين من المظاهر الاجتماعية التي تميّز عالم الشمال.
 - ج- عاملين أدّى إلى انخفاض معدّل النمو السكاني في عالم الشمال.
 - د- دور العولمة في تطور دول عالم الشمال.



مستند ١



المصدر: Indexmundi 2017

مستند ٣

كانت كوريا الجنوبية حين تأسيسها واحدة من أفقر دول العالم؛ حيث لم يكن دخل الفرد فيها يتعدّى ٨٠ دولاراً في السنة، وكانت تعاني من دمار اقتصادي وفوضى سياسية.

وسط أجواء مضطربة سياسياً واقتصادياً، وصل الجنرال «بارك تشونغ هي» إلى سدة الحكم عبر انقلاب عسكري (١٩٦١ - ١٩٧٩)، ومنح للتنمية الاقتصادية أولوية كبرى، وغير الرئيس الجديد استراتيجية التنمية الاقتصادية من استراتيجية الإحلال محل الواردات إلى أخرى تعتمد على اقتصاد موجه نحو الصادرات.

وعمل الرئيس باراك أيضاً على تقوية دور الشركات العملاقة وتسخيرها لخدمة الأهداف التنموية. وكانت هذه الشركات ضعيفة ولا تستطيع أن تصنع منتجات كثيفة من دون المساعدات التي تقدّمها الدولة. وقد اشترطت الدولة أن تحقّق هذه الشركات أداءً اقتصادياً ناجحاً والاستثمار في مجالات اقتصادية وصناعية جديدة، والتعاون الوثيق مع الحكومة، كشروط أساسية لتلقّي الحماية من الدولة.

ومع بداية السبعينات، ستواجه كوريا تحدياً جديداً يتمثّل في المنافسة الشرسة مع دول صاعدة استطاعت تطوير صناعاتها الخفيفة مما فرض على كوريا التحوّل نحو استراتيجية مغايرة تهدف إلى إنشاء قطاعات جديدة تستطيع المنافسة على الصعيد العالمي كالصناعات الكيماوية والثقيلة. ولإنجاز هذا المخطط تمّ إنشاء العديد من مدارس التكوين المهني ومعاهد تكوين المهندسين والعلماء، وألزمت الدولة الشركات الصناعية الكبرى بتدريب مستخدميها.

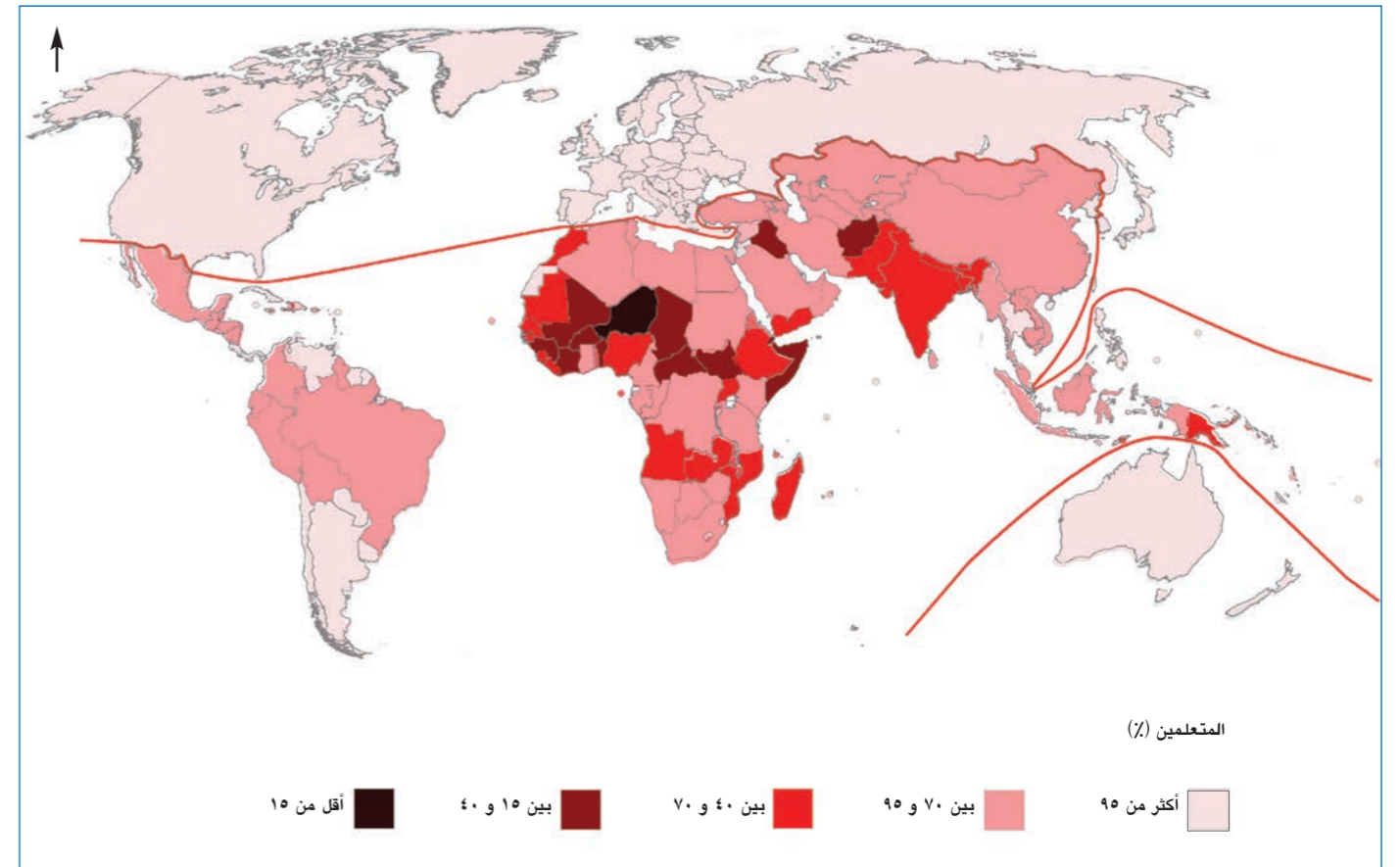
مستند ٢

عالم الجنوب: اضطراب اقتصادي ومصاعب اجتماعية

الأهداف: أصبح قادرًا على أن:

- أُلحِّد على خريطة دول عالم الجنوب.
- أوضِّح خصائص دول عالم الجنوب.
- أُلحِّد عوائق التنمية التي تواجه دوله.
- أبَيِّن تفاوت النمو بين دول عالم الجنوب.

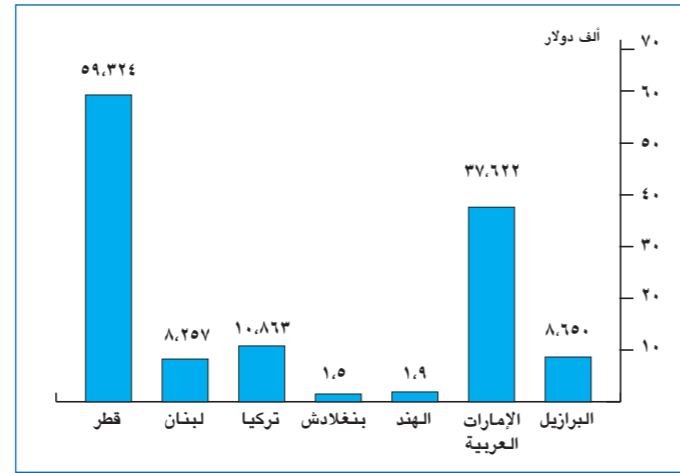
تعاني معظم دول عالم الجنوب من مشاكل اقتصادية واجتماعية عديدة. إلا أن بعض هذه الدول حققت خطوات إنمائية متسارعة، وأصبح اقتصادها ينافس دول عالم الشمال في الأسواق العالمية. فما هي الخصائص العامة لهذه الدول؟ ما هي عوائق التنمية التي تواجهها؟ وما هو مدى التباين في مستوى اقتصادياتها؟



المصدر: Wikipedia.org

مستند ١: نسبة المتعلمين في العالم.

١. أذكر أربع دول تنخفض فيها نسبة المتعلمين عن ٤٠٪.
٢. أذكر أربع دول ترتفع فيها نسبة المتعلمين عن ٩٥٪.
٣. اذكر اسم القارة التي تعاني من أعلى نسبة أمية.
٤. اشرح مدى التجانس السائد بين دول عالم الجنوب، مبرِّراً استنتاجك.
٥. أوضح تأثير انخفاض نسبة المتعلمين في عالم الجنوب على الاقتصاد في دوله.



المصدر: Images économiques du monde 2019

مستند ٢: نصيب الفرد من الناتج المحلي في بعض دول عالم الجنوب.

١. صنف الدول الواردة في المستند إلى ثلاث مجموعات بحسب

نصيب الفرد من الناتج المحلي.

٢. بين أن دول عالم الجنوب غير متجانسة.

٣. اشرح سبب ارتفاع نصيب الفرد من الناتج المحلي في دول الخليج.

الدولة	نسبة مساهمة القطاعات الإنتاجية في الناتج المحلي (%)		
	تجارة	صناعة	زراعة
المغرب	٥٦,٨	٢٩,٥	١٣,٦
نيجيريا	٦٠,٤	١٨,٤	٢١,٢
إيران	٥٥	٣٥	١٠
تايلاندا	٥٥,٨	٣٥,٨	٨,٣
تشيلي	٦٤,٤	٣١,٣	٤,٣
الهند	٥٣,٨	٢٨,٨	١٧,٤
غانا	٥٢,٢	٢٨,٢	١٩,٦

المصدر: L'année stratégique 2019

مستند ٣: نسبة مساهمة الناتج المحلي في القطاعات الاقتصادية في

بعض دول عالم الجنوب.

١. حدِّد طبيعة المستند وموضوعه.

٢. بين سبب انخفاض نسبة مساهمة القطاع الزراعي في الناتج المحلي.

٣. بين سبب ارتفاع نسبة مساهمة القطاع التجاري في الناتج المحلي.

أولاً - دول عالم الجنوب: صعوبات متنوعة

أطلقت هذه التسمية على الدول التي تمتد إلى جنوب دول عالم الشمال، تبلغ مساحتها حوالي ٧٢٪ من المناطق المأهولة. تتوزع على مناخات متعددة، وتضم دولاً متباينة المساحة والامتداد ومتناقضة في نموها الاقتصادي ومدى انخراطها في المجال العالمي. رغم ذلك فهي تشكّل وحدة تجمعها خصائص مشتركة عديدة.

أ- الخصائص الاقتصادية: تتمثل المعوقات الاقتصادية بالتالي:

١- تدني معدل نصيب الفرد من إجمالي الناتج الوطني (مستند ٢). ما يؤدي إلى ازدياد الفقر وضعف القدرة الشرائية عند السكان، وإلى ركود الاقتصاد.

٢- ضآلة رؤوس الأموال الموظفة في القطاعات الإنتاجية، فتعجز هذه الدول عن استخدام التكنولوجيا المتطورة ومضاعفة الإنتاج وسدّ حاجات سكانها.

٣- جمود القطاعات الإنتاجية بسبب قلة اليد العاملة المتخصصة وزراعة المنتجات المطلوبة من عالم الشمال.

٤- تضخّم قطاع التجارة لأنه يؤمّن استيراد السلع من دول عالم الشمال لتأمين حاجات دول عالم الجنوب وبالمقابل تصدير المواد الأولية؛ مع العلم أن دول عالم الجنوب تسجّل نسبة ضئيلة في المبادلات التجارية العالمية.

٥- إختلال التوازن بين النمو الاقتصادي والنمو الطبيعي السريع للسكان، فبقي الاقتصاد عاجزاً عن تأمين الحاجات الأساسية للمجتمعات، وعن إيجاد فائض مالي يستثمر في مشاريع إنتاجية.

٦- سوء إدارة استثمار الموارد الطبيعية بسبب ضعف الإمكانيات المحلية أو استغلالها من قبل الشركات لصالح دول عالم الشمال.

٧- تحوّل دول عالم الجنوب إلى سوق إستهلاكية لدول عالم الشمال بسبب ضعف إمكانيات قطاعي الزراعة والصناعة (مستند ٣ و ٥).

ب- الخصائص الاجتماعية: يتّصف سكان دول عالم الجنوب بشكل عام بخصائص تدلّ على تردي الأحوال الاجتماعية من خلال:

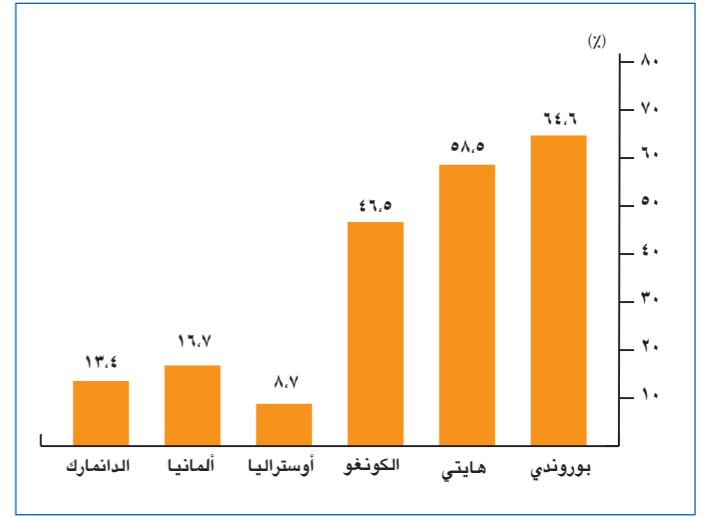
١- تدني مستوى مؤشر التنمية البشرية: تحتل دول عالم الجنوب مراتب متأخرة عن دول عالم الشمال ما يدلّ على الأوضاع الصعبة فيها (مستند ٦).

٢- ارتفاع معدل الأمية: عند البالغين من الذكور والإناث (مستند ٨) بسبب تدني الدخل الوطني وضعف القدرة على تحمّل نفقات التعليم لذلك:

- يرتفع معدل النمو الطبيعي وينخفض العمر المتوقع عند الولادة نتيجة غياب ثقافة الوقاية (الوعي الصحي).

- لا يتكيف العمّال مع التكنولوجيا الحديثة وبالتالي تدني الإنتاجية والنوعية؛ وهذا يؤدي إلى عدم القدرة على المنافسة.

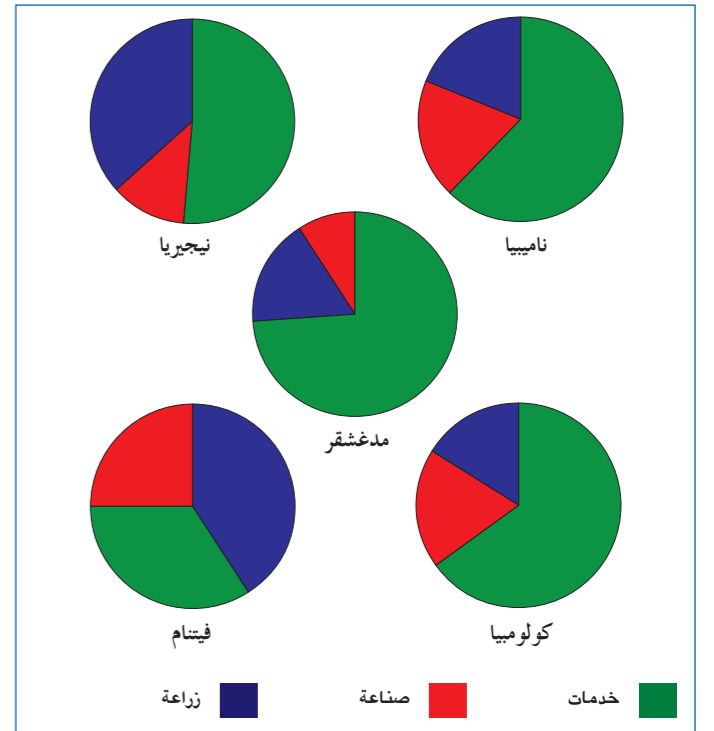
حاليًا، تعرف دول عالم الجنوب نهضة علمية وجهودًا مستمرة لمحو الأمية.



المصدر: Images économiques du monde 2019

مستند ٤: نسبة السكان دون خط الفقر في بعض الدول.

١. صتّف الدول بين شمال وجنوب وحدّد نسبة السكّان دون خط الفقر في كلّ منها.
٢. حدّد سببين أدّيا إلى تفاقم ظاهرة الفقر في عالم الجنوب.



المصدر: البنك الدولي ٢٠١٧

مستند ٥: نسبة العاملين في القطاعات الاقتصادية في بعض دول عالم الجنوب (% من إجمالي العاملين)

١. حدد طبيعة المستند.
٢. استنتج واقع القطاع الصناعي في معظم دول عالم الجنوب.
٣. أوضح سبب ارتفاع نسبة العاملين في القطاع الزراعي في معظم دول عالم الجنوب.

٣- انخفاض المستوى الصحي: وارتفاع معدل وفيات الأطفال، وتدني العمر المتوقع عند الولادة بسبب الفقر ونقص الغذاء والعجز عن إنفاق الأموال لمكافحة الأمراض (مستند ٤ و ٨).

٤- التفاوت الطبقي الحاد: حيث توجد فئات تمارس مهناً متواضعة وترتكز على دخل غير مستقر، وفئات غنيّة جداً تملك السلطة وتدير الشركات الكبرى في البلاد، وتهيمن على الاقتصاد والسياسة.

٥- تباين العمران المدني: ينعكس التفاوت الطبقي على المظهر المدني حيث تتجاوز ناطحات السحاب والأحياء السكنية الفخمة مع أحزمة البؤس التي تعيش فيها الطبقات الفقيرة أو العاطلة عن العمل وخاصة النازحين الريفيين منهم (مستند ٩).

٦- ارتفاع معدّل البطالة: بسبب ارتفاع النموّ الطبيعي للسكّان، لذلك تدخل أعداد كبيرة كلّ سنة إلى ميدان العمل بمعدّل يفوق قدرة الاقتصاد على استيعابها (مستند ٨). وهذا الأمر يدفع نحو هجرة اليد العاملة وخاصة هجرة الأدمغة (المتعلّمين والعلماء).

ج - الخصائص الديموغرافية: تعرف دول عالم الجنوب تزايداً سكانيّاً متسارعاً ويعود ذلك إلى:

١- ارتفاع معدّل المواليد: يرتفع معدّل المواليد بسبب ارتفاع معدّل الأمية عند المرأة، والزواج المبكر، وهذا يرفع معدّل الخصوبة عندها، وبسبب اعتبار الأولاد قوّة منتجة في العائلة وخاصة في العمل الزراعي.

٢- انخفاض معدّل الوفيات: بسبب تأمين بعض التجهيزات الطبية وزيادة الوعي عند السكّان بأهميّة الوقاية والعناية الصحية.

٣- ارتفاع معدّل النموّ الطبيعي للسكّان: بسبب بقاء معدّل المواليد مرتفعاً وانخفاض معدّل الوفيات (مستند ٦). وما ينتج عن ذلك:

- ارتفاع نسبة الفتيان المستهلكين وارتفاع نسبة الإعالة ونسبة الأمية.

- ازدياد حدة الفقر (مستند ٤) وضعف الإنفاق على الحاجات الأساسية وازدياد عمل الأطفال.

- ارتفاع معدّل البطالة ممّا يضعف حركتَي الإنتاج والإستهلاك.

- تزايد معدّل الإنفاق الحكومي على الخدمات الاجتماعية، تعليم، طبابة... فيتدنى الإنفاق على المشاريع الإنتاجية.

د- الخصائص السياسية: تعاني معظم دول الجنوب من اضطرابات أمنية وحروب مستمرة للأسباب التالية:

- ١- انتشار الفساد وتدني الخدمات الاجتماعية: فتبقى المجتمعات في حالة الفقر، ويرتفع فيها معدّلا الأمية والبطالة؛ فيزداد الفساد (مستند ١١) وتقوم المظاهرات المطالبة بتحسين المعيشة.

الدولة	قيمة دليل مؤشر التنمية	نسبة النمو الطبيعي للسكان %	نسبة الدين للناج المحلي %
مالي	٠.٤٤٢	٣.٢٣	٣٥.٨٩
إندونيسيا	٠.٦٨٩	١.١٨	٢٨.٣٤
باكستان	٠.٥٥٠	٢.٠٩	٦٧.٥٧
الباراغوي	٠.٦٩٣	١.٥٢	٢٤.٨٨
الهند	٠.٦٢٤	١.١٧	٦٨.٨٩
النيجر	٠.٣٥٣	٣.٨٤	٤٥.١٢
سلفادور	٠.٦٨٠	١.١٨	٥٩.٢٩

المصدر: L'année stratégique 2019

مستند ٦: مؤشرات اجتماعية واقتصادية وديموغرافية لبعض دول عالم الجنوب.

١. حدّد سبباً من المستند يوضح تراجع مؤشر دليل التنمية البشرية في دول عالم الجنوب.

٢. أعط سبباً لارتفاع المديونية في دول عالم الجنوب.

المنطقة	نفقات التسلّح (مليار دولار أمريكي)		
	سنة ٢٠١٧	سنة ٢٠١٠	سنة ٢٠٠٠
أميركا الجنوبية	٥٧	٤٩.٥	٣٢.١
جنوب آسيا	٨٠.٧	٦٠.٢	٣٥.٩
أفريقيا	٣٦	٣٤.٧	١٩
آسيا الوسطى	١.٦	١.٢	٠.٣

المصدر: Images économiques du monde 2019

مستند ٧: تطوّر نفقات التسلّح في بعض مناطق عالم الجنوب.

١. أوضح أنّ نفقات التسلّح تزداد سنويّاً في عالم الجنوب.
٢. استنتج سبباً لزيادة التسلّح.
٣. بيّن انعكاس هذا التسلّح على الأوضاع الاجتماعية لدول عالم الجنوب.

٢- الإختلاف العرقي والديني والثقافي في مجتمعات دول عالم الجنوب: بعضها يحافظ على الطابع القبلي. هذا التباين يغدّي الاضطرابات والحروب ويمنع الاستقرار.

٣- سوء استخدام الحكّام للسلطة: وعقد الصفقات وبالتالي تضخّم المديونية بالإضافة إلى غياب الديمقراطية السليمة. فتثور الطبقات الاجتماعية على حكّامها مطالبة بالعدالة والحرية.

ثانياً - التنمية في دول عالم الجنوب: عوائق مزمنة

تواجه السياسات التنموية في دول عالم الجنوب عوائق كثيرة، يرجع بعضها إلى الأوضاع الداخلية والبعض الآخر للقوى الخارجية.

أ- العوائق الداخلية: وهي كثيرة وأهمّها:

١- تفوّق النموّ السكاني الطبيعي على النموّ الاقتصادي: مما يمنع حصول فائض مالي لاستثماره في المشاريع الإنتاجية، فيعاني السكّان من نقص في الغذاء نتيجة قلة الإنتاج الزراعي والحيواني.

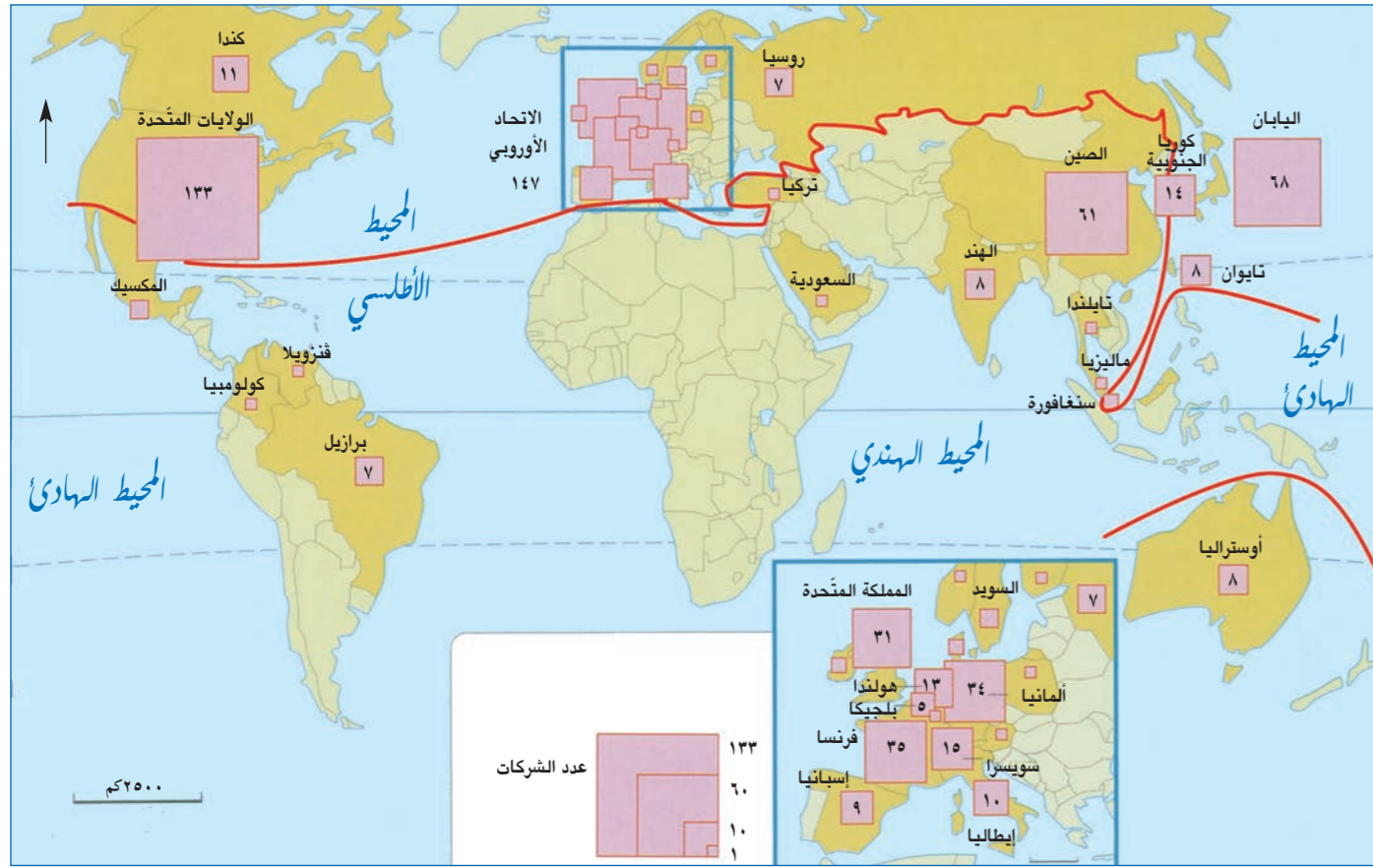
٢- النقص في التخطيط وقلة الأموال المتوفّرة: لم تضع معظم دول عالم الجنوب خططاً تنموية ولم ترصد المال الكافي لتحقيق فائض في الاقتصاد مقابل النموّ السكاني الطبيعي المرتفع، كما تحوّلت من الزراعات الغذائية نحو الزراعات التصديرية. لذلك عجز الاقتصاد عن تحقيق الأمن الغذائي والاجتماعي للسكّان، فلجأت الدول إلى الإستدانة لتأمين الحاجات، فازداد التضخّم المالي وحجم المديونية وخدمة الدين العام (مستند ٦).

٣- الفروقات والاضطرابات الاجتماعية: تعرف بعض دول عالم الجنوب صراعات عنيفة بين الأقلية من الأغنياء المتحكّمين بالسلطة والاقتصاد، والأكثرية من الفقراء الذين يناضلون لتحقيق العدالة الاجتماعية.

٤- الصراعات السياسية والسباق نحو التسلّح: تؤدّي التناقضات الدينية والعنصرية والقبلية في مجتمعات دول عالم الجنوب إلى اضطرابات أمنية وحروب داخلية أو مع الدول المجاورة، لذلك تخصّص الدول مبالغ للتسلّح بدلاً من تنفيذ الخطط التنموية وتحسين المعيشة (مستند ٧).

٥- هروب الأموال: إضافة إلى نقص التمويل، يعتمد أغنياء دول عالم الجنوب إلى توظيف أموالهم في المجال التجاري السريع المردود أو في دول عالم الشمال هرباً من الاضطرابات والأزمات السياسية، وهذا يشكّل عقبة في الاستثمارات المحليّة وفي دخول الاستثمارات الأجنبية إلى البلاد.

٦- النقص في الإمكانيات البشرية: المتمثلة بندرة اليد العاملة التقنية القادرة على استخدام التكنولوجيا الحديثة وتطوير الاقتصاد وهجرة الأدمغة.



المصدر: L'Atlas du monde diplomatique.

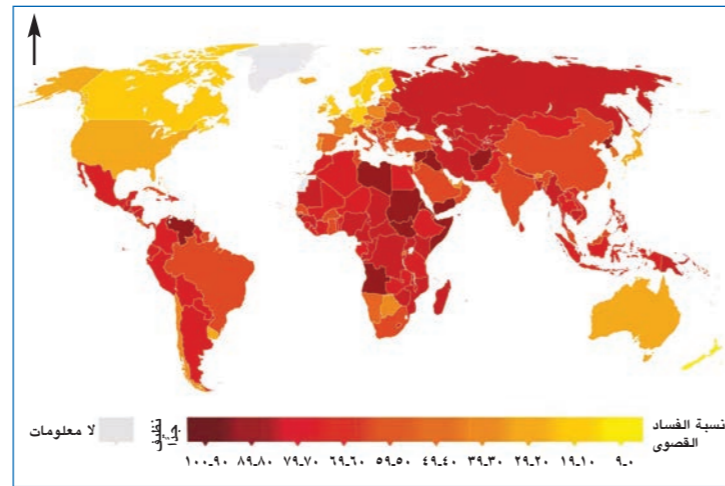
مستند ١٠: توزع الشركات المتعددة الجنسيات الـ ٥٠٠ الأولى في العالم.

١. رتب بالتدرج التنازلي الدول الخمس الأكبر امتلاكاً للشركات المتعددة الجنسيات، وصنفهما بين شمال وجنوب.
٢. أذكر إلى أي عالم ينتمي معظم الشركات العالمية.
٣. سمّ أول ثلاث دول من عالم الجنوب تملك مثل هذه الشركات واذكر إيجابيات وجودها فيه.

أ- الصين والهند عملاقا دول عالم الجنوب: يملكان إمكانات كبيرة متمثلة باليد العاملة الوفيرة والمتدنية الأجر، وبالسوق الاستهلاكية الكبيرة وبضخامة الموارد التي تحتويها أراضيها، وباستيعاب شعوبها للتكنولوجيا وجذبها للإستثمارات. حققت هاتان الدولتان نموًا اقتصاديًا تجاوز ١٠٪ أحيانًا ودخلتا في منافسة مع الأقطاب الاقتصادية رغم الانخفاض في مؤشر التنمية البشرية.

ب- دول صناعية حديثة: تشمل الدول التي شهد قطاعها الصناعي نموًا مهمًا ومتسارعًا (البرازيل - تركيا). حققت هذه الدول مستوى معيشي أفضل لشعوبها بالرغم من ضخامة المديونية التي تعاني منها.

- ج- دول غنية في طور النهوض: تشمل الدول النفطية وخاصة العربية.
- د- الدول الفقيرة: يقع معظمها في أفريقيا، تعاني من تزايد سكاني وعجز اقتصادي.



مستند ١١: تصنيف الدول بحسب نسبة الفساد فيها.

١. عدد أربع دول ترتفع فيها نسبة الفساد.
٢. عدد أربع دول تقل فيها نسبة الفساد.
٣. أوضح دور الفساد في إعاقة عملية تقدّم عالم الجنوب.

ب- العوائق الخارجية: يضاف إلى العوامل المذكورة عوائق خارجية تنتج عن تحكّم دول عالم الشمال ومنها:

١- السياسة الاستعمارية: عملت دول عالم الشمال على التحكّم باقتصاد الدول التي استعمرتها قديمًا لخدمة مصالحها، فوجهتها نحو القطاعات الزراعية والاستخراجية والخدمات وأعاقت قيام صناعات فيها؛ فعجزت دول عالم الجنوب عن الإنتاج وتحقيق التنمية بعد استقلالها.

٢- اعتماد العولمة: ممّا أدى إلى تنامي الفقر في دول الجنوب وذلك نتيجة تحرير التجارة وشروطها المجحفة بحق دول الجنوب، وتسهيل انتقال الرساميل من دول الجنوب الغنية نحو عالم الشمال بدل الاستثمار محليًا، وتفاقم مشكلة المديونية وانعكاسها السلبي على التنمية، وانتشار الشركات المتعددة الجنسيات من عالم الشمال داخل دول الجنوب ومنافسة غير متكافئة مع الشركات المحلية.

٣- تحكّم دول عالم الشمال بالشركات المتعددة الجنسيات: حيث المراكز الرئيسية لمعظمها وقد أقامت فروعًا لها في دول عالم الجنوب، وهي توجه اقتصاد هذه الدول لخدمة مصالحها. لذلك انخفضت نسبة الصادرات من المواد الأولية ومصادر الطاقة لاستخدام الشركات لها محليًا وارتفعت نسبة المواد المصنّعة المصدّرة (مستند ١٠).

٤- إمتلاك دول عالم الشمال لوسائل النقل والتجارة وللبورصات العالمية: التي تتحكم بأسعار المواد المنتجة في دول عالم الجنوب لتماشى مع مصلحة اقتصادها.

٥- وضع القيود الصارمة على السلع المنتجة في دول عالم الجنوب: من قبل دول عالم الشمال بهدف الحد من تدفق هذه السلع نحو أسواقها. لذلك يبقى الميزان التجاري رايحًا لصالح دول عالم الشمال.

ثالثًا - عالم الجنوب مجالات متباينة

رغم الخصائص العامة المشتركة بين دول عالم الجنوب، فإنّ التباين في النموّ يظهر واضحًا من خلال التفاوت في معدل النمو الطبيعي، وأمد الحياة، ومعدّل المواليد والوفيات، وكافة الخصائص الاقتصادية والاجتماعية. لذلك يمكن تمييز أربعة مجالات فيه وهي:

الدولة	نسبة الأمية %	معدّل وفيات الأطفال %	العمر المتوقع عند الولادة (سنة)	معدّل البطالة (سنة)
الصين	٣,٦٢	٨٠	٧٦,٣	٤,٦٥
بنغلادش	٢٧,٢٤	٢,٨	٧٢,٥٩	٤,٣٥
مالي	٣٣,٠٧	٦,٨	٥٧,٩٦	٧,٨
كولومبيا	٥,٧٥	١,٣	٧٤,٤٢	٨,٣٥
الجزائر	٤,٥	٢,١٦	٧٦,١	١٠,٢
باراغوي	٤,٩٣	١,٧	٧٣,١٩	٥,٢٥
سويسرا	-	٠,٣	٨٢,٩٥	٤,٩٢

المصدر: L'année stratégique 2019.

مستند ٨: مؤشرات اجتماعية وديموغرافية لبعض دول العالم.

١. أذكر اسم الدولة التي تنتمي إلى دول عالم الشمال.
٢. قارن بين معدّل الأمية، بين هذه الدولة وباقي دول عالم الجنوب. ماذا تستنتج؟
٣. حدّد سببًا لارتفاع معدّل وفيات الأطفال في دول عالم الجنوب.
٤. أذكر سببًا لانخفاض العمر المتوقع عند الولادة في دول عالم الجنوب.
٥. أوضح سبب ارتفاع البطالة في دول عالم الجنوب.



مستند ٩: الأحياء الفقيرة والغنية في بانكوك.

١. أذكر فرقًا واحدًا بين القسم الأول والقسم الثاني من الصورة.
٢. أذكر نتيجة لهذه الفروقات.

تحليل مستندات: الأسئلة

أولاً: حدّد طبيعة كل من المستندين رقم (٢) ورقم (٣) وموضوع كل منهما.

ثانياً: من خلال المستندين رقم (١) ورقم (٣)، اختر الإجابة الصحيحة.

١- ثلاث دول من ثلاث قارات مختلفة تعتبر دولاً فقيرة: أ- بوليفيا - أثيوبيا - ناميبيا. ب- أوروغواي - السودان - منغوليا. ج- إكوادور - كازاخستان - فيتنام.	٢- ثلاث دول تطلّ على المحيط الأطلسي تعتبر دولاً صناعية حديثة: أ- المغرب - تركيا - البرازيل. ب- إندونيسيا - الأرجنتين - فنزويلا. ج- البرازيل - المغرب - الأرجنتين.
٣- ثلاث دول من ثلاث قارات مختلفة تعتبر دولاً غنيّة: أ- نيوزيلاندا - المملكة المتّحدة - كندا. ب- أستراليا - نيوزيلاندا - الولايات المتّحدة. ج- رومانيا - أستراليا - كندا.	٤- ثلاث دول يعتبر معدّل النمو الطبيعي فيها سلبياً: أ- كندا - الصين - أستراليا. ب- نيجيريا - بروندي - الهند. ج- اليابان - روسيا - ألمانيا.

ثالثاً: اعتماداً على المستندات الثلاثة، أربط كل من أرقام المصطلحات الواردة في العمود الأول، بما يناسبها من أحرف العبارات الواردة في العمود الثاني.

١- ألمانيا	أ- تعتبر فقيرة وتحتلّ المركز الأعلى من حيث النمو الطبيعي للسكان.
٢- أفريقيا	ب- يتفوّق نموّها الاقتصادي على نموّها الطبيعي.
٣- بروندي	ج- تحتوي على ٤٠٪ من احتياطي الذهب.
	د- يعتبر نموّها الاقتصادي الأعلى في عالم الجنوب.

رابعاً: من خلال المستندين رقم (١) ورقم (٣)، أشطب الدخيل:

- الدول المصدرة للبتروال: ليبيا - مصر - السعودية - اليمن - عمان - قطر .
- يتفوّق نموّها الاقتصادي على نموّها السكاني: نيجيريا - كندا - السنغال - الصين - الهند.
- دول صناعية حديثة: تشيلي - اتحاد جنوب أفريقيا - أوروغواي - كولومبيا - تونس.

خامساً: من خلال المستند رقم (٢)، حدّد:

- السبب الذي جعل أفريقيا تشبه المتسول الجالس على منجم الذهب.
- السبب الذي يمنع سكان أفريقيا من الاستفادة من ثرواتها الطبيعية.
- عاملين يزيدان من معدّل الوفيات في القارة الأفريقية.

سادساً: من خلال المستند رقم (٣)، استنتج:

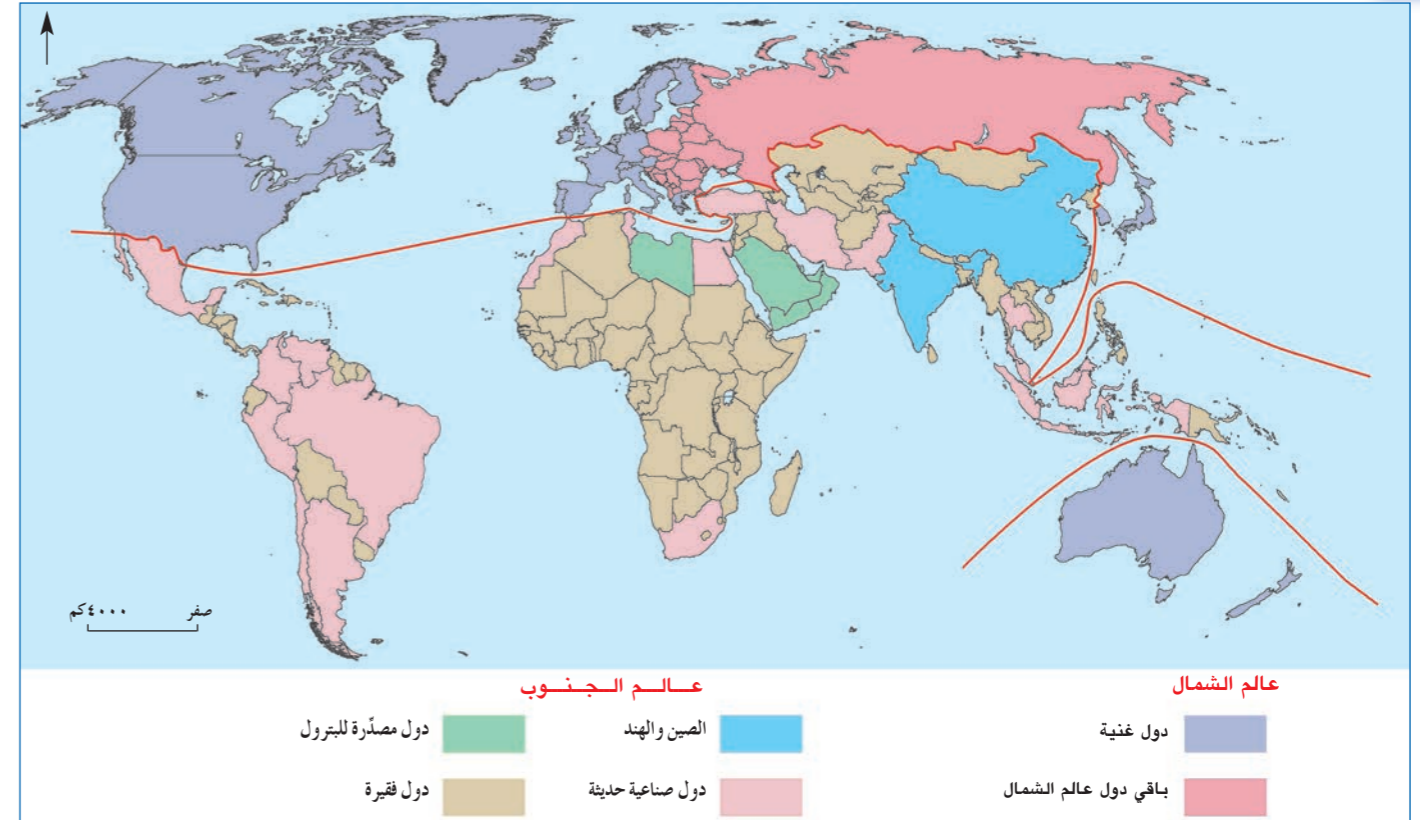
- خاصية اقتصادية وأخرى ديموغرافية لدولة بنغلادش.
- مدى تجانس دول عالم الجنوب من حيث النمو الطبيعي والنمو الاقتصادي.

سابعاً: يشير المستند رقم (١) إلى تناقض بين دول عالم الجنوب، أوضح ثلاثة عوائق اقتصادية وديموغرافية تحول دون تقدّم الدول الفقيرة فيه.

ثامناً: تعاني دول عالم الجنوب من صعوبات متنوّعة ويصعب على العديد منها الانخراط في المجال العالمي الجديد.

إنطلاقاً من المستندين رقم (٢) ورقم (٣) والمصطلحات التالية: «النمو الاقتصادي - الفروقات الاجتماعية - العولمة - القيود»، ومن معلوماتك المكتسبة، عالج المسألة أعلاه موضحاً:

- ثلاثة عوائق داخلية تواجه السياسات التنموية في عالم الجنوب.
- عائقين خارجيين يواجهان السياسات التنموية في عالم الجنوب.
- خطوة على دول عالم الجنوب القيام بها لتخطّي أحد العوائق.



المصدر: L'Atlas du monde diplomatique

مستند ١

الدولة	النمو الطبيعي للسكان (%)	النمو الاقتصادي (%)
ألمانيا	-٠,٢٤٤	١,٧٤٣
نيجيريا	٢,٦٦١	٢,٦٥
كندا	٠,٣٣٤	١,٠٠١
السنغال	٣,٠١٤	٦,٤٥٧
روسيا	-٠,٠٤٩	٢,٨٢-
بروندي	٣,١٦٣	٣,٩٢١-
أستراليا	٠,٦٤	٢,٣٥١
بنغلادش	١,٣٩٨	٦,٥٥٣
اليابان	-٠,٢١	١,٣٥٤
الهند	١,١٩٧	٨,١٥٤
الصين	٠,٥٠١	٦,٩
العالم	١,١٨٦	٣,١٥٢

المصدر: World global Atlas 2018

مستند ٣

نحن اليوم أمام إشكالية تشبه المتسول الجالس على منجم من الذهب، فوفقاً لدراسة في يونيو ٢٠١٠، يعتقد خبراء من معهد ماكينزي العالمي (MGI) أنّ أفريقيا أهمّ مخزون للثروات الطبيعية في العالم: ١٠٪ من احتياطات النفط العالمية، و ٤٠٪ من احتياطي الذهب العالمي، ٨٠٪ من الكروم و ٩٠٪ من مجموع معدن البلاتين، ومن المجموع ٣٠٪ من الموارد المعدنية في العالم موجودة في أفريقيا، ولا يتمّ استغلال الغالبية العظمى لهذه الموارد، إذا ما قلنا أنّه يتمّ استغلالها بشكل سيّء، وفي أحسن الأحوال فإنّ الفوائد الاقتصادية لشعوب أفريقيا من هذه الموارد تبقى هامشية. هذه الثروات لا تستفيد منها الشعوب الأفريقية، وذلك لسبب بسيط وهو أنّ الهيكلة الاقتصادية للدول الأفريقية تبقى غير متوازنة، وبعبارة أخرى، فإنّ ثلثي البلدان الأفريقية هي من البلدان الأقلّ نموّاً في العالم، وتستمر قائمة هذه الدول في التزايد منذ سنة ١٩٧١، تاريخ إنشاء قائمة هذه الدول من قبل الأمم المتّحدة، وما يقرب من نصف سكان أفريقيا يعيشون على أقلّ من ١,٢٥ دولار يوميّاً و ٤٧,٣٪ من الشباب الأفريقي (١٥ - ٢٤ سنة) الذين يعيشون جنوب الصحراء هم عاطلون عن العمل، وما يزال الجوع يقتل في القارة أكثر من الإيدز والسلّ. ومن الواضح أنّ النخب الفكرية والسياسية الأفريقية تبقى هي المسؤولة عن إنتاج الفقر وإبقاء الشعوب الأفريقية في ظروف العبودية التي لا يمكن تصوّرها.

المصدر: Noonspot - 2015

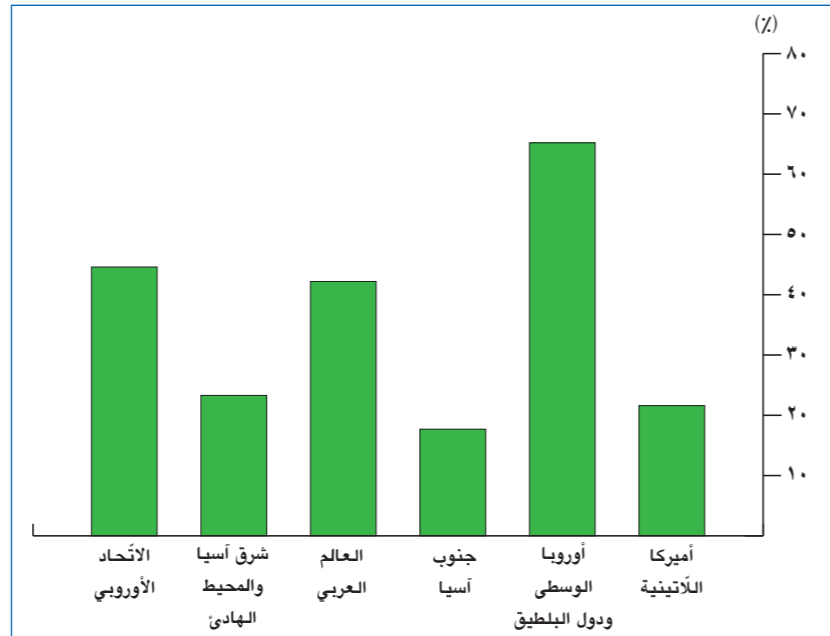
مستند ٢

العلاقة بين الشمال والجنوب: تفاعل ثقافي وهيمنة اقتصادية

الأهداف: أصبح قادرًا على أن:

- أبتين مظاهر هيمنة عالم الشمال وتبعية عالم الجنوب.
- أحلل عناصر العلاقة بين الشمال والجنوب.

الجنوب والشمال عالمان مختلفان ومتناقضان. يملك الأول الموارد الطبيعية المتنوعة ويملك الثاني العلم والتكنولوجيا والموارد البشرية القادرة على استثمار الموارد الطبيعية؛ لذا تربط بين العالمين علاقات اقتصادية غير متكافئة ترتبط بحاجات متبادلة. فما هي مظاهر هذه العلاقة؟ ما هي عناصرها وضرورتها وما أهمية دور الإنسان في عملية التنمية؟



المصدر: البنك الدولي ٢٠١٧

مستند ٢: نسب قيمة صادرات السلع (% من إجمالي الناتج المحلي) ٢٠١٧.

١. قارن مجموع قيمة صادرات الاتحاد الأوروبي بمجموع قيمة صادرات جنوب آسيا، ماذا تستنتج؟
٢. أوضح سبب ارتفاع قيمة صادرات العالم العربي.
٣. أوضح سبب ارتفاع قيمة الصادرات في الاتحاد الأوروبي وانخفاضه نسبيًا في أمريكا اللاتينية.



مستند ٣:

١. حدّد طبيعة المستند وموضوعه.
٢. استنتج خصائص كلّ من العالمين، واذكر نوع العلاقة بينهما.

أولاً - مظاهر العلاقة بين الشمال والجنوب: هيمنة بارزة وتبعية واضحة

تسود ضمن المجال العالمي علاقات متبادلة بين عالمين متناقضين وغير متكافئين، بين شمال متطور وجنوب نام، ولقد نتج عن هذا التعامل مظاهر اقتصادية واجتماعية تؤكد هيمنة طرف على طرف آخر، وتبعية دول دولاً أخرى. هذه المظاهر هي:

أ- الهيمنة التجارية أو الاقتصادية

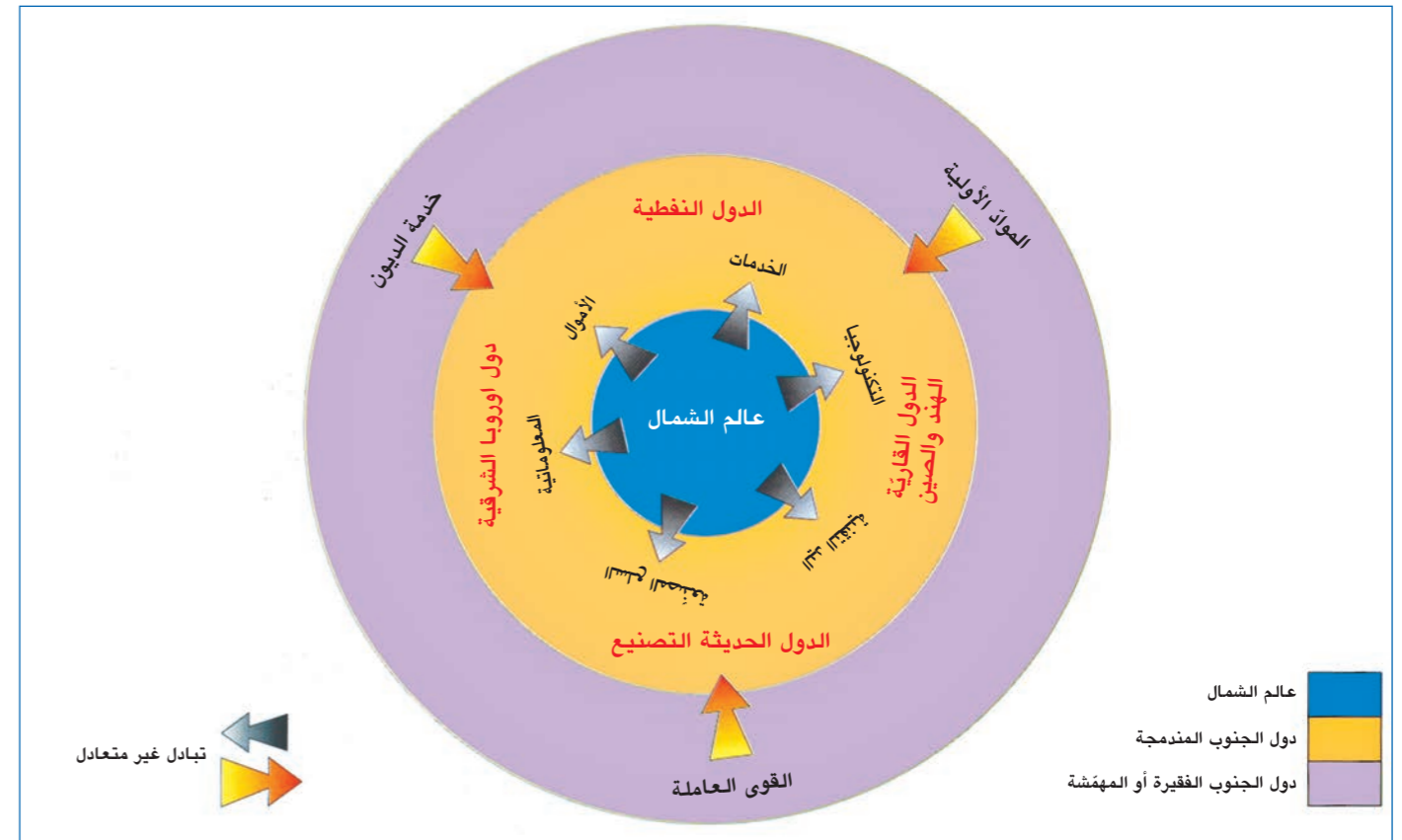
استثمرت دول عالم الشمال الموارد الطبيعية المتوفرة في عالم الجنوب بهدف تزويد مصانعها بالمواد الأولية. وعملت على منع قيام مؤسسات صناعية في عالم الجنوب رغبة في بقاءه سوقاً لمنتجاتها الصناعية. وهكذا ظهرت هيمنة عالم الشمال الاقتصادية (مستند رقم ٢) في المجال العالمي وتبعية عالم الجنوب له من خلال:

- ١- استمرار عالم الجنوب في تصدير المواد الأولية التي تشكّل معظم صادراته نحو عالم الشمال.
- ٢- تدني أسعار المواد الأولية بالمقارنة مع أسعار السلع المصنعة في دول عالم الشمال، نتيجة تشابه الإنتاج في دول عالم الجنوب، وتحكّم دول عالم الشمال بتحديد أسعار المواد الأولية.
- ٣- احتكار عالم الشمال التكنولوجيا ذات التقنية العالية وحجبها عن دول الجنوب.
- ٤- استئثار دول عالم الشمال بمعظم وسائل النقل، وتحكّمها بغالبية المبادلات التجارية.
- ٥- المديونية والشروط القاسية من قبل المؤسسات الدائنة.

ب- الهيمنة الاستثمارية أو المالية

تملك دول عالم الشمال المصارف العالمية، وتتمركز فيها البورصات الكبرى والشركات العالمية الاستثمارية التي لعبت دورًا كبيرًا في تعزيز هيمنة عالم الشمال من خلال: توفير رؤوس الأموال لمراكز الأبحاث والتطوير ممّا زاد الإنتاج وحسّن نوعيته، كذلك من أجل التسويق وتمويل الشركات المتعددة الجنسيات في عالم الشمال ممّا يزيد من هيمنتها الاقتصادية والسياسية. كما أنّ البورصات تتحكّم بأسعار العديد من السلع، كلّ هذا جعلها تفرض هيمنتها على دول عالم الجنوب التي:

- ١- تفتقر إلى الرساميل المالية الضرورية للتنمية البشرية والاقتصادية.
- ٢- لجأت إلى الاستدانة فوَّقت في فتح المديونية وبالتالي التبعية المالية لعالم الشمال.



مستند ١: العلاقات بين عالم الشمال وعالم الجنوب.

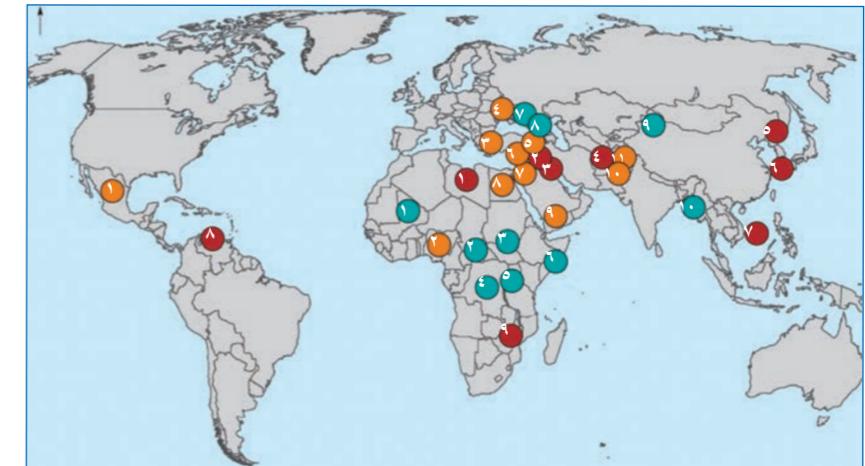
١. حدّد العالم حيث تؤخذ القرارات الاقتصادية والعلمية والسياسية، وعدّد المجالات الأساسية التي يتحكم بها.
٢. عدّد مجموعات الدول التي تشكّل دول الجنوب المندمجة في علاقات مع عالم الشمال.
٣. أذكر العناصر التي تتوفر في دول عالم الجنوب المهمّشة، والتي يمكن ضخّها في المجال العالمي.
٤. أوضح العناصر التي توفرها دول عالم الجنوب المندمجة في المجال العالمي.
٥. أوضح كيف تؤثر الدول النفطية في اقتصاديات دول عالم الشمال.
٦. سمّ بعض الدول المهيمنة على المجال العالمي وبعض الدول التابعة.

أزمة تظهر في التعلّم
التعليم هو واحد من أكبر الاستثمارات التي يمكن أن يقوم بها مجتمع ما في أطفاله - وفي رأس ماله البشري. ولكن هناك أزمة في التعلّم. ويخلص تقرير عن التنمية في العام ٢٠١٨ إلى وجود تباين واسع في جودة التعليم وقدره داخل البلدان وفي ما بينها. وفي أشد البلدان فقرًا، فإن أقل من واحد من كل خمسة أطفال في المدارس الابتدائية يتقنون الرياضيات والقراءة. وينمو مئات الملايين من الأطفال حول العالم حتّى دون اكتساب أبسط المهارات الحياتية. وعلى سبيل المثال، فإنّ نحو ١٢ في المائة من البالغين المولودين في الثمانينات في بعض الاقتصادات المنخفضة الدخل أو الهشة في أفريقيا جنوب الصحراء لديهم تعليم أكثر من آبائهم مقارنة بأكثر من ٨٠ في المائة من الجيل نفسه في أجزاء من شرق آسيا.

المصدر: تقرير البنك الدولي ٢٠١٨

مستند ٤: أزمة التعلّم في الدول الفقيرة.

١. حدّد المشكلة التي تعاني منها البلدان نفسها وفي ما بينها.
٢. حدّد نسبة الأطفال في البلدان الأشد فقرًا الذين يتقنون الرياضيات والقراءة.
٣. حدّد نسبة الأطفال في أفريقيا الذين ينمون دون اكتساب أبسط المهارات الحياتية.



نزاعات محدودة	نزاعات حرجة	نزاعات مهمة
١- عدم استقرار أمني في مالي.	١- الحرب الأهلية في ليبيا.	١- جرائم عنيفة في مكسيكو.
٢- عنف في جنوب أفريقيا الوسطى.	٢- الحرب الأهلية في سوريا.	٢- بوكو حرام في نيجيريا.
٣- حرب أهلية في جنوب السودان.	٣- الحرب ضد الدولة الإسلامية في العراق.	٣- أزمة مهاجرين في الاتحاد الأوروبي.
٤- عنف في جنوب الكونغو الديمقراطية.	٤- طالبان في أفغانستان.	٤- نزاعات في أوكرانيا.
٥- أزمة سياسية في بوروندي.	٥- أزمة كوريا الشمالية.	٥- نزاع كردستان.
٦- الشباب في الصومال.	٦- اضطرابات في شرق بحر الصين.	٦- نزاعات حزبية في لبنان.
٧- تطرف إسلامي في روسيا.	٧- أراضي متنازع عليها في جنوب بحر الصين.	٧- صراع إسرائيلي فلسطيني.
٨- صراع ناغورنو - كاراباخ.	٨- أزمة مالية في فنزويلا.	٨- تشدّد إسلامي في مصر.
٩- صراع في الصين (UIGHUR).	٩- انقلاب عسكري في زيمبابوي.	٩- حرب في اليمن.
١٠- صراع حزبي في ميانمار.	١٠- تشدّد إسلامي في باكستان.	١٠- تشدّد إسلامي في باكستان.
	١١- صراع بين الهند وباكستان.	

المصدر: express.co.uk2017

مستند ٥: خريطة النزاعات حول العالم.

١. عدّد النزاعات الموجودة في دول عالم الشمال.
٢. أذكر ثلاثة نزاعات حرجة في قارة آسيا.
٣. أذكر نزاعين مهمين في الشرق الأوسط.
٤. أوضح أنّ النزاعات العسكرية تتمحور في دول عالم الجنوب.
٥. أوضح أثر هذه النزاعات في تقدم دول عالم الجنوب.

٣- عمدت إلى استخدام عملات دول عالم الشمال (دولار أميركي، يورو) لتغطية إصدار عملاتها وتحديد أسعار صادراتها.

ج- الهيمنة التكنولوجية

خصصت دول عالم الشمال الأموال الطائلة لخدمة الأبحاث العلمية وتطوير أسس استخدام التكنولوجيا المتطورة بهدف مضاعفة القدرة الإنتاجية، وبالمقابل حَجَبَت هذه الإمكانيات عن دول عالم الجنوب ليبقى اقتصادها في خدمة مصالحها.

د- الهيمنة الثقافية (مستند ٤)

تملك دول عالم الشمال مجمل وسائل الإعلام والتجهيزات المعلوماتية، ومعظم مصادر البث الإذاعي والتلفزيوني والإنتاج السينمائي والفكري التي تنشر أفكارها في العالم.

وهكذا تبنّت دول عالم الجنوب ثقافة دول عالم الشمال حيث التطور العلمي والتكنولوجي والثورة المعلوماتية.

هـ- الهيمنة السياسية (مستند ٥)

تتكوّن دول عالم الجنوب من مجتمعات متباينة من حيث انتماءاتها العرقية أو العرقية أو القومية أو الحضارية. وهذا التباين سمح بظهور نزاعات سياسية وصدّامات عسكرية في ما بينها. بالتالي سمح لدول عالم الشمال بالتدخل تحت عدّة ذرائع وبفرض هيمنتها، هذه الهيمنة ظهرت من خلال:

١- ارتباط معظم أنظمة الحكم والحكّام في دول عالم الجنوب بالتوجّهات السياسية للدول الأقطاب.

٢- تهميش دور دول عالم الجنوب في المحافل الدولية.

٣- لجوء دول عالم الجنوب لطلب المساندة من الدول الأقطاب لفرض نزاعاتها الداخلية والخارجية أو لفرض سيطرة الطبقة الحاكمة.

و- الهيمنة العسكرية

تملك دول عالم الشمال قوى وآليات عسكرية متطورة في البرّ والبحر والجوّ تستخدمها في التدخل الميداني في العديد من مناطق الجنوب أو التهديد باستخدامها.

رغم مظاهر الهيمنة كلّها تقوم بين عالمي الشمال والجنوب علاقات تبادل تحكمها الحاجات المتبادلة.

الفازة أو المنطقة	النسبة من سكاني العالم %		
	١٩٩٠	٢٠١٥	٢٠٤٠
أفريقيا	١١،٥٦	١٥،٧	٢١،٣
آسيا	٥٨،٨	٥٧،٧	٥٤،١
الشرق الأوسط	٢،٧	٣،٣	٣،٧
أوروبا	١٣،٢	٩،٨	٧،٧
أميركا اللاتينية	٨،١	٨،٣	٨،١
أميركا الشمالية	٥،١	٤،٧	٤،٥
أوقيانيا	٠،٥	٠،٥	٠،٦

المصدر: Images économique du monde 2016

مستند ٦: تطوّر نسبة سكاني العالم بين سنتي ١٩٩٠ - ٢٠٤٠.

١. أذكر اسم القارّات أو المناطق التي تحقّق زيادة في عدد سكانها.
٢. أذكر اسم القارّات أو المناطق التي ستعرف تراجعًا أو استقرارًا في عدد سكانها.
٣. أذكر اسم قارّتين أو منطقتين ذات ثقل ديموغرافي (سكاني).
٤. بين أنّ دول عالم الجنوب ستشكّل أسواقًا أكثر اتساعًا من دول عالم الشمال في المستقبل.

الدولة	معدّل النموّ الطبيعي للسكاني %
الأرجنتين	١٠
الهند	١٢
ألمانيا	٢
اليابان	-١
شاطئ العاج	١٨،٤

المصدر: Images économique du monde 2019

مستند ٧: معدّل النموّ الطبيعي للسكاني في بعض دول العالم.

١. سمّ الدول التي تعرف معدّل نموّ طبيعي للسكاني يفوق ١٠٪، وحدّد العالم الذي تنتمي إليه.
٢. سمّ الدول التي تعرف معدّل نموّ طبيعي للسكاني أقلّ من ١٠٪، وحدّد العالم الذي تنتمي إليه.
٣. أوضح من خلال المستند حاجة عالم الشمال إلى عالم الجنوب، أو بالعكس.

ثانيًا - عناصر العلاقة بين الشمال والجنوب: حاجات متبادلة (المستندان ١ و٣)

تقوم بين عالمي الشمال والجنوب علاقات غير متكافئة، تحكمها الحاجات المتبادلة بينهما بهدف تحقيق التنمية البشرية والتكامل الاقتصادي العالمي.

أ- حاجة الشمال إلى الجنوب: تظهر في المجالات التالية:

١- المواد الأولية: نظرًا لحيويّة النشاط الصناعي في دول عالم الشمال، يبقى إنتاج الموادّ الأولية وخاصة المعدنية فيها أقلّ من حاجة المصانع لها؛ نتيجة هذا الواقع تتّجه دول الشمال لاستيرادها خامًا من دول عالم الجنوب.

٢- نفط دول الجنوب: يتوقّر إنتاج النفط واحتياطاته في دول عالم الجنوب، ويعتبر المصدر الأساسي لإنتاج الطاقة. لذلك تسعى دول عالم الشمال إلى تأمين إمداد مصانعها بهذه المادة وبوسائل متنوّعة (اتفاقيات، ضغوط، حروب...).

٣- أسواق دول عالم الجنوب (مستند ٦): نظرًا لفائض إنتاج السلع في مصانع دول عالم الشمال، وخاصة السلع التقنية منها، تجهد هذه الدول بمختلف الوسائل للسيطرة على أسواق دول عالم الجنوب الكثيرة السكاني لتصريف إنتاجها.

٤- اليد العاملة المتوفرة في دول عالم الجنوب: وخاصة التقنية منها بسبب تدنّي معدّل المواليد في دول عالم الشمال (مستند ٧)، لذلك تسعى هذه الدول إلى جذب العمال من عالم الجنوب نظرًا لتدني أجورهم ممّا يؤدي إلى خفض كلفة الإنتاج وزيادة التصدير، ويسمح لها بتحقيق المزيد من الأرباح وتعزيز قدرتها التنافسية.

ب- حاجة الجنوب إلى الشمال: تظهر من خلال:

١- إيجاد فرص عمل لأبنائه: يرتفع معدّل النمو الطبيعي للسكان في دول عالم الجنوب (مستند ٧)، وتعجز اقتصاديات هذه الدول عن استيعاب اليد العاملة المتدفقة سنويًا في سوق العمل، فيرتفع معدّل البطالة فيها. لذلك يسعى الشباب للهجرة ولتأمين عمل في دول عالم الشمال حيث تتوفّر فرص العمل والأجور المرتفعة والضمانات الاجتماعية.

ولكي تخفّف دول عالم الشمال المصاعب الناتجة عن هجرة اليد العاملة إلى أراضيها، تضع الشروط المشدّدة لقبولها، وتسعى من ناحية ثانية إلى نقل مصانعها إلى دول عالم الجنوب ممّا يسبّب زيادة البطالة في دول الشمال.

٤- الرغبة في الحصول على استثمارات من عالم الشمال (مستند ٨): تسعى دول عالم الجنوب لجذب استثمارات دول عالم الشمال لأنها:
- تشكل المحرك الأساسي للتنمية الاقتصادية.
- تخلق فرص العمل للأيدي العاملة الشابة وتخفف من معدّل البطالة في البلاد.
- تُدخل التقنيات المتطورة إلى البلاد وتنشط القطاعات الإنتاجية.
تترجم هذه الاستثمارات بتمركز الشركات المتعددة الجنسيات في دول عالم الجنوب التي تتخذ إجراءات متعددة لاستقطاب هذه الشركات منها:

- إصدار التشريعات والحوافز لجذب الشركات: إعفاءات ضريبية، حريّة نقل الأموال...
- تخفيف القيود البيئية من خلال التساهل في تطبيق القوانين.
- تنفيذ مشاريع البنى التحتية المسهّلة لعمل الشركات: طرق، كهرباء، اتصالات...
- تخفيف الضمانات الاجتماعية للعمّال والحدّ من فعالية النقابات العمالية.
- إطلاق البرامج التعليمية التي تؤدي إلى إعداد يد عاملة قادرة على اكتساب التقنية واستخدامها.

٥- الاستدانة من دول الشمال (مستند ١٠): تفتقر دول عالم الجنوب إلى الأموال فتعتمد على الاستدانة من دول عالم الشمال للأسباب التالية:
- تحقيق المشاريع الإنمائية.
- تأمين مستلزمات الخدمات الاجتماعية لشعبها مع تزايد عدد السكّان: تعليم، طبابة.
- سدّ العجز في ميزان المدفوعات.
- ضعف موارد الخزينة.
- معالجة أزمة مالية طارئة.
- تسديد دين مستحقّ.

لكن دول عالم الجنوب تُعتبر مسؤولة عن ازدياد حجم ديونها، للأسباب التالية:
- التزايد السريع للنمو الطبيعي للسكّان.
- ضعف التخطيط وغياب ضبط النفقات الاستهلاكية.
- انتشار الفساد بين الحكام الذين يعمدون إلى نهب المال العام أو هدره.
- إشتداد النزاعات بين مجتمعاتها ممّا يحتم شراء الأسلحة بغية توطيد الأمن ومن الدول المانحة ذاتها (مستند ٥).

- استثمار الأموال في مشاريع غير منتجة، فتلجأ الحكومات إلى الاستدانة من جديد. لذا على هذه الحكومات توفير القروض في مشاريع منتجة تستطيع أرباحها تسديد القروض وتمويل مشاريع اقتصادية أخرى لكي تحقّق التنمية المنشودة.

الدولة	النمو السكاني %	نصيب الفرد من الناتج المحلي (دولار أميركي)	قيمة الديون بالنسبة للناتج المحلي %
بنغلادش	١,٣٦	١٤٤٦	٣٢,١
أوغندا	٣,٣٤	٦٠٠	٣٧,٢٤
المغرب	١,٤٨	٢٩٣٧	٦٤,٦٩
فنزويلا	١,٣٤	٧٤٧٩,٥	٣١,٣
باكستان	٢,٠٩	١٤٤٣,٦٢	٦٧,٥٧

المصدر: L'année stratégique 2019

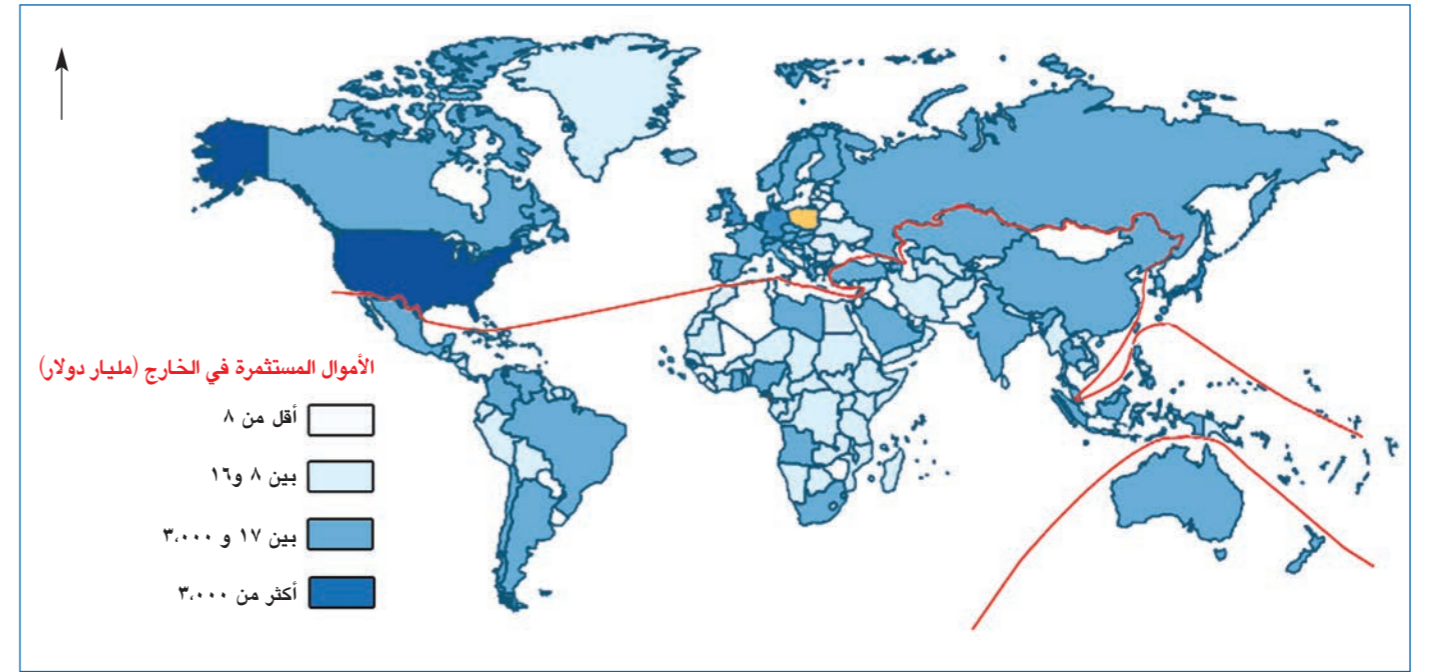
مستند ١٠: مؤشّرات اقتصادية وديموغرافية لبعض دول عالم الجنوب.

١. أذكر اسم الدولة التي تعرف نموًا سكانيًا مرتفعًا.
٢. حدّد أسباب ضعف نصيب الفرد من الناتج المحلي في هذه الدولة.
٣. أوضّح الأسباب التي تدفع دول عالم الجنوب إلى الاستدانة.
٤. بيّن أنّ الديون لا تسمح لهذه الدول بوجود فائض مادي لاستثماره.

قال الرئيس الروسي، فلاديمير بوتين، اليوم الأحد، أننا يجب أن نعمل بجهد لكي لا يتحول التنافس بين الدول إلى أعمال عدائية وحروب.
وقال بوتين، وفي كلمة أثناء الاحتفال بالمهرجان العالمي التاسع عشر للشباب والطلاب بسوتشي، «أننا ننفق مواردنا على التنافس، وهذا الوضع لا يؤدي دائمًا إلى نتيجة إيجابية للجميع، سواء للفائزين أو للخاسرين.
وتابع الرئيس الروسي «على أي حال من الضروري أن نسعى جاهدين للحيلولة دون أن يتطوّر إلى أعمال عدائية وحروب. ويجب أن نبذل قصارى جهدها لكي نعزّز المسار الآخر، وهو مسار التعاون في البحث عن حلّ للتحديات والمشاكل المشتركة، وإذا كنّا قادرين على بناء علاقات بهذه الطريقة، فإنّ الجميع سيستفيد منها بالتأكيد».

مستند ١١:

١. أذكر اسم العالم الذي تنتمي إليه دولة روسيا.
٢. بيّن أنّ التنافس لا يصل إلى الحروب بين دول عالم الشمال.
٣. سمّ العالم الذي تحصل فيه مجمل الصدمات العسكرية.



المصدر: indexmundi2017

مستند ٨: الاستثمارات المباشرة في الخارج (مليار دولار).

١. حدّد أربع دول فيها جذب كبير للاستثمارات.
٢. بيّن أيّ من العالمين يجذب الاستثمارات بشكل أكبر، أوضّح السبب.
٣. أذكر اسم القارة الأقل جذبًا للاستثمارات الخارجية، أوضّح السبب.


٢- السعي لامتلاك تقنية عالم الشمال: تسعى دول عالم الجنوب لإدخال التقنية التي تنتجها دول عالم الشمال، إلى قطاعاتها الإنتاجية بهدف تطوير اقتصادها وتحقيق التنمية لشعبها. بالمقابل ترفض دول عالم الشمال تزويد دول عالم الجنوب بالتقنية المتطورة للأسباب التالية:

- منع دول الجنوب من إنتاج سلع منافسة لسلعها في الأسواق العالمية، لكي تبقى بحاجة لخبرات عالم الشمال ومساعداته.
- ضمان استمرار هيمنة عالم الشمال على الاقتصاد العالمي.

أمّا في حال انتقال التكنولوجيا، فإنّ دول عالم الشمال تضع التقنيات المتطورة تحت مراقبة وإشراف الفتيين لديها.

٣- الرغبة في الحصول على مساعدات غير مشروطة من عالم الشمال: تتعدد مصاعب دول عالم الجنوب وتنوّع معها أشكال المساعدات التي تطلبها من دول عالم الشمال ومنها:

- مساعدات مالية: هبات، قروض بدون فوائد، قروض طويلة الأجل بفوائد رمزية... غايتها تمويل المشاريع الإنمائية وتخفيف عبء الديون.
- مساعدات غذائية وأدوية... تهدف إلى محاربة المجاعة والفقر والحدّ من انتشار الأمراض في البلاد (مستند ٩).
- مساعدات تقنية وعلمية ترمي إلى اكتساب المعرفة والتقنية وتنمية القطاعات الإنتاجية.
- مساعدات عسكرية تهدف إلى تعزيز قدراتها العسكرية، وفرض الأمن في البلاد وحماية حدودها (أسلحة، تدريب).



مستند ٩: مساعدات الفاو في الساحل الأفريقي.

١. حدّد نوع المساعدات التي تظهرها الصورة والقائمين بها.
٢. حدّد الدول القادرة على تقديم المساعدات.
٣. حدّد صفة الدول المتلقية للمساعدات.
٤. أذكر أنواع المساعدات الأخرى التي تقدمها الدول.

تحليل مستندات: الأسئلة

أولاً: حدّد طبيعة كلّ من المستنديين رقم (١) ورقم (٣)، وموضوع كل منهما.

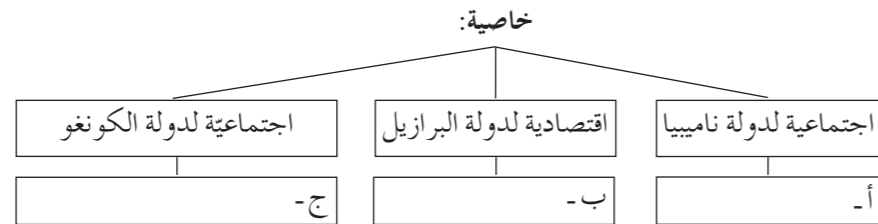
ثانياً: من خلال المستنديين رقم (١) ورقم (٣)، اختر الإجابة الصحيحة.

١- دولتان تطلّان على المحيط الهندي يتراوح فيهما معدّل البطالة عند الشباب بين ٨ و ١٥٪: أ- ٨-١٥٪ ب- ١٥-٤١٪ ج- صفر-٧٪	٢- يتراوح معدّل بطالة الشباب في الصين وأنغولا بين: أ- ٨-١٥٪ ب- ١٥-٤١٪ ج- صفر-٧٪
٣- القارة الأكثر تجانساً من حيث معدّل البطالة عند الشباب: أ- آسيا. ب- أوقيانيا. ج- أميركا اللاتينية.	٤- تستقرّ قيمة الدين الخارجي عند حدّها الأدنى منذ سنة ٢٠٠٠ في: أ- بنغلادش. ب- الأرجنتين. ج- جمهورية أفريقيا الوسطى.

ثالثاً: من خلال المستندات الثلاثة، أجب بـ «صح» (□) أو «خطأ» (□)، ثمّ صحّح الخطأ في الجمل التالية:

- ١- تشهد قارة أفريقيا ارتفاعاً في معدّل البطالة عند الشباب.
- ٢- إنّ حلول التنمية تحصل في أفريقيا بالطرق الديمقراطية.
- ٣- الاتجاه العام لتطور قيمة الدين في البرازيل هو تنازلي.
- ٤- وصلت قيمة الدين الخارجي في الأرجنتين سنة ٢٠١٨ إلى أقل من ١٢٠ مليار دولار.

رابعاً: من خلال المستنديين رقم (١) ورقم (٢)، إملاً الفراغ في الرسم التالي:



خامساً: من خلال المستند رقم (٢)، حدّد:

- مشكلتين تُعتبر الدول النامية مسؤولة عن تفاقمهما.
- حلاً يختاره حكّام الدول النامية.
- نتائج الحلّ الذي اتّخذه الحكّام.

سادساً: يشير المستند رقم (٢) إلى تأخير التنمية في دول عالم الجنوب، أوضّح:

- مظهرين لهيمنة الشمال السياسيّة والعسكرية على الجنوب.
- إجراءين تتخذهما دول عالم الجنوب لجذب الشركات الاستثمارية إلى أراضيها.

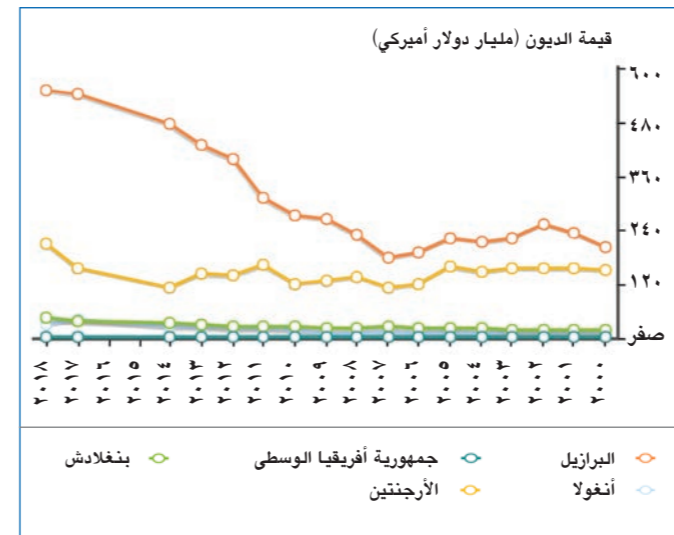
سابعاً: تظهر بين عالمي الشمال والجنوب علاقة غير متكافئة، بحيث تقوم على حاجة الجنوب إلى الشمال وهيمنة الأخير على كافة المجالات الاقتصادية والسياسية والثقافية في عالم الجنوب. إنطلاقاً من المستنديين رقم (١) ورقم (٣)، والمصطلحات التالية: «المواد الأولية- الأسواق التجارية- التقنيات- العجز المالي»، ومن معلوماتك المكتسبة، عالج المسألة أعلاه موضحاً:

- حاجتين للشمال يطلبهما من عالم الجنوب.
- حاجتين للجنوب يطلبهما من عالم الشمال.
- عاملين يجعلان عالم الجنوب يفتقر إلى الأموال فيعتمد على الاستدانة.



المصدر: www.indexmundi.com

مستند ١



المصدر: www.indexmundi.com

مستند ٣

مسيرة التنمية والحروب

ما يحدث اليوم من مشاكل لانتقال السلطة في الكونغو وزيمبابوي وغامبيا وغيرها... مقلق ويؤخّر عملية التنمية في القارة الأفريقية. هناك عدوى تحصل وتنتقل من دولة إلى أخرى ولسنا بعيدين عنها عربياً. الفساد يزدهر في الدول الناشئة والنامية. غياب الديمقراطية يؤدي إلى حروب، إذ عوض أن ينتصر فريق على آخر في صناديق الاقتراع، يلجأون إلى الشارع المدمر للفوز على حساب الشعب والاقتصاد والحياة نفسها. بعض الحكّام في الدول النامية لا يتحمّلون وجود معارضة بل يرغبون في القضاء عليها. الحكم في نظرهم استمرارية على حساب الشعب عبر من يختاره الحاكم بطريقة أو بأخرى. الحل يكون دائماً بانفجار الأوضاع كما رأينا مع الربيع العربي وفي معظم الدول الأفريقية وبعض المناطق الأخرى. ما زال الخيار الديمقراطي في العديد من الدول النامية الخيار الثاني وليس الأول.

المصدر: لويس حبيقة، مجلة الشروق ٢٤/١٠/٢٠١٨

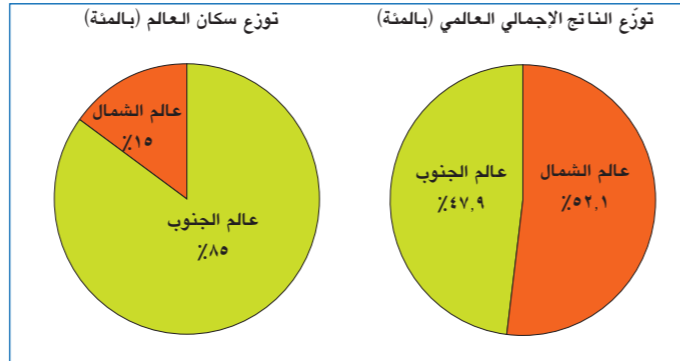
مستند ٢

الحوار بين الشمال والجنوب: محاولة للتقارب

يسعى عالم الجنوب للخروج من مشكلاته الكثيرة والمتنوعة بمساعدة عالم الشمال، ويتمسك عالم الشمال بنجاحاته وبامتلاكه مميزات التفوق العلمي والمالي في العالم. فهل يؤدي الحوار بين العالمين إلى التقارب والتعاون وإلى تخفيف الفروقات بينهما، أم يصل إلى الفشل؟

الأهداف: أصبح قادرًا على أن:

- أحدّد دوافع الحوار بين الشمال والجنوب.
- أبتّن أهداف الحوار.
- أوضح وجهات نظر كل من العالمين حول القضايا المطروحة للحوار.
- أستنتج أسباب فشل الحوار ومستقبله.



مستند ٢: التباين بين عالم الشمال وعالم الجنوب.

١. حدّد نسبة السكّان في عالم الشمال وحصّتهم من الناتج الإجمالي العالمي.
٢. حدّد نسبة السكّان في عالم الجنوب وحصّتهم من الناتج الإجمالي العالمي.
٣. أوضح مقدار التباين الحاصل بين العالمين ونتائجه.
٤. بيّن أهمية الحوار في معالجة نتائج هذا التباين.



مستند ٣: الهجرة غير الشرعية.

١. فسّر المقصود بالهجرة غير الشرعية، واستنتج مصادرها.
٢. حدّد أسباب هذه الهجرة ونتائجها في عالم الشمال.

الدولة	قيمة الديون الخارجية (مليار دولار)	الناتج المحلي (مليار دولار)
السنگال	٦,٧٥	١٦,٣
موريتانيا	٤,١٢	٥,٠٢
الأردن	٢٧,٧٢	٤٠
باناما	٨٦,٥٥	٦١,٨
باكستان	٧٥,٦٦	٣٠,٤,٩

المصدر: البنك الدولي ٢٠١٧

مستند ٤:

١. حدّد موضوع المستند ومصدره.
٢. احسب نسبة ديون كلّ دولة إلى الناتج المحلي فيها.
٣. استنتج أثر الديون في العلاقة بين هذه الدول والدول الغنية الدائنة.

أولاً - دوافع الحوار بين الشمال والجنوب: مخاطر بيئية وإنسانية
لم تمنع التناقضات بين عالمي الشمال والجنوب من إقامة الحوار بينهما ووضع أطر من التعاون بهدف كسر حدة التباين بينهما. أهم الأسباب التي دفعت جميع الأطراف لعقد مؤتمرات الحوار هي: **أ- تفاقم خطورة القضايا العالمية،** منها: الاحتباس الحراري، التلوث، الأمطار الحمضية، الإرهاب. إن مجابهة هذه القضايا وحلّها يتطلب تضافر جميع الجهود الدولية.

ب- اتساع الفجوة بين دول عالم الشمال الغنية ودول عالم الجنوب الفقيرة (مستند ٢): إن استمرار حدة التباين يدفع بالفقراء إلى اتّخاذ مواقف العداء والكراهية تجاه المسؤولين وتهديد السلام العالمي.

ج- تعاضم نفوذ الجمعيّات المتعاطفة مع الفقراء والمظلومين: إذ يوجد العديد منها في العالم وخاصة في دول عالم الشمال.

د- ازدياد الهجرة غير الشرعية من الدول الفقيرة (مستند ٣): وخاصة من أفريقيا باتجاه الدول الغنية وما ينتج عنها من مشكلات عديدة في هذه الدول، من منافسة ليد العاملة الوطنية وبالتالي زيادة البطالة، وزيادة الأعباء المالية على دول الشمال التي تقدّم الخدمات للمهاجرين، والتخوّف من التأثيرات الاجتماعية على النسيج الاجتماعي في دول الشمال وما ينتج عنها من مشكلات.

ثانياً - أهداف الحوار: تخفيف التناقضات

تسعى مؤتمرات الحوار إلى:

- أ- تخفيف التباين القائم بين دول عالم الشمال ودول عالم الجنوب بغية إرساء السلم العالمي على أسس متينة.**
- ب- تقريب وجهات النظر بين الأطراف المتحاورّة لإيجاد حلول مقبولة حول المواضيع الخلافية.**

ثالثاً - القضايا المطروحة بين العالمين: وجهات متباينة

تعدد القضايا المطروحة على طاولة الحوار، وكل عالم ينظر إليها من وجهة مصالحه الاقتصادية. من هذه المسائل أو القضايا نذكر:

أ- المديونية (المستند ٤): وهي الأموال المتوجّب دفعها من قبل دول الجنوب لدول الشمال، وتختلف نظرة كل من عالم الشمال وعالم الجنوب إلى مسألة المديونية:

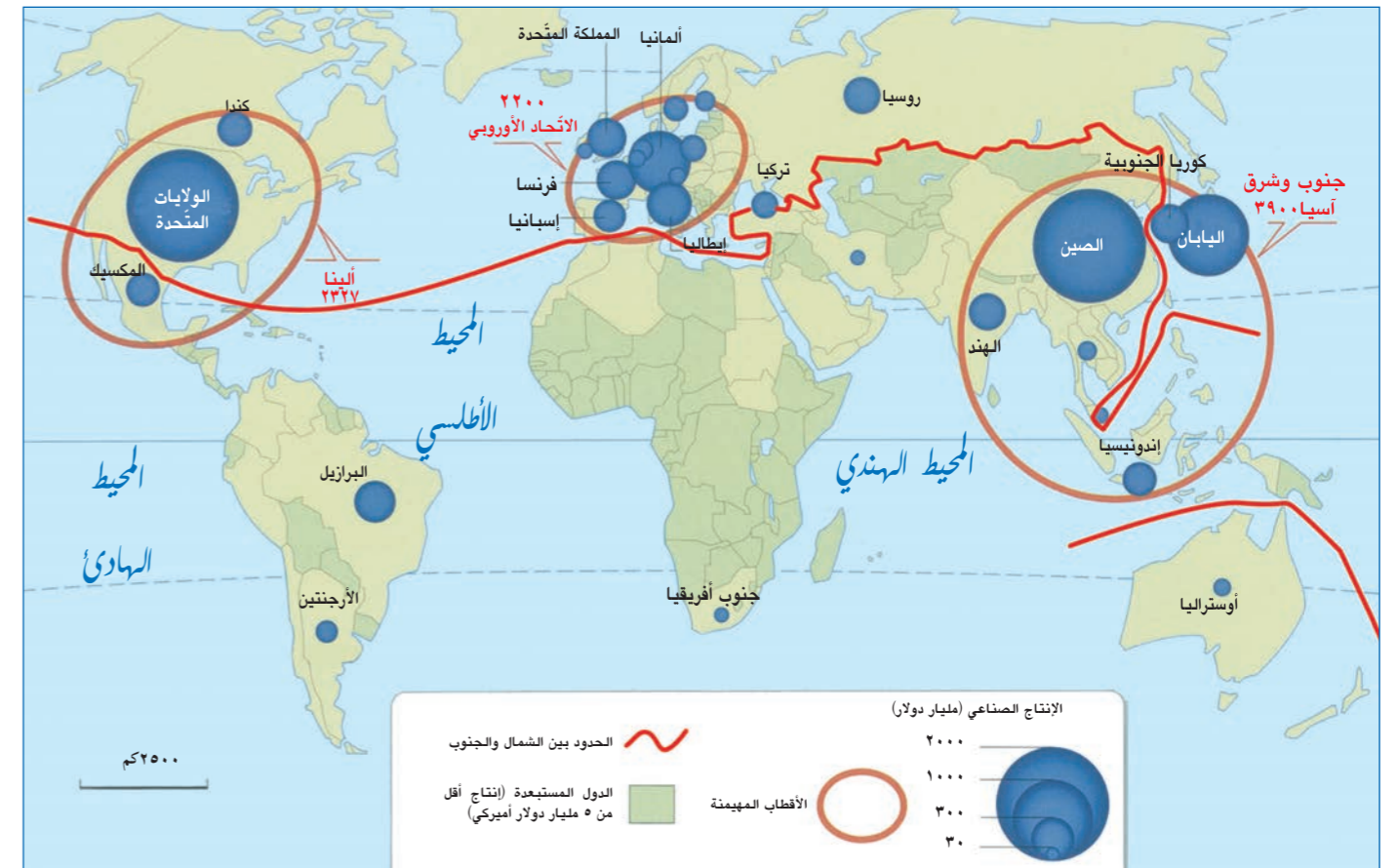
١- وجهة نظر عالم الشمال: يعتبر عالم الشمال المديونية سبيلاً لتحقيق الأرباح وفرض هيمنته على دول عالم الجنوب عن طريق:

- طلب فوائد عالية، وتحقيق أرباح مضمونة لأمواله الفائضة من دون تكاليف تذكر.

- وضع الشروط على الدول النامية المدينة (المستقبلية للديون) لفتح أسواقها التجارية دون قيود أمام تدفق سلع دول عالم الشمال.
- إجبار دول عالم الجنوب على تسهيل تمرکز الشركات المتعددة الجنسيات التي تستثمر موارد البلاد لصالح دول عالم الشمال.

- خضوع الدول المدينة لتوجّهات دول عالم الشمال السياسية.

٢- وجهة نظر دول عالم الجنوب: تعتبر دول عالم الجنوب بأن دول عالم الشمال نهبت خيراتها وأحدثت الصراعات في مجتمعاتها، وتتهرب



مستند ١: توزع الإنتاج الصناعي.

١. أذكر أسماء الأقطاب الصناعية في العالم تنازلياً حسب قيمة إنتاجها الصناعي.
٢. حدّد اسم القارة الأقل إنتاجاً للسلع الصناعية.
٣. قارن بين قيمة الإنتاج الصناعي في الصين والولايات المتحدة واستنتج.
٤. رتّب كلّ من أستراليا وألمانيا والمكسيك بحسب قيمة الإنتاج.
٥. أذكر اسمي دولتين من عالم الشمال يفوق إنتاجها الصناعي قيمة ٣٠٠ مليار دولار أمريكي.
٦. بيّن الفرق في الإنتاج الصناعي بين عالم الجنوب وعالم الشمال.
٧. استنتج أثر هذه الفروقات في العلاقة بين عالمي الشمال والجنوب.

النوع	الدولة	الإنتاج (مليون طن)	الإحتياط (مليون طن)	النسبة من الإنتاج العالمي %	المرتبة العالمية بالإنتاج
القمح	الصين	١٢٩	-	٢٧	١
الأرز	الصين	١٤٥	-	٣٢	١
الذرة	الولايات المتحدة	٣٨٥	-	٣٦	١
النحاس	تشيلي	٥,٣	١٧٠,٠٠٠	٢٧	١
الذهب	الصين	٤,٤ (طن)	٢٠٠٠ (طن)	١٤	١
النيكل	إندونيسيا	٤	٤٥	١٩	١
الحديد	الصين	٨٣١,٧	-	١٣	١
البترو	الولايات المتحدة	٣٨٥	٥٠٠,٠٠٠ (مليون برميل)	١٣	١

المصدر: Images économique du monde 2019

مستند ٧: مؤشرات اقتصادية لإنتاج بعض المواد الأولية واحتياطاتها في العالم.

١. صتّف الدول إلى عالم شمال وعالم جنوب.
٢. حدّد العالم الذي يتحكّم بإنتاج بعض المواد الأولية واحتياطها.
٣. أذكر العالم الذي يستورد هذه المواد ويحدّد أسعارها.
٤. أذكر العالم الذي يستورد المواد المصنّعة بأسعار مرتفعة.
٥. حدّد العالم الذي يهيمن على الاقتصاد العالمي.

- تزويد البلاد بالتقنية اللازمة لتصبح قادرة على الإنتاج ودخول الأسواق العالمية والتحرّر من الهيمنة الاقتصادية. وهكذا تباعد أهداف دول عالم الجنوب عن تطلّعات دول عالم الشمال.

ج- المواد الأولية والطاقة (مستند ٧)

ما زالت أسعار المواد الأولية والطاقة مدار بحث بين الشمال والجنوب، لذا يهدف عالم الشمال إلى:

- ١- الحصول على المواد الأولية ومصادر الطاقة بأسعار متدنية.
- ٢- استمرارية تزويد مصانع دول الشمال بهذه الموارد بدون عوائق.
- ٣- بقاء دول عالم الجنوب محتاجة لعالم الشمال (حجب التقنيات).
- ٤- ضمان الأرباح الكبيرة بالعمل على استمرار تفوّق أسعار السلع المنتجة في عالم الشمال على أسعار المواد الأولية والطاقة.

أما دول عالم الجنوب فتعمل على أن:

- ١- تكون أسعار المواد الأولية والطاقة متناسبة مع أسعار السلع المصنّعة.
- ٢- تحصل على التقنية لاستثمار مواردها وتأمين احتياجاتها.
- ٣- يوضع نظام اقتصادي يضمن سيطرة دول الجنوب على موارده.

د- النمو السكاني وهجرة اليد العاملة

تشكّل هذه المسألة خلافات حادة بين العالمين. إذ إن دول الشمال ترحب بهجرة الأدمغة من الجنوب إليها وتستفيد من قدراتها في التطوير التكنولوجي والاقتصادي دون أية كلفة في إعدادها، وتمنع بالمقابل هجرة الآخرين وتضع السياسات للحدّ منها من خلال: تشديد الرقابة على الحدود والمعابر نحو بلدانها - التشدّد في منح تأشيرات الدخول إليه (فيزا) - اعتماد الانتقائية في قبول المهاجرين (جرّف معينة، معايير علمية...) - تحديد كوتا (Quota)* سنوية وبخصائص معينة (مستند ٨).



مستند ٨: الهجرة التقنيّة إلى أستراليا.

١. سمّ العالم الذي يستقطب اليد العاملة التقنيّة.
٢. سمّ العالم الذي يهاجر أبناؤه إلى الخارج.
٣. أوضح فائدة كل من العالمين من هذه الحركة السكانية.

كوتا (Quota): أي عدد محدد أو نسبة معينة من المهاجرين.

تبيض الأموال (أو غسل الأموال): هي إضافة الصفة الشرعية على عمليات كسب الأموال التي يتمّ الحصول عليها من أعمال غير مشروعة (مخدرات، تهريب سلاح وجواهر، جرائم إرهاب، تهريب الآثار، الرشوة).

من إمدادها بالتقنيات اللازمة لإطلاق عملية التنمية، لذلك تطلب:

- إعفاءها من الفوائد أو تخفيضها وإعادة جدولة ديونها.

- إعفاءها من الديون أو إلغاء قسم منها.

- منح دول عالم الجنوب هبات تساعد على تنشيط العملية التنموية.

لذلك تبقى وجهات النظر متباعدة بين العالمين، وما زالت الديون تشكّل نسبة مهمة من الناتج المحلي (مستند ٤) وترهق حكومات دول عالم الجنوب.

بالمقابل تقوم بعض الدول الدائنة بإعفاء الدول المدينة من ديونها لأسباب منها: معرفتها باستحالة استردادها نتيجة فقر الدولة، رغبتها في الحصول على مكاسب اقتصادية أخرى (استثمارات، تقييب، تجارة)، أو تحقيق مكاسب إعلامية وسياسية في الدول الفقيرة وبالتالي استمرار الهيمنة.

ب- استثمارات الشركات المتعددة الجنسيات (مستند ٥)

تختلف الفوائد المرجوة من تمركز الشركات المتعددة الجنسيات بين عالمي الشمال والجنوب:

١- وجهة نظر عالم الشمال: تسعى دول عالم الشمال للأهداف التالية:

- جعل أراضي دول عالم الجنوب ميداناً ربحياً لتمركز شركاتها.
- دخول سلع شركاتها أسواق دول عالم الجنوب دون شروط تذكر، وتحرير المبادلات التجارية وحرية نقل الأموال.
- إلغاء التدابير القائمة على فرض الضرائب على الشركات، وعدم وضع الشروط البيئية الملزمة لها.

من أجل ذلك تقوم بإجراءات لتسهيل عمل هذه الشركات في الخارج منها:

- الضغط السياسي على الحكومات والعمل لتغيير الأنظمة المعارضة لسياساتها ودعم الأنظمة الموالية لها.
- تقديم الإغراءات للحكومات في عالم الجنوب من خلال المساعدات المالية والفنية...
- استخدام الديون المقدمّة لتحقيق تبعية اقتصادية لتسهيل عمل الشركات.
- العمل على تعميم النظام الرأسمالي وتطبيق العولمة.

٢- وجهة نظر عالم الجنوب: تحقّق دول عالم الجنوب الشروط اللازمة لاستقطاب الشركات المتعددة الجنسيات أو فروعها نظراً للإيجابيات الناتجة عن ذلك وأهمها:

- إدخال العملات الصعبة إلى أراضيها، زيادة مداخيلها عن طريق فرض الضرائب وزيادة واردات خزينة الدولة، محاربة البطالة بتشغيل اليد العاملة المحلية وبالتالي رفع مستوى المعيشة نسبياً (وأثرها الإيجابي في الصحة والتعليم)، وإدخال التقنية إلى البلاد، وتطوير القطاعات الاقتصادية وخاصة الصناعية وتصريف مؤكّد للمنتجات مما يحسّن الاقتصاد ويرفع مؤشّر التنمية البشرية.

لذا تقوم دول الجنوب باعتماد السياسات المؤدّية لجذب الشركات، ومنها: إقامة البنى التحتية المطلوبة، تخفيف أو إلغاء الضرائب على أرباح الشركات، وضع التشريعات المساعدة على عملها (حرية إدخال الأموال والمواد والعمال...)، واعتماد الخصخصة التي تتيح للشركات فرصة تملك مؤسسات القطاع العام، والتساهل في تطبيق الشركات للمعايير البيئية. بالمقابل تطلب دول الجنوب:

- توجّه المستثمرين نحو قطاعات تخدم تنمية البلاد بدلاً من توجيه الاستثمارات لخدمة مصالح الشركات.
- توظيف قسم من الأرباح في تنمية القطاعات الإنتاجية بدل تحويلها بكاملها نحو دول عالم الشمال.

الدولة	عدد الشركات
الولايات المتحدة	٢٠
بريطانيا	١٤
فرنسا	١٢
ألمانيا	١١
اليابان	١١
سويسرا	٥
إيرلندا	٤
دول أخرى من عال الشمال	٢٣
دول عالم الجنوب	٨
الصين	٤

المصدر: Images économique du monde 2019

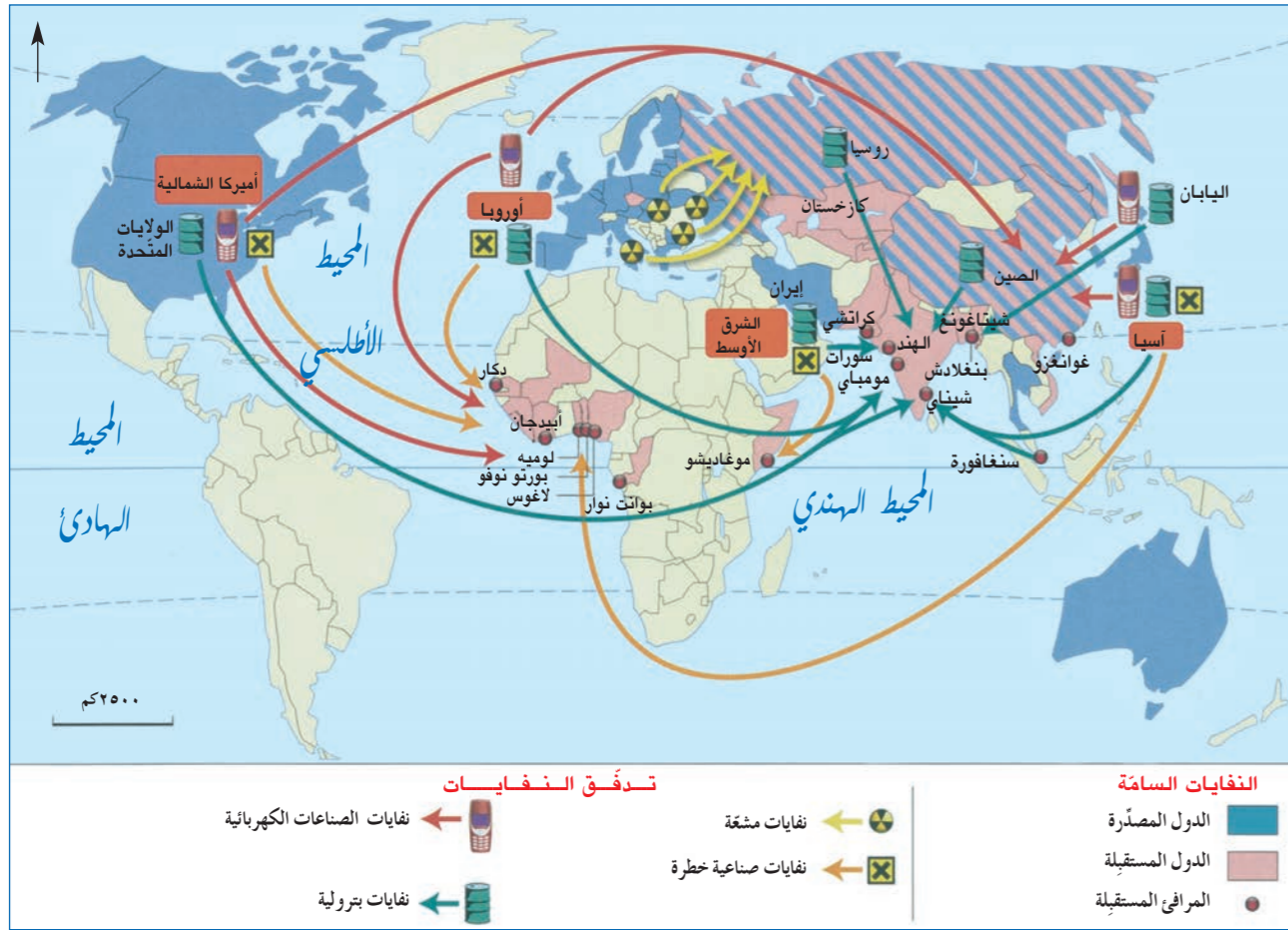
مستند ٥: توزّع الشركات الأهمّ في العالم بحسب بلد المنشأ.

١. إحسب عدد الشركات العالمية في البلدان الثلاثة الأولى.
٢. أذكر عدد الشركات المنتمية إلى عالم الجنوب.
٣. أذكر اسم العالم المتمسك بقرار الشركات المتعددة الجنسيات.
٤. أوضح أهداف دول عالم الجنوب من تمركز الشركات العالمية في أراضيها.



مستند ٦: فرع شركة كيا (KIA) في لبنان - الحازمية.

١. بيّن أن كيا هي شركة متعدّدة الجنسيات.



مستند ١١: تدفق النفط في العالم.

٢- تطالب دول عالم الجنوب من دول عالم الشمال القيام بالتالي:

- إزالة الضغط عنها واحترام بيئتها.
- إبعاد ملوثات دول عالم الشمال عن أراضيها.
- تقديم القروض والمساعدات الفنية لتحقيق السلامة البيئية.

رابعاً - مستقبل مؤتمرات الحوار

أثبتت مؤتمرات الحوار بين العالمين فشلها للأسباب التالية:

- الخلاقات كبيرة بينهما لأن التضارب في المصالح موجود في مجالات عديدة (الديون وجدولتها، الحصول على التكنولوجيا المتطورة، تقديم مساعدات مالية وغذائية...).
- رغبة عالم الشمال في الاحتفاظ بمواقفه لتبقى هيمنتها مطلقة على جميع مقدرات عالم الجنوب (الزراعية، الصناعية، المالية...).
- انقسام مواقف دول الجنوب نتيجة تدخل دول الشمال في شؤونها.
- البحث بين المتحاورين يتناول مظاهر المشكلات والمصاعب المستجدة بدلاً من العمل على حل جذور المشكلات.
- الرغبة عند عالم الشمال في استمرار تأمين حاجته من المواد الأولية ومصادر الطاقة بأسعار رخيصة نسبيًا.

- استغلال دول الشمال للمؤسسات المالية (البنك الدولي وصندوق النقد الدولي) لفرض الشروط التالية على دول الجنوب: خفض سعر صرف العملة الوطنية - اعتماد سياسة تقشف مالي بخفض الإنفاق وتقليص عدد الموظفين في القطاع العام... - تجميد الأجور - تحرير التجارة الخارجية - خصخصة المؤسسات الرسمية (كهرباء، بريد...). - إلغاء دعم الدولة لبعض السلع الأساسية (قمح، بنزين...). - تطبيق إصلاحات مالية بزيادة الضرائب.
- تحميل عالم الشمال مسؤولية الأوضاع الاجتماعية والبيئية السيئة في عالم الجنوب الذي يهمل معالجتها إلا في حال تهددت مصالحه.

- أذكر أسماء ثلاث دول مصدرة للنفائيات السامة، ومن قارتين مختلفتين، واذكر العالم الذي تنتمي إليه.
- أذكر أسماء ثلاثة مرفأى في ثلاث دول مستقبلة للنفائيات، واذكر العالم الذي تنتمي إليه.
- أوضح السبب الذي يدفع الدول المنتجة للنفائيات إلى تصديرها.
- أذكر السبب الذي يدفع بعض الدول لاستقبال النفائيات.
- بين أهمية الحوار بين العالمين لحل هذه المسألة.



مستند ١٢: أحد المؤتمرات البيئية للأمم المتحدة في كينيا.

- استخلص أهمية عقد مثل هذه المؤتمرات في إحدى دول عالم الجنوب.

١- تطالب دول عالم الشمال من دول عالم الجنوب:

- وضع حد للهجرة غير الشرعية إلى أراضيها لأنها تسبب لها مشاكل اجتماعية متزايدة (مستند ٨).
 - تخفيض معدل النمو الطبيعي للسكان، لأن الانفجار السكاني يحتم ظهور مصاعب اجتماعية خطيرة على السلام العالمي (بطالة، أمية، اضطرابات...).
 - محاربة الإرهاب والحد من انتشار المخدرات وتبييض الأموال*.
- ٢- بالمقابل تطالب دول عالم الجنوب من دول عالم الشمال:
- تقديم الهبات والمساعدات لإزالة المخاطر الاجتماعية التي تهدد مجتمعاتها.
 - السماح بهجرة أبنائها دون قيود تطبيقاً لمبدأ انفتاح الأسواق.

هـ- المبادلات التجارية

- تعمل دول عالم الشمال على تطوير المبادلات التجارية من خلال:
 - الدعوة لفتح أسواق دول عالم الجنوب أمام تدفق سلعها من دون عوائق.
 - اعتبار التجارة الحرة الطريق الأسرع للتنمية الحقيقية.
- أما دول عالم الجنوب فمساهمتها في التجارة قليلة للأسباب التالية:
 - العوائق التي تضعها دول عالم الشمال أمام دخول السلع الزراعية والصناعية المنتجة في عالم الجنوب إلى أسواقها.
 - رفض دول عالم الشمال تزويد دول عالم الجنوب بالآلات التكنولوجية المتطورة لتنمية اقتصادها وشعبها.

ورغم ذلك فهناك أسباب تدفع بعض دول الجنوب لاعتماد نمط التجارة الحرة منها: توفير فرصة الدخول إلى معظم الأسواق العالمية، تحسين نوعية منتجاتها وبالتالي زيادة قدرتها التنافسية، توفير بضائع جيدة لسكانها، وحاجتها للبضائع التي لا تنتجها محليًا.

و- المساعدات (المستندان ٩ و ١٠)

- تشكل المساعدات المقدمة من دول عالم الشمال لدول عالم الجنوب مادة جدلية لا حل لها.
- تقدم دول عالم الشمال الهبات:
 - للدول التي تهيمن عليها في دول عالم الجنوب والتي تتماشى مع سياستها الدولية.
 - للدول التي تسهل دخول الشركات واستثمارات دول عالم الشمال إلى أراضيها.
 - لتأمين تصريف فائض الإنتاج لديها والمحافظة على أسعار السلع مستقبليًا.
 - أما دول عالم الجنوب فتطلب أن تكون المساعدات:
 - دون شروط مسبقة، وتستخدم لحل مشكلات عالم الجنوب التنموية.
 - موجهة مباشرة إلى القطاعات الإنتاجية بدل أن تكون آنية وغير منتجة.
 - موجهة إلى الدول المستحقة للمساعدة بدل توجيهها إلى الدول المولية فقط.

ز- القضايا البيئية

تحظى البيئة حاليًا بالاهتمام العالمي، وتعد من أجل حمايتها المؤتمرات بغية إيجاد الحلول العملية لتفادي أخطار تلوثها. وتتعدد مطالب كل عالم من العالم الآخر في مجال البيئة.

١- تطالب دول عالم الشمال من دول عالم الجنوب:

- تخفيف القيود البيئية في مجالها الجغرافي والقبول باستقبال الصناعات الملوثة في أراضيها.
- القبول باستقبال النفائيات النووية الخطرة وطرحها في أراضيها بغية المحافظة على سلامة البيئة في دول الشمال.
- اتباع الإجراءات المؤدية إلى الحد من المتغيرات المناخية، وفي الوقت عينه، تقوم بتصريف السلع التي تنتجها دول عالم الشمال دون تطبيق هذه الإجراءات.

الدولة	النسبة المئوية للمساعدة %	الدولة	النسبة المئوية للمساعدة %
بوليفيا	٧	هندوراس	٣
كولومبيا	٤٠	المكسيك	٨
الإكوادور	٢	نيكاراغوا	٨
غواتيمالا	٣	البيرو	١١
هايتي	٨	سلفادور	٢
الدول الأخرى	٨	المجموع	١٠٠ %

المصدر: Images économique du monde 2016

مستند ٩: توزع مساعدات الولايات المتحدة على دول أميركا اللاتينية.

- أوضح التباين الظاهر في توزيع المساعدات على الدول.
- حسب معلوماتك هل تضع دول عالم الشمال شروطاً مقابل مساعدتها لدول عالم الجنوب؟ برّر إجابتك.
- أذكر فوائد وسلبيات هذه المساعدات على دول عالم الجنوب.



مستند ١٠: توزيع مساعدات من الأمم المتحدة للصومال.

- حدد نوع هذه المساعدات والمنظمة التي ترعى توزيعها.
- أوضح دلالة هذا النوع من التقديمات.
- أوضح هدف عالم الشمال من هذه المساعدات.

تحليل مستندات: الأسئلة

أولاً: حدّد طبيعة كلّ من المستندين رقم (١) ورقم (٢) وموضوع كلّ منهما.

ثانياً: من خلال المستند رقم (١)، اختر الإجابة الصحيحة.

١- ثلاث دول ومن قارّات مختلفة يتفوّق فيها عدد الطّلاب المغادرين من الدولة على عدد الطّلاب المستقبلية لهم: أ- كينيا - البرازيل - الهند. ب- ألبانيا - مصر - جنوب أفريقيا. ج- الصين - اليابان - المكسيك.	٢- ثلاث دول من عالم الشمال مستقبلية للطّلاب: أ- الولايات المتّحدة - مصر - أستراليا. ب- اليابان - روسيا - كندا. ج- الصين - كوريا الجنوبية - فرنسا.
٣- ثلاث دول من عالم الجنوب يغادر طّلابها إلى عالم الشمال: أ- نيجيريا - البيرو - باكستان. ب- المكسيك - بيلاروسيا - كامبيرون. ج- فيليبين - أوكرانيا - كينيا.	٤- ثلاث دول ومن ثلاث قارات يتدنى فيها عدد الطّلاب المغادرة أو الوافدة: أ- أثيوبيا - تشيلي - البيرو. ب- بنغلادش - إندونيسيا - باناما. ج- الأرجنتين - السودان - أفغانستان.

ثالثاً: من خلال المستندات الثلاثة، أجب بـ «صحّ» (□) أو «خطأ» (□)، ثمّ صحّح الخطأ في الجمل التالية:

- القارّة الأكثر إنتاجاً للأبحاث العلمية هي أفريقيا.
- تعتبر الصين دولة يتفوّق عدد الطّلاب الوافدة إليها عن الطّلاب المغادرة.
- خلّفت السياسات الرأسماليّة للدول الكبرى مآسي على الشركات والمقاولين.
- تستقبل قارّة أوروبا طّلاباً وافدة إليها أكثر من قارّة أميركا.

رابعاً: من خلال المستندين رقم (١) ورقم (٣)، أشطب الدخيل:

- الدول المستقبلية للطّلاب أكثر من الطّلاب المغادرة منها: مصر - روسيا - كندا - الهند.
- المناطق أو القارّات التي تخصّص الأموال للأبحاث العلمية والتطوير وتضمّ دولاً من عالم الشمال: أميركا الشمالية - الشرق الأوسط - آسيا - أوروبا.

خامساً: من خلال المستند رقم (٢)، حدّد:

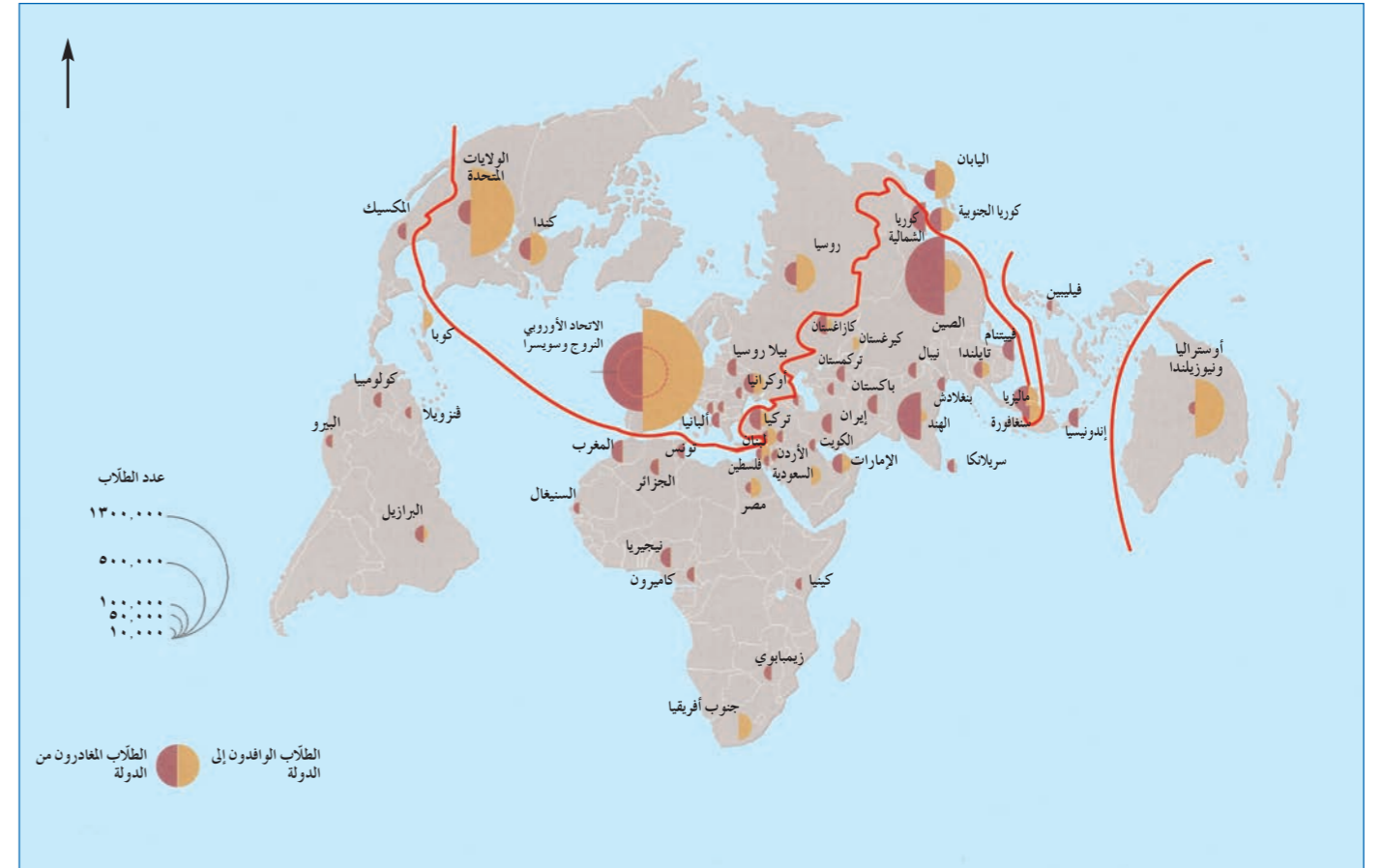
- سياسيتين تتسّتر بهما الدول الكبرى لتعزيز دور شركاتها في دول عالم الجنوب.
- أذكر نتيجة إيجابية واحدة لعمل الشركات في بابوا غينيا ونتيجة سلبية واحدة.

سادساً: بالاعتماد على المستند رقم (١)، حدّد سببين لهجرة المتعلّمين من عالم الجنوب إلى عالم الشمال.

سابعاً: حتمت التناقضات التي خلّفتها العولمة بين عالمي الشمال والجنوب إقامة حوار يسعى لحلّ المشاكل العالقة بينهما.

إنطلاقاً من المستندات والمصطلحات التالية: «الموارد - الهجرة - التلوّث - الشركات المتعدّدة الجنسيات»، ومن معلوماتك المكتسبة، عالج المسألة أعلاه موضعاً:

- دافعين لعقد مؤتمرات الحوار بين عالمي الشمال والجنوب.
- قضيتين يطرحهما كلّ من عالمي الشمال والجنوب.
- عائقين يحولان دون بلوغ مؤتمرات الحوار الأهداف المرجوة.



المصدر: L'atlas du monde diplomatique 2011

مستند ١

نسبة الأموال المخصّصة للأبحاث والتطوير لسنة ٢٠١٨	
المنطقة	النسبة من العالم %
أميركا الشمالية (٣ دول)	٢٧,٣٦
آسيا (٢٤ دولة)	٤٣,٣٦
أوروبا (٣٤ دولة)	٢٠,٢٥
روسيا (٥ دول)	٢,٨
أميركا الجنوبية (١٠ دول)	٢,٢٨
الشرق الأوسط (١٣ دولة)	٢,٥١
أفريقيا (١٨ دولة)	٠,٩٢

المصدر: Images économique du monde 2019

مستند ٣

خلّفت السياسات الرأسمالية للدول الكبرى مآسي وكوارث لشعوب كثيرة من الدول تحت مسمّى تحقيق التنمية وتعزيز الديمقراطية وحقوق الإنسان، والأعمال الإنمائية، إلا أنّ النتائج دائماً كانت سلبية، وبعيدة عن المخطّط له، فضلاً عن أنّها حاولت أن تطيل هذه الكوارث ليصبح الأمر أشبه ما يكون بتجارة كبرى، تدرّ الملايين على الشركات والمقاولين... ويقول «إنشتاين» إنّ بابوا غينيا مبتلية بالشركات المتعدّدة الجنسيات والتي عملت هناك لعقود، حيث تستثمر الملايين من الدولارات في استكشاف ما تبطنه الأرض، في حين أنّ المقيمين يستفيدون القليل من الفوائد الملموسة، ويشاهدون التحسّن الضئيل جداً في معايير المعيشة لديهم. في الوقت الذي كانت الكلفة البيئية لديهم هائلة، والفساد منتشر. باختصار ما يسمّى لعنة الموارد يظهر بأنّه حقيقي وموجود على نحو كبير منها.

المصدر: نضال إبراهيم، مجلة الشروق ٢٤/١٠/٢٠١٨

مستند ٢